


ಎಸ್.ಎಸ್.ಎಲ್.ಸಿ.

ಸವಿ ದಿಕ್ಕೂಚಿ

ಯಶಸ್ವಿನೆಡೆಗೆ ಸಿದ್ಧತೆ...

ಜಿರಬಿಗ ಪ್ರಶ್ನೆಪತ್ರಿಕೆಗಳ ಅಧ್ಯಯನವಾರು ವಿಶ್ಲೇಷಣೆ
(2015-22)



ರಚನೆ

ಮಹಾದೇವಪ್ಪ. ಕುಂದರಗಿ

ಸರ್ಕಾರಿ ಪ್ರೌಢಶಾಲೆ ಆವತಿ. ಚಿಕ್ಕಮಗಳೂರು



ಕೊಡುಗೆ

ಸಮಾಜವಿಜ್ಞಾನ ಎಸ್.ಟಿ.ಎಫ್. ಕರ್ನಾಟಕ ಡಿಜಿಟಲ್ ಗ್ರೂಪ್

ಸವಿ ದಿಕ್ಸೂಚಿ

ಯಶಸ್ಸಿನಡೆಗೆ ಸಿದ್ಧತೆ.....

ಹಿಂದಿನ ಪ್ರಶ್ನೆಪತ್ರಿಕೆಗಳಲ್ಲಿನ
ಪ್ರಶ್ನೆಗಳ ಅಧ್ಯಯನವಾರು ವಿಶ್ಲೇಷಣೆ

ರಚನೆ

ಮಹಾದೇವಪ್ಪ ಕುಂದರಗಿ

ಸರಕಾಲಿ ಪ್ರೌಢಶಾಲೆ ಅವತಿ

ಚಿಕ್ಕಮಗಳೂರು ಜಿಲ್ಲೆ

ಕೊಡುಗೆ



ಸಮಾಜವಿಜ್ಞಾನ ಎಸ್.ಟಿ.ಎಫ್. ಕರ್ನಾಟಕ
ಡಿಜಿಟಲ್ ಗ್ರೂಪ್

ಆಶಯ ನುಡಿ

ವಿದ್ಯಾರ್ಥಿ ಜೀವನದಲ್ಲಿ 10ನೇ ತರಗತಿಯ ವಾರ್ಷಿಕ ಪರೀಕ್ಷೆಯು ಒಂದು ಮಹತ್ವಪೂರ್ಣ ಘಟ್ಟ. ಈ ಪರೀಕ್ಷೆಯನ್ನು ಎದುರಿಸಲು ನಾವು ವಿದ್ಯಾರ್ಥಿಗಳನ್ನು ಶೈಕ್ಷಣಿಕ ವರ್ಷದ ಪ್ರಾರಂಭದಿಂದಲೇ ಮಾನಸಿಕವಾಗಿ ಹಾಗೂ ಬೌದ್ಧಿಕವಾಗಿ ತಯಾರು ಮಾಡಬೇಕಾಗಿದೆ. ಈ ಹಿನ್ನೆಲೆಯಲ್ಲಿ ನಾವು ಹಿಂದಿನ ವರ್ಷಗಳ ವಾರ್ಷಿಕ ಹಾಗೂ ಪೂರಕ ಪರೀಕ್ಷೆಗಳ ಪ್ರಶ್ನೆಪತ್ರಿಕೆಗಳನ್ನು ವಿಶ್ಲೇಷಣೆ ಮಾಡಿ ಪ್ರತಿ ಅಧ್ಯಾಯದಲ್ಲಿ ಕೇಳಿದ ಪ್ರಶ್ನೆಗಳನ್ನು ಅಧ್ಯಾಯವಾರು ಸಂಗ್ರಹಿಸಿಡುವ ಒಂದು ಸಣ್ಣ ಪ್ರಯತ್ನವನ್ನು ಈ "ನನಿ ದಿಕ್ಕೂಟ" ಯಲ್ಲಿ ಮಾಡಲಾಗಿದೆ. ಇದರಿಂದ ಒಂದೇ ಉತ್ತರವನ್ನು ಬಯಸುವ, ಒಂದು ಪ್ರಶ್ನೆಯನ್ನು ಕೇಳುವ ಶೈಲಿಯು ಹೇಗೆ ಭಿನ್ನವಾಗಿರುತ್ತದೆ? ಎಂಬುದನ್ನು ತಿಳಿಯಲು ಸಹಾಯಕವಾಗುತ್ತದೆ. ಅಂದರೆ ಪ್ರಶ್ನೆಗಳನ್ನು ಕೇಳುವ ಶೈಲಿಯು ಭಿನ್ನವಾಗಿದ್ದರೂ ಉತ್ತರ ಒಂದೇ ಆಗಿರುತ್ತದೆ.

ಈ "ನನಿ ದಿಕ್ಕೂಟ" ಯು ಈ ಕೆಳಗಿನ ಪ್ರಶ್ನೆ ಪತ್ರಿಕೆಗಳ ಪ್ರಶ್ನೆಗಳನ್ನು ಒಳಗೊಂಡಿರುತ್ತದೆ. (8+8=16 ಪ್ರಶ್ನೆಪತ್ರಿಕೆಗಳು)

ವಾರ್ಷಿಕ ಪರೀಕ್ಷೆ - 2015, 2016, 2017, 2018, 2019, 2020, 2021, 2022

ಪೂರಕ ಪರೀಕ್ಷೆ - 2015, 2016, 2017, 2018, 2019, 2020, 2021, 2022

ಇಲ್ಲಿ ಎಪ್ರಿಲ್ 2015 ರಿಂದ ಜೂನ್ 2022 ರ ವರೆಗೆ ವರ್ಷವಾರು ಪ್ರಶ್ನೆಗಳನ್ನು ಜೋಡಿಸದೇ ಒಂದೇ ಉತ್ತರ ಬಯಸುವ ಪ್ರಶ್ನೆಗಳನ್ನು ಒಂದೆಡೆ ಜೋಡಿಸಲಾಗಿದೆ. ಅಲ್ಲದೇ ಪ್ರತಿ ಅಧ್ಯಾಯದಲ್ಲಿಯ ಪರಿಕಲ್ಪನೆಗಳ ಕ್ರಮಾನುಗತ ರೀತಿಯಲ್ಲಿ ಪ್ರಶ್ನೆಗಳನ್ನು ಜೋಡಿಸಿದೆ.

12	❖ ಭಾರತದಲ್ಲಿ ನವ ಜಾಗೃತಿಯ ಉದಯಕ್ಕೆ ಶಿಕ್ಷಣವು ಹೇಗೆ ಪ್ರಮುಖ ಪಾತ್ರವಹಿಸಿತು?	3	ಜೂನ್ 2015
	❖ ಭಾರತೀಯ ಶಿಕ್ಷಣ ಕ್ಷೇತ್ರದ ಮೇಲೆ ಬ್ರಿಟಿಷ್ ಆಡಳಿತವು ಮಹತ್ತರ ಪರಿಣಾಮಗಳನ್ನು ಬೀರಿತು. ಸಮರ್ಥಿಸಿ	3	ಜೂನ್ 2017
	❖ ಶಿಕ್ಷಣದ ಬೆಳವಣಿಗೆಯು ಭಾರತದ ಸ್ವಾತಂತ್ರ್ಯ ಚಳುವಳಿಗೆ ನಾಂದಿಯಾಯಿತು. ವಿವರಿಸಿ.	3	ಜೂನ್ 2018
	❖ ಬ್ರಿಟಿಷ್ ಶಿಕ್ಷಣ ವ್ಯವಸ್ಥೆಯು ಅಭಿವೃದ್ಧಿಶೀಲ ಆಲೋಚನೆಗಳನ್ನೊಳಗೊಂಡ ಒಂದು ಹೊಸ ತಲೆಮಾರನ್ನು ಸೃಷ್ಟಿಸಿತು. ಸಮರ್ಥಿಸಿ.	3	ಏಪ್ರಿಲ್ 2019
	❖ ಬ್ರಿಟಿಷ್ ಶಿಕ್ಷಣದ ಪ್ರಭಾವದಿಂದ ಉಂಟಾದ ಅಭಿರುಚಿ ಮತ್ತು ಆಲೋಚನೆಗಳು ಭಾರತದಲ್ಲಿ ಹೊಸ ತಲೆಮಾರುಗಳ ಸೃಷ್ಟಿಗೆ ಹೇಗೆ ಕಾರಣವಾದವು?	3	ಜೂನ್ 2020
	❖ ಭಾರತದಲ್ಲಿ ಬ್ರಿಟಿಷ್ ಶಿಕ್ಷಣದ ಪರಿಣಾಮಗಳೇನು?	3	ಏಪ್ರಿಲ್ 2022
	❖ ಬ್ರಿಟಿಷ್ ಶಿಕ್ಷಣವು ಭಾರತೀಯರ ಮೇಲೆ ಹೇಗೆ ಪ್ರಭಾವ ಬೀರಿತು?	3	ಜೂನ್ 2022

ಈ ಎಲ್ಲ ಪ್ರಶ್ನೆಗಳ ಉತ್ತರ ಒಂದೇ ಆಗಿರುತ್ತದೆ.

ಹೀಗೆ ವಿದ್ಯಾರ್ಥಿಗಳಿಗೆ ಮನವರಿಕೆ ಮಾಡುವುದರ ಮೂಲಕ ಪರೀಕ್ಷಾ ಭಯವನ್ನು ಹೋಗಲಾಡಿಸುವುದರ ಜೊತೆಗೆ ಎಲ್ಲ ಪ್ರಶ್ನೆಗಳಿಗೆ ಉತ್ತರಿಸಲು ಸಾಧ್ಯವಾಗುವಂತೆ ಮಾಡುವುದಾಗಿದೆ.

ಈ "ನನಿ ದಿಕ್ಕೂಟ" ಯ ಮುಖಪುಟವನ್ನು ಅಚ್ಚುಕಟ್ಟಾಗಿ ವಿನ್ಯಾಸಗೊಳಿಸಿದ ನಮ್ಮ ತಂಡದ ವಾಸು ಶ್ಯಾಗೋಟಿ, ಹಾವೇರಿ ಜಿಲ್ಲೆ ಇವರಿಗೂ ಮತ್ತು ಈ ಹೊತ್ತಿಗೆಯ ರಚನೆಯಲ್ಲಿ ತಮ್ಮ ಸಲಹೆ/ಮಾರ್ಗದರ್ಶನ ನೀಡಿದ ನಮ್ಮ SS STF DIGITAL GROUP ನ ಎಲ್ಲ ಸದಸ್ಯರಿಗೂ ಹೃದಯಪೂರ್ವಕ ನಮನಗಳು.

ತಮ್ಮ ಅಮೂಲ್ಯವಾದ ಸಲಹೆಗಳನ್ನು ನೀಡಿಸುವ,

ಮಹಾದೇವಪ್ಪ ಕುಂದರಗಿ,

ಸರ್ಕಾರಿ ಪ್ರೌಢ ಶಾಲೆ ಆವತಿ,

ಚಿಕ್ಕಮಗಳೂರು ತಾ & ಜಿ.

9481216233

ಪರಿವಿಡಿ

ಕ್ರ.ಸಂ.	ಅಧ್ಯಾಯಗಳು	ಪುಟ ಸಂಖ್ಯೆ
	ಇತಿಹಾಸ	
	ಪ್ರಶ್ನೆ ಪತ್ರಿಕೆ ವಿನ್ಯಾಸ	1
1	ಭಾರತಕ್ಕೆ ಯುರೋಪಿಯನ್ನರ ಆಗಮನ	3
2	ಬ್ರಿಟಿಷ್ ಆಳ್ವಿಕೆಯ ವಿಸ್ತರಣೆ	4
3	ಭಾರತದಲ್ಲಿ ಬ್ರಿಟಿಷ್ ಆಳ್ವಿಕೆಯ ಪರಿಣಾಮಗಳು	5
4	ಕರ್ನಾಟಕದಲ್ಲಿ ಬ್ರಿಟಿಷ್ ಆಳ್ವಿಕೆಗೆ ಪ್ರತಿರೋಧಗಳು ಮತ್ತು ಮೈಸೂರಿನ ಒಡೆಯರು	6
5	ಸಾಮಾಜಿಕ ಮತ್ತು ಧಾರ್ಮಿಕ ಸುಧಾರಣಾ ಚಳುವಳಿಗಳು	7
6	ಭಾರತದ ಪ್ರಥಮ ಸ್ವಾತಂತ್ರ್ಯ ಸಂಗ್ರಾಮ (1857)	8
7	ಸ್ವಾತಂತ್ರ್ಯ ಹೋರಾಟ	9
8	ಸ್ವಾತಂತ್ರ್ಯೋತ್ತರ ಭಾರತ	10
9	ಮಹಾಯುದ್ಧಗಳು ಮತ್ತು ಭಾರತದ ಪಾತ್ರ	12
	ರಾಜ್ಯಶಾಸ್ತ್ರ	
1	ಭಾರತಕ್ಕಿರುವ ಸವಾಲುಗಳು ಹಾಗೂ ಅವುಗಳ ಪರಿಹಾರೋಪಾಯಗಳು	12
2	ಅನ್ಯರಾಷ್ಟ್ರಗಳೊಂದಿಗೆ ಭಾರತ ಸಂಬಂಧ	14
3	ಜಾಗತಿಕ ಸವಾಲುಗಳು ಹಾಗೂ ಭಾರತದ ಪಾತ್ರ	14
4	ಜಾಗತಿಕ ಸಂಸ್ಥೆಗಳು	15
	ಸಮಾಜಶಾಸ್ತ್ರ	
1	ಸಾಮಾಜಿಕ ಸ್ತರ ವಿನ್ಯಾಸ	17
2	ದುಡಿಮೆ ಮತ್ತು ಆರ್ಥಿಕ ಜೀವನ	18
3	ಸಾಮೂಹಿಕ ವರ್ತನೆ ಮತ್ತು ಪ್ರತಿಭಟನೆಗಳು	18
4	ಸಾಮಾಜಿಕ ಸವಾಲುಗಳು	19

ಭೂಗೋಳಶಾಸ್ತ್ರ

1	ಭಾರತ: ಭೌಗೋಳಿಕ ಸ್ಥಾನ ಹಾಗೂ ಪ್ರಾಕೃತಿಕ ಲಕ್ಷಣಗಳು	20
2	ಭಾರತದ ಋತುಗಳು	21
3	ಭಾರತದ ಮಣ್ಣುಗಳು	22
4	ಭಾರತದ ಅರಣ್ಯಗಳು	23
5	ಭಾರತದ ಜಲಸಂಪನ್ಮೂಲಗಳು	24
6	ಭಾರತದ ಭೂ ಬಳಕೆ ಹಾಗೂ ಕೃಷಿ	25
7	ಭಾರತದ ಖನಿಜ ಹಾಗೂ ಶಕ್ತಿಸಂಪನ್ಮೂಲಗಳು	26
8	ಭಾರತದ ಸಾರಿಗೆ ಮತ್ತು ಸಂಪರ್ಕ	27
9	ಭಾರತದ ಪ್ರಮುಖ ಕೈಗಾರಿಕೆಗಳು	28
10	ಭಾರತದ ನಿಸರ್ಗ ವಿಕೋಪಗಳು	29

ಅರ್ಥಶಾಸ್ತ್ರ

1	ಅರ್ಥವ್ಯವಸ್ಥೆ ಮತ್ತು ಸರ್ಕಾರ	30
2	ಗ್ರಾಮೀಣಾಭಿವೃದ್ಧಿ	30
3	ಸಾರ್ವಜನಿಕ ಹಣಕಾಸು ಹಾಗೂ ಆಯ-ವ್ಯಯ	31

ವ್ಯವಹಾರ ಅಧ್ಯಯನ

1	ಬ್ಯಾಂಕ್ ವ್ಯವಹಾರಗಳು	32
2	ಉದ್ಯಮಶೀಲತೆ	34
3	ಗ್ರಾಹಕ ಶಿಕ್ಷಣ ಮತ್ತು ರಕ್ಷಣೆ	34

ಸಮಾಜ ವಿಜ್ಞಾನ ಎಸ್.ಎಸ್.ಎಲ್.ಸಿ. ಪ್ರಶ್ನೆ ಪತ್ರಿಕೆ ವಿನ್ಯಾಸ

ಆಯಾಮ - 1		ಥೀಮ್ ವಾರು (ವಿಭಾಗವಾರು)
ಕ್ರ.ಸಂ.	ಥೀಮ್ (ವಿಭಾಗ)	ಅಂಕಗಳು
1	ಇತಿಹಾಸ	25
2	ರಾಜ್ಯಶಾಸ್ತ್ರ	11
3	ಸಮಾಜಶಾಸ್ತ್ರ	08
4	ಭೂಗೋಳಶಾಸ್ತ್ರ	22
5	ಅರ್ಥಶಾಸ್ತ್ರ	07
6	ವ್ಯವಹಾರ ಅಧ್ಯಯನ	07
ಒಟ್ಟು		80

ಉದ್ದಿಷ್ಟವಾರು ಅಂಕ ಹಂಚಿಕೆ

ಆಯಾಮ - 2		ಅಂಕಗಳ ಹಂಚಿಕೆ	
ಕ್ರ.ಸಂ.	ಸಾಮರ್ಥ್ಯ	ಅಂಕ	ಶೇಕಡವಾರು
01	ಸ್ಮರಣೆ	13	16%
02	ತಿಳುವಳಿಕೆ	40	50%
03	ಅನ್ವಯ	22	28%
04	ಕೌಶಲ	05	6%
ಒಟ್ಟು		80	100%

ಕ್ಷಿಪ್ತಾನುಸಾರ ಅಂಕ ಹಂಚಿಕೆ

ಕ್ರ.ಸಂ.	ಕಠಿಣತೆಯ ಮಟ್ಟ	ಅಂಕಗಳು	ಶೇಕಡವಾರು
01	ಸುಲಭ	24	30%
02	ಸಾಮಾನ್ಯ	40	50%
03	ಕಠಿಣ	16	20%
ಒಟ್ಟು		80	100%

ಪ್ರಶ್ನಾನುಸಾರ ಅಂಕ ಹಂಚಿಕೆ (ಪ್ರಶ್ನೆ ಸ್ವರೂಪ)

	ಪ್ರಶ್ನೆಗಳು	ಪ್ರಶ್ನೆಗಳ ಸಂಖ್ಯೆ	ಅಂಕಗಳು
01	ಬಹುಆಯ್ಕೆ ಪ್ರಶ್ನೆಗಳು	08	08
02	1 ಅಂಕ	08	08
03	2 ಅಂಕಗಳು	08	16
04	3 ಅಂಕಗಳು	09	27
05	4 ಅಂಕಗಳು	04	16
06	5 ಅಂಕಗಳು (ನಕ್ಷೆ)	01	05
ಒಟ್ಟು		38	80

ವಿಷಯಾನುಸಾರ ಅಂಕ ಹಂಚಿಕೆ

	ಥೀಮ್ ವಾರು (ವಿಭಾಗವಾರು)	ಬ.ಆ. ಪ್ರಶ್ನೆಗಳು	1 ಅಂಕಗಳು	2 ಅಂಕಗಳು	3 ಅಂಕಗಳು	4 ಅಂಕಗಳು	5 ಅಂಕಗಳು	ಪ್ರಶ್ನೆಗಳು	ಅಂಕಗಳು
01	ಇತಿಹಾಸ	02	02	02	03	02	---	11	25
02	ರಾಜ್ಯಶಾಸ್ತ್ರ	01	01	01	01	01	---	05	11
03	ಸಮಾಜಶಾಸ್ತ್ರ	02	01	01	01	---	---	05	08
04	ಭೂಗೋಳಶಾಸ್ತ್ರ	01	02	02	02	01	01	09	22
05	ಅರ್ಥಶಾಸ್ತ್ರ	01	01	01	01	---	---	04	07
06	ವ್ಯವಹಾರ ಅಧ್ಯಯನ	01	01	01	01	---	---	04	07
	ಒಟ್ಟು	08	08	08	09	04	01	38	80

-: ಸೂಚನೆಗಳು :-

- ❖ 4 ಅಂಕಗಳ 4 ಪ್ರಶ್ನೆಗಳಿದ್ದು 1 ಪ್ರಶ್ನೆಗೆ ಮಾತ್ರ ಆಯ್ಕೆಯನ್ನು ನೀಡಲಾಗಿದೆ. ಆ ಆಯ್ಕೆ ಪ್ರಶ್ನೆಯನ್ನು ಇತಿಹಾಸ ಥೀಮ್(ವಿಭಾಗ)ನಿಂದಲೇ ಕೊಡಬೇಕು.
- ❖ 3 ಅಂಕಗಳ 9 ಪ್ರಶ್ನೆಗಳಿದ್ದು, ಅವುಗಳಲ್ಲಿ 4 ಪ್ರಶ್ನೆಗಳಿಗೆ ಮಾತ್ರ ಆಯ್ಕೆಯನ್ನು ನೀಡಲಾಗಿದೆ. ಆ ಆಯ್ಕೆ ಪ್ರಶ್ನೆಗಳನ್ನು ಇತಿಹಾಸ, ಭೂಗೋಳಶಾಸ್ತ್ರ, ಅರ್ಥಶಾಸ್ತ್ರ ಮತ್ತು ವ್ಯವಹಾರ ಅಧ್ಯಯನದಿಂದ ಮಾತ್ರ ಕೊಡಬೇಕು.
- ❖ 2 ಅಂಕಗಳ 8 ಪ್ರಶ್ನೆಗಳಿದ್ದು ಅವುಗಳಲ್ಲಿ 2 ಪ್ರಶ್ನೆಗಳಿಗೆ ಮಾತ್ರ ಆಯ್ಕೆಯನ್ನು ನೀಡಲಾಗಿದೆ. ಆ ಆಯ್ಕೆ ಪ್ರಶ್ನೆಗಳನ್ನು ರಾಜ್ಯಶಾಸ್ತ್ರ ಮತ್ತು ಸಮಾಜಶಾಸ್ತ್ರದಿಂದ ಮಾತ್ರ ಕೊಡಬೇಕು.
- ❖ ನಕ್ಷೆ ಬರೆದು ಕೊಟ್ಟಿರುವ ಸ್ಥಳಗಳನ್ನು ಗುರುತಿಸುವ ಪ್ರಶ್ನೆಯನ್ನು ಭೂಗೋಳಶಾಸ್ತ್ರದಿಂದ ಮಾತ್ರ ಕೇಳಬೇಕು ಮತ್ತು ಗುರುತಿಸಲು ಕೊಡುವಂತಹ ಸ್ಥಳಗಳು, ನದಿಗಳು, ಯೋಜನೆಗಳು, ಸ್ವಾಭಾವಿಕ ವಿಭಾಗಗಳು ಇತ್ಯಾದಿಗಳು... ಪಠ್ಯಪುಸ್ತಕದ ನಕ್ಷೆಯಲ್ಲಿ ನೀಡಿರುವುದನ್ನು ಮತ್ತು ವಿವರಣೆಯಲ್ಲಿ ನೀಡಿರುವುದನ್ನು ಮಾತ್ರ ಕೊಡಬೇಕು.
- ❖ ಪ್ರಶ್ನೆ ಪತ್ರಿಕೆ ತಯಾರಿಸುವ ಸಂದರ್ಭದಲ್ಲಿ ವಿಷಯವಾರು, ವಿಭಾಗವಾರು ಮತ್ತು ಉದ್ದೇಶವಾರು ನೀಡಿರುವ ಅಂಕಗಳಿಗೆ ಅನುಗುಣವಾಗಿ ಪ್ರಶ್ನೆ ಪತ್ರಿಕೆ ತಯಾರಿಸಬೇಕು.

ಖುಷಿಹಾಸ

ಅಧ್ಯಾಯ - 1 : ಭಾರತಕ್ಕೆ ಯುರೋಪಿಯನ್ನರ ಆಗಮನ

1, 2 ಅಂಕಗಳು

ಕ್ರ.ಸಂ	ಪ್ರಶ್ನೆಗಳು	ಅಂಕ	ವರ್ಷ
1	❖ ಯುರೋಪಿನ ದೇಶಗಳ ಮೇಲೆ ವ್ಯಾಪಾರದ ಏಕಸ್ವಾಮ್ಯವನ್ನು ಸಾಧಿಸಿದ ವರ್ತಕರು A) ಇಟಲಿಯ ವರ್ತಕರು B) ಅರಬ್ ವರ್ತಕರು C) ಫ್ರೆಂಚ್ ವರ್ತಕರು D) ಭಾರತೀಯ ವರ್ತಕರು	1	ಜೂನ್ 2019
2	❖ 1453ರಲ್ಲಿ ಕಾನ್ ಸ್ಟಾಂಟಿನೋಪಲ್ ನಗರವನ್ನು ವಶಪಡಿಸಿಕೊಂಡವರು A) ಅರಬ್ಬರು B) ಅಟೋಮನ್ ಟರ್ಕರು C) ಇಟಲಿಯನ್ನರು D) ಪೋರ್ಚುಗೀಸರು	1	ಜೂನ್ 2020
3	❖ ಕಾನ್ ಸ್ಟಾಂಟಿನೋಪಲನ್ನು ಯುರೋಪಿಯನ್ ವ್ಯಾಪಾರದ ದ್ವಾರವೆಂದು ಪರಿಗಣಿಸಲಾಗಿತ್ತು. ಏಕೆಂದರೆ A) ಅಂತರರಾಷ್ಟ್ರೀಯ ವ್ಯಾಪಾರ ಮಾರ್ಗಗಳ ಕೇಂದ್ರ B) ಅದೊಂದೇ ಜಲಮಾರ್ಗವಾಗಿತ್ತು C) ರೋಮನ್ ಸಾಮ್ರಾಜ್ಯದ ರಾಜಧಾನಿ D) ಯುರೋಪಿಯನ್ನರ ಸಂಪನ್ಮೂಲಗಳ ಏಕೈಕ ಮೂಲ	1	ಜುಲೈ 2021
4	❖ ಭಾರತ ಮತ್ತು ಯುರೋಪ್ ನಡುವೆ ಹೊಸ ಜಲಮಾರ್ಗವನ್ನು ಕಂಡುಹಿಡಿದವನು A) ಕೊಲಂಬಸ್ B) ವಾಸ್ಕೊಡಗಾಮ C) ಅಲೆಡೆ D) ಅಲ್ಬುಕರ್ಕ್	1	ಏಪ್ರಿಲ್ 2022
5	❖ 1764 ರಲ್ಲಿ ಬಂಗಾಳದಲ್ಲಿ ನಡೆದ ಕದನ A) ಪಾಣಿಪತ್ ಕದನ B) ಬಕ್ಸಾರ್ ಕದನ C) ಕಣ್ಣ ಕದನ D) ಪ್ಲಾಸಿ ಕದನ	1	ಸೆಪ್ಟೆಂಬರ್ 2021
6	❖ ಬ್ರಿಟಿಷರು ಭಾರತದಲ್ಲಿ ತಮ್ಮ ಹಿತಾಸಕ್ತಿಗಾಗಿ ರಾಜಕೀಯ ಪರಮಾಧಿಕಾರವನ್ನು ಹೇಗೆ ಸ್ಥಾಪಿಸಿದರು?	1	ಜೂನ್ 2019
7	❖ ಬಂಗಾಳದಲ್ಲಿ ದ್ವಿಪ್ರಭುತ್ವವನ್ನು ಚಾರಿಗೆ ತಂದವನು ಯಾರು?	1	ಜೂನ್ 2020
8	❖ ರಾಬರ್ಟ್ ಕ್ಲೈವನ ದ್ವಿಮುಖ ಸರ್ಕಾರವನ್ನು ವಿವರಿಸಿ. ❖ ದ್ವಿ- ಸರ್ಕಾರ ಪದ್ಧತಿಯನ್ನು ವಿವರಿಸಿ.	2 2	ಏಪ್ರಿಲ್ 2015 ಏಪ್ರಿಲ್ 2017
9	❖ ಭಾರತಕ್ಕೆ ಹೊಸ ಜಲಮಾರ್ಗ ಕಂಡು ಹಿಡಿಯಲು ಪ್ರೇರೇಪಿಸಿದ್ದು, ಏನು? ❖ ಯುರೋಪಿಯನ್ನರು ಭಾರತಕ್ಕೆ ಹೊಸ ಜಲಮಾರ್ಗವನ್ನು ಕಂಡುಹಿಡಿಯಲು ಪ್ರೇರಣೆ ನೀಡಿದ ಅಂಶಗಳಾವುವು? ❖ ಭಾರತಕ್ಕೆ ಹೊಸ ಜಲಮಾರ್ಗವನ್ನು ಕಂಡುಹಿಡಿಯಲು ಯುರೋಪಿಯನ್ನರಿಗೆ ಸಹಾಯಕವಾದ ಅಂಶಗಳಾವುವು? ❖ ಭಾರತಕ್ಕೆ ಹೊಸ ಜಲಮಾರ್ಗವನ್ನು ಕಂಡುಹಿಡಿಯಲು ಯುರೋಪಿಯನ್ನರನ್ನು ಪ್ರೇರೇಪಿಸಿದ ಅಂಶಗಳಾವುವು? ❖ "ಸಮುದ್ರಯಾನಕ್ಕೆ ವೈಜ್ಞಾನಿಕ ಬೆಳವಣಿಗೆಯು ಕಾರಣ" ಈ ಹೇಳಿಕೆಯನ್ನು ಸಮರ್ಥಿಸಿ.(ಏಪ್ರಿಲ್ 2016)	2 2 2 2 2	ಏಪ್ರಿಲ್ 2015 ಜೂನ್ 2015 ಏಪ್ರಿಲ್ 2018 ಸೆಪ್ಟೆಂಬರ್ 2020 ಜೂನ್ 2016
10	❖ ಪ್ಲಾಸಿ ಕದನದ ಪರಿಣಾಮಗಳೇನು?	2	ಜೂನ್ 2015

	❖ ಪ್ಲಾಸಿ ಕದನದ ಪರಿಣಾಮಗಳೇನು?	2	ಜೂನ್ 2017
11	❖ ಬಕ್ಸಾರ್ ಕದನದ ಫಲಿತಾಂಶಗಳೇನು?	2	ಏಪ್ರಿಲ್ 2018
	❖ ಬಕ್ಸಾರ್ ಕದನವು ಬ್ರಿಟಿಷರಿಗೆ ಅನೇಕ ಸೌಲಭ್ಯಗಳನ್ನು ಪಡೆಯಲು ಸಹಾಯ ಮಾಡಿತು. ಸ್ವೀಕರಿಸಿ.	2	ಏಪ್ರಿಲ್ 2019
	❖ ಬಕ್ಸಾರ್ ಕದನದ ಪರಿಣಾಮಗಳೇನು?	2	ಏಪ್ರಿಲ್ 2022
	❖ ಬಕ್ಸಾರ್ ಕದನದ ಪರಿಣಾಮಗಳನ್ನು ತಿಳಿಸಿ.	2	ಜೂನ್ 2022
ಅಧ್ಯಾಯ - 2 : ಬ್ರಿಟಿಷ್ ಆಳ್ವಿಕೆಯ ವಿಸ್ತರಣೆ			1,2 ಅಂಕಗಳು
1	❖ ಸಹಾಯಕ ಸೈನ್ಯ ಪದ್ಧತಿಯನ್ನು ಜಾರಿಗೆ ತಂದ ಗವರ್ನರ್ ಜನರಲ್ A) ಲಾರ್ಡ್ ಕರ್ಜನ್ B) ಲಾರ್ಡ್ ಡಾಲ್ ಹೌಸಿ C) ಲಾರ್ಡ್ ವೆಲ್ಲೆಸ್ಲಿ D) ಲಾರ್ಡ್ ಕಾರ್ನ್ ವಾಲಿಸ್	1	ಏಪ್ರಿಲ್ 2015
	❖ ಸಹಾಯಕ ಸೈನ್ಯ ಪದ್ಧತಿಯನ್ನು ಜಾರಿಗೆ ತಂದ ಗವರ್ನರ್ ಜನರಲ್ A) ವಾರನ್ ಹೇಸ್ಟಿಂಗ್ಸ್ B) ಲಾರ್ಡ್ ವೆಲ್ಲೆಸ್ಲಿ C) ಲಾರ್ಡ್ ಡಾಲ್ ಹೌಸಿ D) ಲಾರ್ಡ್ ಕಾರನ್‌ವಾಲಿಸ್	1	ಜೂನ್ 2018
	❖ ಸಹಾಯಕ ಸೈನ್ಯ ಪದ್ಧತಿಯನ್ನು ಜಾರಿಗೆ ತಂದವರು ಯಾರು?	1	ಜೂನ್ 2022
2	❖ 'ದತ್ತು ಮಕ್ಕಳಿಗೆ ಹಕ್ಕಿಲ್ಲ' ನೀತಿಯನ್ನು ಜಾರಿಗೆ ತಂದ ಗವರ್ನರ್ ಜನರಲ್ A) ಲಾರ್ಡ್ ವೆಲ್ಲೆಸ್ಲಿ B) ಲಾರ್ಡ್ ಕಾರ್ನ್ ವಾಲಿಸ್ C) ಲಾರ್ಡ್ ಡಾಲ್ ಹೌಸಿ D) ಲಾರ್ಡ್ ವಿಲಿಯಂ ಬೆಂಟಿಕ್	1	ಜೂನ್ 2019
3	❖ ಸಾಲ್ ಬಾಯ್ ಒಪ್ಪಂದದೊಂದಿಗೆ ಕೊನೆಗೊಂಡ ಯುದ್ಧ A) ಎರಡನೇ ಆಂಗ್ಲೋ-ಮರಾಠ ಯುದ್ಧ B) ಎರಡನೇ ಆಂಗ್ಲೋ-ಸಿಖ್ ಯುದ್ಧ C) ಮೊದಲನೇ ಆಂಗ್ಲೋ-ಮರಾಠ ಯುದ್ಧ D) ಮೊದಲನೇ ಆಂಗ್ಲೋ-ಮೈಸೂರು ಯುದ್ಧ	1	ಸೆಪ್ಟೆಂಬರ್ 2020
4	❖ 1798ರ ನಂತರ ಹೈದರಾಬಾದ್ ಸಂಸ್ಥಾನವು ತನ್ನ ಪ್ರಾಂತ್ಯದಲ್ಲಿ ಬ್ರಿಟಿಷರ ಒಂದು ಸೈನಿಕ ತುಕಡಿಯನ್ನು ಇರಿಸಿಕೊಳ್ಳಬೇಕಾಗಿತ್ತು. ಏಕೆ?	1	ಸೆಪ್ಟೆಂಬರ್ 2020
5	❖ ಮೊದಲನೇ ಆಂಗ್ಲೋ ಮರಾಠ ಯುದ್ಧವನ್ನು ಕೊನೆಗೊಳಿಸಿದ ಒಪ್ಪಂದ A) ಬೆಸ್ಸಿನ್ ಒಪ್ಪಂದ B) ಸಾಲ್ಬಾಯಿ ಒಪ್ಪಂದ C) ಅಲಹಾಬಾದ್ ಒಪ್ಪಂದ D) ಲಾಹೋರ್ ಒಪ್ಪಂದ	1	ಜುಲೈ 2021
6	❖ ಬ್ರಿಟಿಷ್ ಮತ್ತು ಸಿಖ್ ರ ನಡುವೆ ಸಹಿ ಹಾಕಲ್ಪಟ್ಟ ಒಪ್ಪಂದ A) ಸಾಲ್ ಬಾಯ್ ಒಪ್ಪಂದ B) ಬೆಸ್ಸಿನ್ ಒಪ್ಪಂದ C) ಲಾಹೋರ್ ಒಪ್ಪಂದ D) ದೆಹಲಿ ಒಪ್ಪಂದ	1	ಸೆಪ್ಟೆಂಬರ್ 2021
7	❖ ಮೊದಲನೇ ಆಂಗ್ಲೋ-ಮರಾಠ ಯುದ್ಧದ ಬಳಿಕ ಪೇಶ್ವೆಯಾದವನು A) ನಾರಾಯಣರಾವ್ B) ಎರಡನೇ ಮಾಧವರಾವ್ C) ನಾನಾ ಫಡ್ನವೀಸ್ D) ರಘುನಾಥ ರಾವ್	1	ಜೂನ್ 2022
8	❖ ವೆಲ್ಲೆಸ್ಲಿಯು ಏಕೆ ತನ್ನ ಹುದ್ದೆಗೆ ರಾಜೀನಾಮೆ ನೀಡಿ ಇಂಗ್ಲೆಂಡಿಗೆ ಮರಳಿದನು?	1	ಏಪ್ರಿಲ್ 2022
9	❖ ಸಹಾಯಕ ಸೈನ್ಯ ಪದ್ಧತಿಯು ಭಾರತೀಯ ಸಂಸ್ಥಾನಗಳನ್ನು ಹೇಗೆ ನಿಯಂತ್ರಿಸಿತ್ತು? ❖ ಸಹಾಯಕ ಸೈನ್ಯ ಪದ್ಧತಿಯ ನಿಬಂಧನೆಗಳು ಯಾವುವು?	2 2	ಏಪ್ರಿಲ್ 2019 ಏಪ್ರಿಲ್ 2022
10	❖ ವೆಲ್ಲೆಸ್ಲಿ ಕಾಲದಲ್ಲಿ ಬ್ರಿಟಿಷ್ ಸಾಮ್ರಾಜ್ಯ ವಿಸ್ತರಣೆ ಹೇಗಾಯಿತು?	2	ಜೂನ್ 2019

	❖ ಭಾರತೀಯ ರಾಜ್ಯಗಳನ್ನು ನಿಯಂತ್ರಣದಲ್ಲಿಡಲು ಬ್ರಿಟಿಷರಿಗೆ ಸಹಾಯಕ ಸೈನ್ಯ ಪದ್ಧತಿಯು ಹೇಗೆ ನೆರವಾಯಿತು?	2	ಜೂನ್ 2020
11	❖ ಆಂಗ್ಲೋ ಸಿಖ್ ಯುದ್ಧಗಳ ಪರಿಣಾಮಗಳೇನು?	2	ಜೂನ್ 2019
ಅಧ್ಯಾಯ - 3 : ಭಾರತದಲ್ಲಿ ಬ್ರಿಟಿಷ್ ಆಳ್ವಿಕೆಯ ಪರಿಣಾಮಗಳು		1,3 ಅಂಕಗಳು	
1	❖ 1935ರ ಭಾರತ ಸರ್ಕಾರ ಕಾಯ್ದೆ ಸ್ವಾತಂತ್ರ್ಯ ಭಾರತಕ್ಕೆ ಒಂದು ಪ್ರಮುಖ ದಾಖಲೆ ಆಗಿದೆ. ಏಕೆ? ❖ 1935ರ ಭಾರತ ಸರ್ಕಾರ ಕಾಯ್ದೆಯು ಒಂದು ಮುಖ್ಯ ದಾಖಲೆಯಾಗಿದೆ. ಏಕೆಂದರೆ (A) ಪ್ರಾಂತ್ಯಗಳಲ್ಲಿ ದ್ವಿ ದಳ ಸರ್ಕಾರವನ್ನು ಜಾರಿಗೆ ತಂದಿತು (B) ನಿಯಂತ್ರಣ ಮಂಡಳಿಯನ್ನು ನೇಮಿಸಿತು (C) ಮತೀಯ ಆಧಾರದ ಪ್ರತ್ಯೇಕ ಚುನಾವಣಾ ಕ್ಷೇತ್ರಗಳನ್ನು ಸ್ಥಾಪಿಸಿತು (D) ಅಖಿಲ ಭಾರತೀಯ ಸಂಯುಕ್ತ ವ್ಯವಸ್ಥೆಗೆ ಅವಕಾಶ ಮಾಡಿಕೊಟ್ಟಿತು	1 1	ಜೂನ್ 2015 ಏಪ್ರಿಲ್ 2016
2	❖ ರೆಗ್ಯುಲೇಟಿಂಗ್ ಶಾಸನದ ಒಂದು ಪ್ರಮುಖ ಅಂಶ A) ಅಖಿಲ ಭಾರತೀಯ ಸಂಯುಕ್ತ ವ್ಯವಸ್ಥೆಗೆ ಅವಕಾಶ ಮಾಡಿಕೊಟ್ಟಿತು B) ಸರ್ವೋಚ್ಚ ನ್ಯಾಯಾಲಯದ ಸ್ಥಾಪನೆ C) ಮತೀಯ ಚುನಾವಣಾ ಕ್ಷೇತ್ರಗಳ ರಚನೆ D) ದ್ವಿ ದಳ ಸರ್ಕಾರ ಪದ್ಧತಿಯನ್ನು ಜಾರಿಗೊಳಿಸಿತು	1	ಏಪ್ರಿಲ್ 2017
3	❖ 1909 ರ ಮಿಂಟೋ-ಮಾರ್ಲೆ ಸುಧಾರಣೆಗಳು ಭಾರತದ ವಿಭಜನೆಗೆ ನಾಂದಿ ಹಾಡಿದವು. ಏಕೆಂದರೆ, ಅದು A) ದ್ವಿಮುಖ ಸರ್ಕಾರವನ್ನು ರದ್ದುಗೊಳಿಸಿತು. B) ನಿಯಂತ್ರಣ ಮಂಡಳಿಯನ್ನು ಸ್ಥಾಪಿಸಿತು. C) ಕಾರ್ಯಕಾರಿ ಸಮಿತಿಗೆ ಭಾರತೀಯರನ್ನು ನಾಮಕರಣ ಮಾಡಿತು. D) ಮತೀಯ ಆಧಾರದ ಮೇಲೆ ಪ್ರತ್ಯೇಕ ಚುನಾವಣಾ ಕ್ಷೇತ್ರವನ್ನು ಸ್ಥಾಪಿಸಿತು.	1	ಏಪ್ರಿಲ್ 2018
4	❖ 1909 ರಲ್ಲಿ ಪ್ರತ್ಯೇಕ ಚುನಾವಣಾ ಮತಗಟ್ಟೆ ವ್ಯವಸ್ಥೆಯನ್ನು ರಚಿಸಲು ಕಾರಣ A) ಮುಸ್ಲಿಂರಿಗಾಗಿ ಪ್ರತ್ಯೇಕ ಪ್ರಾತಿನಿಧ್ಯ ನೀಡಲು B) ಯೂರೋಪಿಯನ್ನರಿಗೆ ಪ್ರತ್ಯೇಕ ಕ್ಷೇತ್ರ ರಚಿಸಲು C) ಸಿಖ್ ರಿಗೆ ಪ್ರತ್ಯೇಕ ಪ್ರಾತಿನಿಧ್ಯ ನೀಡಲು D) ಕ್ರೈಸ್ತರಿಗೆ ಕೆಲ ಸ್ಥಾನಗಳ ಮೀಸಲು ನೀಡಲು	1	ಏಪ್ರಿಲ್ 2019
5	❖ ಆಂಗ್ಲರ ಕಾಲದಲ್ಲಿ ಆರಂಭಗೊಂಡ ನಾಗರಿಕ ನ್ಯಾಯಾಲಯಗಳೇ A) ದಿವಾನಿ ಅದಾಲತ್ B) ಫೌಜದಾರಿ ಅದಾಲತ್ C) ಲೋಕ ಅದಾಲತ್ D) ಷರಿಯತ್ ಅದಾಲತ್	1	ಜುಲೈ 2021
6	❖ ಕಾರ್ನ್ ವಾಲೀಸ್ ಫೋರ್ಟ್ ವಿಲಿಯಂ ಕಾಲೇಜನ್ನು ಸ್ಥಾಪಿಸಿದ ಸ್ಥಳ A) ಕೊಲ್ಕತ್ತಾ B) ಮುಂಬೈ C) ದೆಹಲಿ D) ಮದ್ರಾಸ್	1	ಸೆಪ್ಟೆಂಬರ್ 2021
7	❖ ಕಲ್ಕತ್ತಾ, ಬಾಂಬೆ ಮತ್ತು ಮದ್ರಾಸ್ ಗಳಲ್ಲಿ ನೂತನ ವಿಶ್ವವಿದ್ಯಾಲಯಗಳನ್ನು ಸ್ಥಾಪಿಸಿದವರು A) ವಿಲಿಯಂ ಬೆಂಟಿಂಕ್ B) ವಾರನ್ ಹೇಸ್ಟಿಂಗ್ಸ್ C) ಡಾಲ್ ಹೌಸಿ D) ಥಾಮಸ್ ಮನ್ರೋ	1	ಸೆಪ್ಟೆಂಬರ್ 2021
8	❖ 1909ರ ಮಿಂಟೋ-ಮಾರ್ಲೆ ಸುಧಾರಣೆಗಳು ದಶದ ವಿಭಜನೆಗೆ ಕಾರಣವಾದವು ಹೇಗೆ?	1	ಜೂನ್ 2017
9	❖ ಜಮೀನ್ದಾರಿ ಪದ್ಧತಿಗಿಂತ ರೈತವಾರಿ ಪದ್ಧತಿ ಭಿನ್ನ ಹೇಗೆ?	3	ಏಪ್ರಿಲ್ 2015
10	❖ ಬ್ರಿಟಿಷರು ಶಿಕ್ಷಣ ಕ್ಷೇತ್ರದಲ್ಲಿ ಕೈಗೊಂಡ ಸುಧಾರಣೆಗಳಾವುವು?	3	ಏಪ್ರಿಲ್ 2016

11	❖ ಬ್ರಿಟಿಷರ ಭೂ ಕಂದಾಯ ಪದ್ಧತಿಯು ಭಾರತೀಯ ರೈತರ ಮೇಲೆ ಹೇಗೆ ದುಷ್ಪರಿಣಾಮ ಬೀರಿತು? ವಿವರಿಸಿ.	3	ಎಪ್ರಿಲ್ 2018
	❖ ಬ್ರಿಟಿಷರ ಭೂಕಂದಾಯ ಪದ್ಧತಿಯು ಭಾರತೀಯ ರೈತರ ಮೇಲೆ ಹೇಗೆ ಪರಿಣಾಮ ಬೀರಿತು?	3	ಜೂನ್ 2019
	❖ ಬ್ರಿಟಿಷರ ಭೂಕಂದಾಯ ಪದ್ಧತಿಗಳು ಭಾರತೀಯ ಕೃಷಿ ಮೇಲೆ ಪರಿಣಾಮ ಬೀರಿತ್ತು. ಸ್ಪಷ್ಟೀಕರಿಸಿ.	3	ಸೆಪ್ಟೆಂಬರ್ 2020
12	❖ ಭಾರತದಲ್ಲಿ ನವ ಜಾಗೃತಿಯ ಉದಯಕ್ಕೆ ಶಿಕ್ಷಣವು ಹೇಗೆ ಪ್ರಮುಖ ಪಾತ್ರವಹಿಸಿತು?	3	ಜೂನ್ 2015
	❖ 'ಭಾರತೀಯ ಶಿಕ್ಷಣ ಕ್ಷೇತ್ರದ ಮೇಲೆ ಬ್ರಿಟಿಷ್ ಆಡಳಿತವು ಮಹತ್ತರ ಪರಿಣಾಮಗಳನ್ನು ಬೀರಿತು'. ಸಮರ್ಥಿಸಿ	3	ಜೂನ್ 2017
	❖ ಶಿಕ್ಷಣದ ಬೆಳವಣಿಗೆಯು ಭಾರತದ ಸ್ವಾತಂತ್ರ್ಯ ಚಳುವಳಿಗೆ ನಾಂದಿಯಾಯಿತು. ವಿವರಿಸಿ.	3	ಜೂನ್ 2018
	❖ ಬ್ರಿಟಿಷ್ ಶಿಕ್ಷಣ ವ್ಯವಸ್ಥೆಯು ಅಭಿವೃದ್ಧಿಶೀಲ ಆಲೋಚನೆಗಳನ್ನೊಳಗೊಂಡ ಒಂದು ಹೊಸ ತಲೆಮಾರನ್ನು ಸೃಷ್ಟಿಸಿತು. ಸಮರ್ಥಿಸಿ.	3	ಎಪ್ರಿಲ್ 2019
	❖ ಬ್ರಿಟಿಷ್ ಶಿಕ್ಷಣದ ಪ್ರಭಾವದಿಂದ ಉಂಟಾದ ಅಭಿರುಚಿ ಮತ್ತು ಆಲೋಚನೆಗಳು ಭಾರತದಲ್ಲಿ ಹೊಸ ತಲೆಮಾರುಗಳ ಸೃಷ್ಟಿಗೆ ಹೇಗೆ ಕಾರಣವಾದವು?	3	ಜೂನ್ 2020
	❖ ಭಾರತದಲ್ಲಿ ಬ್ರಿಟಿಷ್ ಶಿಕ್ಷಣದ ಪರಿಣಾಮಗಳೇನು?	3	ಎಪ್ರಿಲ್ 2022
	❖ ಬ್ರಿಟಿಷ್ ಶಿಕ್ಷಣವು ಭಾರತೀಯರ ಮೇಲೆ ಹೇಗೆ ಪ್ರಭಾವ ಬೀರಿತು?	3	ಜೂನ್ 2022

ಅಧ್ಯಾಯ-4:ಕರ್ನಾಟಕದಲ್ಲಿ ಬ್ರಿಟಿಷ್ ಆಳ್ವಿಕೆಗೆ ಪ್ರತಿರೋಧಗಳು ಮತ್ತು ಮೈಸೂರಿನ ಒಡೆಯರು 1,2,3,4 ಅಂಕಗಳು

1	❖ ಮೊದಲನೆಯ ಆಂಗ್ಲೋ-ಮೈಸೂರು ಯುದ್ಧವನ್ನು ಕೊನೆಗೊಳಿಸಿದ್ದು A) ಮೈಸೂರು ಒಪ್ಪಂದ B) ಮದ್ರಾಸ್ ಒಪ್ಪಂದ C) ಮಂಗಳೂರು ಒಪ್ಪಂದ D) ಶ್ರೀರಂಗಪಟ್ಟಣ ಒಪ್ಪಂದ	1	ಎಪ್ರಿಲ್ 2019
2	❖ ಎರಡನೇ ಆಂಗ್ಲೋ ಮೈಸೂರು ಯುದ್ಧದ ಸಮಯದಲ್ಲಿ ಬ್ರಿಟಿಷರ ವಿಶ್ವಾಸ ಹೆಚ್ಚಿಸಿದ ಅಂಶ A) ಪೊರ್ಚುಗೀಸರೊಡನೆ ಹೈದರ್ ಅಲಿಯ ಸೋಲು B) ಮೊದಲ ಆಂಗ್ಲೋ ಮರಾಠ ಯುದ್ಧದಲ್ಲಿ ಪೇಶ್ವೆ ಅವರನ್ನು ಸೋಲಿಸಿದ್ದು C) ಮರಾಠರು ಸಹಾಯಕ ಸೈನ್ಯ ಪದ್ಧತಿಗೆ ಸಹಿ ಹಾಕಿದ್ದು D) ಕಾರ್ನ್ ವಾಲೀಸ್ ಶ್ರೀರಂಗಪಟ್ಟಣವನ್ನು ವಶಪಡಿಸಿಕೊಂಡಿದ್ದು	1	ಜುಲೈ 2021
3	❖ ಎರಡನೇ ಆಂಗ್ಲೋ-ಮೈಸೂರು ಯುದ್ಧವನ್ನು ಕೊನೆಗೊಳಿಸಿದ ಒಪ್ಪಂದ ಯಾವುದು?	1	ಜೂನ್ 2022
4	❖ ಬ್ರಿಟಿಷರಲ್ಲಿ ಟಿಪ್ಪುವಿನ ವಿರುದ್ಧ ದ್ವೇಷ ಭಾವನೆ ಬೆಳೆಯಲು ಕಾರಣವೇನು?	1	ಜೂನ್ 2019
5	❖ ಹಲಗಲಿಯ ಬೇಡರು ಬ್ರಿಟಿಷರ ವಿರುದ್ಧ ಏಕೆ ಹೋರಾಟ ನಡೆಸಿದರು?	1	ಜೂನ್ 2019
6	❖ ಇಂಗ್ಲಿಷರು ಮದ್ರಾಸ್ ಒಪ್ಪಂದಕ್ಕೆ ಸಹಿ ಹಾಕುವುದು ಏಕೆ ಅನಿವಾರ್ಯವಾಯಿತು? ❖ ಮದ್ರಾಸ್ ಶಾಂತಿ ಒಪ್ಪಂದವು ಬ್ರಿಟಿಷರಿಗೆ ಅನಿವಾರ್ಯವಾಗಿತ್ತು. ಏಕೆ?	2 2	ಜೂನ್ 2015 ಜೂನ್ 2018
7	❖ ಶ್ರೀರಂಗಪಟ್ಟಣ ಒಪ್ಪಂದದ ಷರತ್ತುಗಳಾವುವು? (ಜೂನ್ 2016)	2	ಜೂನ್ 2017
8	❖ ನಾವು ಮೈಸೂರು ಒಡೆಯರನ್ನು ಏಕೆ ಸ್ಮರಿಸುತ್ತೇವೆ?	2	ಎಪ್ರಿಲ್ 2018
9	❖ ಆಂಗ್ಲರ ವಿರುದ್ಧ ಕಿತ್ತೂರಿನಲ್ಲಾದ ದಂಗೆಯನ್ನು ವಿವರಿಸಿ.	3	ಜೂನ್ 2019
10	❖ ಹಲಗಲಿಯ ಬೇಡರ ದಂಗೆಯನ್ನು ವಿವರಿಸಿ.	3	ಜೂನ್ 2020
11	❖ ಮೂರನೇ ಮತ್ತು ನಾಲ್ಕನೇ ಆಂಗ್ಲೋ-ಮೈಸೂರು ಯುದ್ಧಗಳು ಮೈಸೂರಿನ ಟಿಪ್ಪು ಸುಲ್ತಾನನ ಪ್ರಾಬಲ್ಯ ಕುಗ್ಗಿಸಿತು. ಸಮರ್ಥಿಸಿ.	3	ಸೆಪ್ಟೆಂಬರ್ 2020

12	❖ ಸಂಗೋಳ್ಳಿ ರಾಯಣ್ಣನು ಬ್ರಿಟಿಷರ ವಿರುದ್ಧ ಹೇಗೆ ಹೋರಾಡಿದನು?	3	ಜೂನ್ 2022
13	❖ ದೋಂಡಿಯಾ ವಾಘ್ ಬ್ರಿಟಿಷರ ವಿರುದ್ಧ ಹೇಗೆ ಹೋರಾಡಿದನು?	4	ಏಪ್ರಿಲ್ 2022
ಅಧ್ಯಾಯ - 5 : ಸಾಮಾಜಿಕ ಮತ್ತು ಧಾರ್ಮಿಕ ಸುಧಾರಣಾ ಚಳುವಳಿಗಳು		1,2,3 ಅಂಕಗಳು	
1	❖ A ಪಟ್ಟಿಯಲ್ಲಿ ನಾಯಕರು ಮತ್ತು B ಪಟ್ಟಿಯಲ್ಲಿ ಅವರ ಕಾರ್ಯಗಳನ್ನು ಸೂಚಿಸಲಾಗಿದೆ. ಇವುಗಳ ಸರಿಹೊಂದುವ ಉತ್ತರದ ಗುಂಪು A ಪಟ್ಟಿ B ಪಟ್ಟಿ a)ರಾಜಾ ರಾಮ್ ಮೋಹನ್ ರಾಯ್ 1) ರಾಮಕೃಷ್ಣ ಮಿಷನ್ b)ಸ್ವಾಮಿ ದಯಾನಂದ ಸರಸ್ವತಿ 2) ಸತ್ಯ ಶೋಧಕ ಸಮಾಜ c)ಸ್ವಾಮಿ ವಿವೇಕಾನಂದ 3) ಬ್ರಹ್ಮ ಸಮಾಜ d)ಮಹಾತ್ಮ ಜ್ಯೋತಿಬಾ ಫುಲೆ 4) ಆರ್ಯ ಸಮಾಜ	1	ಜೂನ್ 2015
2	❖ ಪಟ್ಟಿಯಲ್ಲಿ ಸಮಾಜ ಸುಧಾರಕರು ಮತ್ತು ಪಟ್ಟಿಯಲ್ಲಿ ಅವರ ಕೃತಿಗಳನ್ನು ಕೊಡಲಾಗಿದೆ. ಅವುಗಳಿಗೆ ಸರಿಹೊಂದುವ ಉತ್ತರದ ಗುಂಪನ್ನು ಗುರುತಿಸಿ. A ಪಟ್ಟಿ B ಪಟ್ಟಿ a) ರಾಜಾ ರಾಮ್ ಮೋಹನ್ ರಾಯ್ i. ಗುಲಾಮಗಿರಿ b) ಸ್ವಾಮಿ ದಯಾನಂದ ಸರಸ್ವತಿ ii. ಸಂವಾದ ಕೌಮುದಿ c) ಜ್ಯೋತಿಬಾ ಫುಲೆ iii. ನ್ಯೂ ಇಂಡಿಯ d) ಅನಿಬೆಸೆಂಟ್ iv. ಸತ್ಯಾರ್ಥ ಪ್ರಕಾಶ	1	ಏಪ್ರಿಲ್ 2016
3	❖ ದಯಾನಂದ ಸರಸ್ವತಿಯವರು ಸ್ವಾಭಿಮಾನ ಮತ್ತು ಸ್ವಾವಲಂಬನೆಯ ಬೋಧನೆಗಳ ಮೂಲಕ ಜನರನ್ನು ಪ್ರೇರೇಪಿಸಿದ್ದು A) ವರ್ಗಹಿತ ಸಮಾಜದ ಸ್ಥಾಪನೆ ಮಾಡಲು B) ಸತಿ ಮತ್ತು ಬಾಲ್ಯವಿವಾಹದ ವಿರುದ್ಧ ಹೋರಾಡಲು C) ಸ್ವಾತಂತ್ರ್ಯ ಹೋರಾಟದಲ್ಲಿ ತೊಡಗಿಸಿಕೊಳ್ಳಲು D) ಶೈಕ್ಷಣಿಕ ಸುಧಾರಣೆಗಳನ್ನು ತರಲು	1	ಏಪ್ರಿಲ್ 2018
4	❖ 'ನ್ಯೂ ಇಂಡಿಯಾ' ವೃತ್ತ ಪತ್ರಿಕೆಯನ್ನು ಆರಂಭಿಸಿದವರು A) ರಾಜಾ ರಾಮ್ ಮೋಹನ್ ರಾಯ್ B) ಮಹಾತ್ಮಾ ಗಾಂಧೀಜಿ C) ಅನಿಬೆಸೆಂಟ್ D) ದಯಾನಂದ ಸರಸ್ವತಿ	1	ಏಪ್ರಿಲ್ 2019
5	❖ ಆಧುನಿಕ ಭಾರತದ ಸಮಸ್ಯೆಗಳಿಗೆ ಪರಿಹಾರಗಳು ವೇದಗಳಲ್ಲಿ ಇರುವುದನ್ನು ಅರಿತುಕೊಂಡ ದಯಾನಂದ ಸರಸ್ವತಿಯವರು A) ವೇದಗಳಿಗೆ ಮರಳಿ ಎಂದು ಘೋಷಿಸಿದರು B) ಸತ್ಯಾರ್ಥ ಪ್ರಕಾಶ ಪುಸ್ತಕ ಬರೆದಿದ್ದಾರೆ C) ಗೋ ರಕ್ಷಣಾ ಸಂಘವನ್ನು ಆರಂಭಿಸಿದರು D) ಶುದ್ಧ ಚಳುವಳಿಯನ್ನು ಆರಂಭಿಸಿದರು	1	ಜುಲೈ 2021
6	❖ ವೇದಗಳಿಗೆ ಹಿಂದಿರುಗಿ ಎಂದು ಕರೆ ನೀಡಿದವರು A) ದಯಾನಂದ ಸರಸ್ವತಿ B) ಆತ್ಮರಾಮ ಪಾಂಡುರಂಗ C) ಸ್ವಾಮಿ ವಿವೇಕಾನಂದ D) ರಾಜಾ ರಾಮ್ ಮೋಹನ್ ರಾಯ್	1	ಸೆಪ್ಟೆಂಬರ್ 2021
7	❖ ದಯಾನಂದ ಸರಸ್ವತಿಯವರು ಭಾರತೀಯರಿಗೆ 'ವೇದಗಳಿಗೆ ಹಿಂದಿರುಗಿ' ಎಂದು ಕರೆ ನೀಡಲು ಕಾರಣವೇನು?	2	ಜೂನ್ 2015
8	❖ ಸ್ವಾಮಿ ವಿವೇಕಾನಂದರು ರಾಮಕೃಷ್ಣ ಮಿಷನ್ ಅನ್ನು ಏಕೆ ಸ್ಥಾಪಿಸಿದರು?	1	ಏಪ್ರಿಲ್ 2016

	❖ ರಾಮಕೃಷ್ಣ ಮಠ (ಮಿಷನ್) ವನ್ನು ಏಕೆ ಸ್ಥಾಪಿಸಲಾಯಿತು?	1	ಸೆಪ್ಟೆಂಬರ್ 2020
9	❖ ಸರ್ ಸಯ್ಯದ್ ಅಹಮದ್ ಖಾನರು ಮುಸ್ಲಿಂ ಸಮುದಾಯದಲ್ಲಿ ಹೇಗೆ ಶೈಕ್ಷಣಿಕ ಅರಿವನ್ನು ಮೂಡಿಸಿದರು?	1	ಏಪ್ರಿಲ್ 2018
10	❖ ಶುದ್ಧಿ ಚಳುವಳಿಯನ್ನು ಏಕೆ ಆರಂಭಿಸಲಾಯಿತು?	1	ಏಪ್ರಿಲ್ 2019
11	❖ ರಾಜಾ ರಾಮ್ ಮೋಹನ್ ರಾಯರ ಸತಿ ಪದ್ಧತಿ ವಿರೋಧಿ ಹೋರಾಟವನ್ನು ಗವರ್ನರ್ ಜನರಲ್ ವಿಲಿಯಂ ಬೆಂಟಿಂಕ್ ಹೇಗೆ ಬೆಂಬಲಿಸಿದರು?	1	ಜೂನ್ 2020
12	❖ ಜ್ಯೋತಿಬಾ ಫುಲೆಯವರ ಸಾಮಾಜಿಕ ಸುಧಾರಣೆಗಳು ಅತ್ಯಂತ ಜನಪ್ರಿಯ, ಏಕೆ?	2	ಏಪ್ರಿಲ್ 2015
13	❖ ಭಾರತೀಯ ಸಮಾಜಕ್ಕೆ ಅನಿಬೆಸೆಂಟ್ ರವರು ನೀಡಿದ ಕೊಡುಗೆಗಳೇನು? ❖ ಭಾರತೀಯ ಸಂಸ್ಕೃತಿ ಮತ್ತು ರಾಜಕೀಯಕ್ಕೆ ಅನಿಬೆಸೆಂಟ್ ರವರ ಕೊಡುಗೆ ಅವಿಸ್ಮರಣೀಯವಾದದ್ದು ಸಮರ್ಥಿಸಿ.	2 3	ಜೂನ್ 2016 ಸೆಪ್ಟೆಂಬರ್ 2020
14	❖ ಮುಸ್ಲಿಂ ಸಮಾಜಕ್ಕೆ ಸರ್ ಸೈಯದ್ ಅಹಮದ್ ಖಾನ್ ರವರು ನೀಡಿದ ಕೊಡುಗೆಗಳೇನು?	2	ಜೂನ್ 2016
15	❖ ವಿವೇಕಾನಂದರು ಯುವಶಕ್ತಿಯ ಪ್ರೇರಕರಾಗಿದ್ದರು. ಹೇಗೆ ಎಂಬುದನ್ನು ವಿವರಿಸಿ. (ಏಪ್ರಿಲ್ 2017)	2	ಜೂನ್ 2019
16	❖ ಭಾರತದ ಸಾಮಾಜಿಕ ಮತ್ತು ಧಾರ್ಮಿಕ ಸುಧಾರಣೆಗೆ ರಾಜಾ ರಾಮ್ ಮೋಹನ್ ರಾಯ್ ರ ಕೊಡುಗೆಗಳೇನು?	2	ಜೂನ್ 2017
17	❖ ಸತ್ಯಶೋಧಕ ಸಮಾಜವು ಪ್ರತಿಪಾದಿಸಿದ ಸುಧಾರಣೆಗಳಾವುವು?	2	ಜೂನ್ 2017
18	❖ ಭಾರತ ಇತಿಹಾಸದಲ್ಲಿ 19ನೇ ಶತಮಾನವನ್ನು ಭಾರತೀಯ ನವೋದಯ ಕಾಲವೆಂದು ಕರೆಯಲಾಗಿದೆ. ಏಕೆ?	2	ಜೂನ್ 2018
19	❖ ಆರ್ಯ ಸಮಾಜದ ಉದ್ದೇಶಗಳನ್ನು ವಿವರಿಸಿ. ❖ ಆರ್ಯ ಸಮಾಜದ ಉದ್ದೇಶಗಳಾವುವು?	3 3	ಜೂನ್ 2020 ಜೂನ್ 2022

ಅಧ್ಯಾಯ - 6 : ಭಾರತದ ಪ್ರಥಮ ಸ್ವಾತಂತ್ರ್ಯ ಸಂಗ್ರಾಮ (1857)

1,2,3,4 ಅಂಕಗಳು

1	❖ ಇವುಗಳಲ್ಲಿ ಭಾರತೀಯ ಪ್ರಥಮ ಸ್ವಾತಂತ್ರ್ಯ ಸಂಗ್ರಾಮದ ವಿಫಲತೆಗೆ ಒಂದು ಕಾರಣ A) ಅದು ದೇಶಾದ್ಯಂತ ಹರಡಿತು. B) ಇದು ಸುಸಂಘಟಿತ ದಂಗೆಯಾಗಿತ್ತು. C) ಒಬ್ಬ ಪ್ರಬಲ ನಾಯಕನನ್ನು ಹೊಂದಿರಲಿಲ್ಲ. D) ಅನೇಕ ಭಾರತೀಯ ರಾಜರು ಬ್ರಿಟಿಷರಿಗೆ ವಿಶ್ವಾಸ ದ್ರೋಹಿಗಳಾಗಿದ್ದರು.	1	ಜುಲೈ 2021
2	❖ 1857 ರ ಮಹಾದಂಗೆಗೆ ತತ್ಕ್ಷಣದ ಕಾರಣ A) ದತ್ತು ಮಕ್ಕಳಿಗೆ ಹಕ್ಕಿಲ್ಲ ನೀತಿಯನ್ನು ಜಾರಿಗೆ ತಂದದ್ದು B) ರಘುನಿರಾಣ ಲಕ್ಷ್ಮಿ ಬಾಯಿಯನ್ನು ಕೊಂದದ್ದು C) ರಾಯಲ್ ಎನ್ ಫೀಲ್ಡ್ ರೈಫಲ್ ಗಳನ್ನು ಬಳಕೆಗೆ ತಂದದ್ದು D) ಮೊಘಲ್ ಸಾಮ್ರಾಟನನ್ನು ಪದಚ್ಯುತಗೊಳಿಸಿದ್ದು	1	ಸೆಪ್ಟೆಂಬರ್ 2021
3	❖ ಭಾರತೀಯ ಸೈನಿಕರು ರಾಯಲ್ ಎನ್ ಫೀಲ್ಡ್ ಬಂದೂಕುಗಳ ಬಳಕೆಯನ್ನು ಏಕೆ ವಿರೋಧಿಸಿದರು?	1	ಏಪ್ರಿಲ್ 2019
4	❖ ಬ್ರಿಟಿಷ್ ಸೈನ್ಯದಲ್ಲಿ ಭಾರತೀಯ ಸಿಪಾಯಿಗಳ ಸ್ಥಿತಿಯು ಶೋಚನೀಯವಾಗಿತ್ತು. ಸಮರ್ಥಿಸಿ.	2	ಏಪ್ರಿಲ್ 2019
5	❖ 1857 ರ ದಂಗೆಗೆ ರಾಜಕೀಯ ಅಂಶಗಳು ಹೇಗೆ ಪ್ರೇರಕವಾದವು?	2	ಜೂನ್ 2019

6	❖ ಭಾರತದ ಪ್ರಥಮ ಸ್ವಾತಂತ್ರ್ಯ ಸಂಗ್ರಾಮಕ್ಕೆ ರಾಜಕೀಯ ಮತ್ತು ಸೈನಿಕ ಅಂಶಗಳು ಹೇಗೆ ಪ್ರೇರಕವಾದವು?	3	ಜೂನ್ 2015
7	❖ 1857 ರ ಕ್ರಾಂತಿಗೆ ಕಾರಣವಾದ ರಾಜಕೀಯ ಮತ್ತು ಆಡಳಿತಾತ್ಮಕ ಕಾರಣಗಳನ್ನು ವಿವರಿಸಿ.	4	ಸೆಪ್ಟೆಂಬರ್ 2020
8	❖ ಭಾರತದ ಪ್ರಥಮ ಸ್ವಾತಂತ್ರ್ಯ ಸಂಗ್ರಾಮಕ್ಕೆ ಬ್ರಿಟಿಷರ ಆಡಳಿತ ಪದ್ಧತಿ ಮತ್ತು ಆರ್ಥಿಕ ನೀತಿ ಹೇಗೆ ಕಾರಣವಾದವು? ವಿವರಿಸಿ.	3	ಏಪ್ರಿಲ್ 2018
9	❖ 1857 ರ ದಂಗೆಯ ವಿಫಲತೆಗೆ ಕಾರಣಗಳು ಯಾವುವು?	3	ಏಪ್ರಿಲ್ 2015
	❖ 1857 ರ ದಂಗೆಯ ವಿಫಲತೆಗೆ ಕಾರಣವಾದ ಅಂಶಗಳನ್ನು ವಿವರಿಸಿ.	3	ಜೂನ್ 2018
	❖ '1857 ರ ಪ್ರಥಮ ಸ್ವಾತಂತ್ರ್ಯ ಸಂಗ್ರಾಮವು ನಿರೀಕ್ಷಿತ ಯಶಸ್ಸನ್ನು ತರಲಿಲ್ಲ' ಕಾರಣಗಳನ್ನು ನೀಡಿ.	3	ಜೂನ್ 2017
	❖ 1857 ರ ಪ್ರಥಮ ಸ್ವಾತಂತ್ರ್ಯ ಸಂಗ್ರಾಮವು ವಿಫಲವಾಗಲು ಕಾರಣಗಳನ್ನು ವಿವರಿಸಿ.	4	ಜೂನ್ 2020
	❖ ಭಾರತದ ಪ್ರಥಮ ಸ್ವಾತಂತ್ರ್ಯ ಸಂಗ್ರಾಮದ ವಿಫಲತೆಗೆ ಕಾರಣಗಳೇನು?	3	ಏಪ್ರಿಲ್ 2022
	❖ 1857 ರ ದಂಗೆಯ ಹಲವಾರು ಕಾರಣಗಳಿಂದ ವಿಫಲವಾಯಿತು. ವಿವರಿಸಿ.	3	ಜೂನ್ 2022
10	❖ 1857ರ ಭಾರತದ ಪ್ರಥಮ ಸ್ವಾತಂತ್ರ್ಯ ಸಂಗ್ರಾಮವು ಮಹತ್ತರ ಬದಲಾವಣೆಗಳನ್ನು ಉಂಟು ಮಾಡಿತು. ವಿವರಿಸಿ	3	ಜೂನ್ 2016

ಅಧ್ಯಾಯ - 7 : ಸ್ವಾತಂತ್ರ್ಯ ಹೋರಾಟ

1,4 ಅಂಕಗಳು

1	❖ ಮಂದಗಾಮಿಗಳ ಗುಂಪಿಗೆ ಸೇರಿದವರು A) ಅರಬಿಂದ ಘೋಷ್ B) ಲಾಲಾ ಲಜಪತ್ ರೈ C) ಗೋಪಾಲಕೃಷ್ಣ ಗೋಖಲೆ D) ಬಾಲಗಂಗಾಧರ ತಿಲಕ್	1	ಸೆಪ್ಟೆಂಬರ್ 2021
2	❖ ತಿಲಕ್ ರವರು ಆರಂಭಿಸಿದ ವೃತ್ತ ಪತ್ರಿಕೆ A) ನ್ಯೂ ಇಂಡಿಯಾ B) ಮೂಕನಾಯಕ C) ಬಹಿಷ್ಕೃತ ಭಾರತ D) ಕೇಸರಿ	1	ಸೆಪ್ಟೆಂಬರ್ 2021
3	❖ ಕ್ವಿಟ್ ಇಂಡಿಯಾ ಚಳುವಳಿಯು ಕಾಂಗ್ರೆಸ್ಸೇತರ ನಾಯಕರಿಗೆ ನಾಯಕತ್ವವನ್ನು ನೀಡಿತು. ಈ ಕೆಳಗಿನವರಲ್ಲಿ ಕಾಂಗ್ರೆಸ್ಸೇತರ ನಾಯಕರನ್ನು ಗುರುತಿಸಿ. A) ಕಸ್ತೂರಬಾ ಗಾಂಧಿ B) ಡಾ. ಬಿ.ಆರ್.ಅಂಬೇಡ್ಕರ್ C) ಜಯಪ್ರಕಾಶ್ ನಾರಾಯಣ್ D) ಮೌಲಾನಾ ಅಬ್ದುಲ್ ಕಲಾಂ ಆಜಾದ್	1	ಜೂನ್ 2020
4	❖ 1938 ರ ಹರಿಸುರ ಕಾಂಗ್ರೆಸ್ ಅಧಿವೇಶನದ ಅಧ್ಯಕ್ಷರಾಗಿದ್ದವರು A) ಸರ್ದಾರ್ ವಲ್ಲಭಭಾಯಿ ಪಟೇಲ್ B) ಡಾ. ಬಿ.ಆರ್. ಅಂಬೇಡ್ಕರ್ C) ಬಾಲಗಂಗಾಧರ ತಿಲಕ್ D) ಸುಭಾಷ್ ಚಂದ್ರ ಬೋಸ್	1	ಸೆಪ್ಟೆಂಬರ್ 2020
5	❖ ಗಾಂಧೀಜಿಯವರು ಚಂಪಾರಣ್ಯ ಚಳುವಳಿಯನ್ನು ಪ್ರಾರಂಭಿಸಿದ್ದು A) ನೀಲಿ ಬೆಳೆಗಾರರನ್ನು ಬೆಂಬಲಿಸಲು B) ಹತ್ತಿ ಬೆಳೆಗಾರರನ್ನು ಬೆಂಬಲಿಸಲು C) ಈಚಲು ಬೆಳೆಗಾರರನ್ನು ಬೆಂಬಲಿಸಲು D) ಟೀ ಎಸ್ಟೇಟ್ ಕಾರ್ಮಿಕರನ್ನು ಬೆಂಬಲಿಸಲು	1	ಜುಲೈ 2021
6	❖ ಅಲಿ ಸಹೋದರರು ಮುನ್ನಡೆಸಿದ ಚಳುವಳಿ A) ಅಸಹಕಾರ B) ಖಿಲಾಫತ್ C) ಕಾನೂನುಭಂಗ D) ಕ್ವಿಟ್ ಇಂಡಿಯಾ	1	ಏಪ್ರಿಲ್ 2022
7	❖ ದಂಡಿ ಚಳುವಳಿಗೆ ಸಂಬಂಧಿಸಿದ್ದು A) ಚಂಪಾರನ್ ಸತ್ಯಾಗ್ರಹ B) ಬರೋಲಿ ಸತ್ಯಾಗ್ರಹ C) ಕೇಡಾ ಸತ್ಯಾಗ್ರಹ D) ಉಪ್ಪಿನ ಸತ್ಯಾಗ್ರಹ	1	ಸೆಪ್ಟೆಂಬರ್ 2021

8	❖ 'ಸಂಪತ್ತಿನ ಸೋರುವಿಕೆ ಸಿದ್ಧಾಂತ'ವನ್ನು ವಿವರಿಸಿದವರು A) ದಾದಾಬಾಯಿ ನವರೋಜಿ B) ಮಹಾತ್ಮ ಗಾಂಧೀಜಿ C) ಎ.ಓ. ಹ್ಯೂಮ್ D) ಬಾಲಗಂಗಾಧರ ತಿಲಕ್ ❖ ಸಂಪತ್ತಿನ ಸೋರಿಕೆಯ ಸಿದ್ಧಾಂತದ ಪ್ರತಿಪಾದಕರು ಯಾರು?	1	ಜೂನ್ 2022
9	❖ ಬಂಗಾಳದ ವಿಭಜನೆಗೆ ಕಾರಣವೇನು?	1	ಜೂನ್ 2019
10	❖ ಭಾರತ ಸ್ವಾತಂತ್ರ್ಯ ಹೋರಾಟದಲ್ಲಿ ಮಂದಗಾಮಿಗಳ ಪಾತ್ರವನ್ನು ವಿವರಿಸಿ. ❖ ಸ್ವಾತಂತ್ರ್ಯ ಚಳುವಳಿಯಲ್ಲಿ ಉದಾರ ರಾಷ್ಟ್ರೀಯವಾದದ ಕಾಲವನ್ನು ವಿವರಿಸಿ.	4 4	ಏಪ್ರಿಲ್ 2017 ಸೆಪ್ಟೆಂಬರ್ 2020
11	❖ ತಿವ್ರವಾದಿಗಳು ಭಾರತದ ಸ್ವಾತಂತ್ರ್ಯ ಹೋರಾಟಕ್ಕೆ ಮತ್ತಷ್ಟು ತೀವ್ರತೆಯನ್ನು ತಂದುಕೊಟ್ಟರು. ಹೇಗೆ? ❖ ಭಾರತದ ಸ್ವಾತಂತ್ರ್ಯ ಹೋರಾಟದಲ್ಲಿ ತೀವ್ರಗಾಮಿಗಳ ಪಾತ್ರವನ್ನು ವಿವರಿಸಿ.	4 4	ಜೂನ್ 2020 ಜೂನ್ 2022
12	❖ ಸ್ವಾತಂತ್ರ್ಯ ಚಳುವಳಿಯಲ್ಲಿ ಬಾಲಗಂಗಾಧರ ತಿಲಕರ ಪಾತ್ರವನ್ನು ವಿವರಿಸಿ	4	ಜೂನ್ 2017
13	❖ ಅಸಹಕಾರ ಚಳುವಳಿಯ ಪ್ರಮುಖ ಕಾರ್ಯಕ್ರಮಗಳನ್ನು ವಿವರಿಸಿ.	4	ಸೆಪ್ಟೆಂಬರ್ 2020
14	❖ ರಾಷ್ಟ್ರೀಯ ಸ್ವಾತಂತ್ರ್ಯ ಸಂಗ್ರಾಮದಲ್ಲಿ ರೈತರು ಸಂಘಟಿಸಿದ ಪ್ರತಿಭಟನೆಗಳು ಪ್ರಮುಖವಾಗಿದ್ದವೆಂಬುದನ್ನು ವಿವರಿಸಿ.	4	ಏಪ್ರಿಲ್ 2019
15	❖ ಭಾರತದ ಸ್ವಾತಂತ್ರ್ಯ ಹೋರಾಟದಲ್ಲಿ ವಿವಿಧ ಬುಡಕಟ್ಟು ವರ್ಗಗಳ ಬಂಡಾಯಗಳನ್ನು ವಿವರಿಸಿ.	4	ಜೂನ್ 2022
16	❖ ಭಾರತದ ರಾಷ್ಟ್ರೀಯ ಹೋರಾಟದಲ್ಲಿ ಸುಭಾಷ್ ಚಂದ್ರಬೋಸರ ಪಾತ್ರವನ್ನು ವಿವರಿಸಿ.(ಜೂನ್ 2022) ❖ ಭಾರತದ ಸ್ವಾತಂತ್ರ್ಯ ಹೋರಾಟದಲ್ಲಿ ಸುಭಾಷ್ ಚಂದ್ರ ಬೋಸರ ಪಾತ್ರವನ್ನು ವಿವರಿಸಿ.	4 4	ಏಪ್ರಿಲ್ 2015 ಏಪ್ರಿಲ್ 2018
17	❖ ಡಾ. ಬಿ.ಆರ್ ಅಂಬೇಡ್ಕರ್ ರವರ ಕೊಡುಗೆಯನ್ನು ವಿವರಿಸಿ. ❖ ಡಾ. ಬಿ.ಆರ್.ಅಂಬೇಡ್ಕರ್ ರವರ ಸಾಮಾಜಿಕ ಸಮಾನತೆಯ ಕಾಳಜಿಯನ್ನು ಉದಾಹರಣೆಗಳೊಂದಿಗೆ ಸ್ಪಷ್ಟೀಕರಿಸಿ.	4 4	ಏಪ್ರಿಲ್ 2016 ಜೂನ್ 2020
18	❖ ನೆಹರುರವರು ಪ್ರಧಾನ ಮಂತ್ರಿಯಾದ ನಂತರ ರಾಷ್ಟ್ರಕ್ಕೆ ನೀಡಿದ ಪ್ರಮುಖ ಕೊಡುಗೆಗಳನ್ನು ವಿವರಿಸಿ. ❖ ನೆಹರುರವರು ಸ್ವತಂತ್ರ ಭಾರತದ ಅಭಿವೃದ್ಧಿ ಯೋಜನೆಗಳ ರೂವಾರಿ ವಿವರಿಸಿ. ❖ ಸ್ವತಂತ್ರ ಭಾರತದ ಅಭಿವೃದ್ಧಿಗೆ ಜವಾಹರಲಾಲ್ ನೆಹರುರವರು ನೀಡಿರುವ ಕೊಡುಗೆಗಳನ್ನು ವಿವರಿಸಿ.	4 4 4	ಜೂನ್ 2015 ಜೂನ್ 2016 ಜೂನ್ 2018

ಅಧ್ಯಾಯ - 8 : ಸ್ವಾತಂತ್ರ್ಯೋತ್ತರ ಭಾರತ

1,2,3 ಅಂಕಗಳು

1	❖ A ಪಟ್ಟಿಯಲ್ಲಿ ಕೊಟ್ಟಿರುವ ವ್ಯಕ್ತಿಗಳನ್ನು ಅವರಿಗೆ ಸಂಬಂಧಪಟ್ಟ B ಪಟ್ಟಿಯಲ್ಲಿ ನೀಡಿರುವ ವಿಷಯಗಳೊಂದಿಗೆ ಹೊಂದಿಸಿ ಸೂಕ್ತ ಉತ್ತರಗಳ ಕೊಟ್ಟಿರುವ ಸಂಕೀತಗಳಿಂದ ಆರಿಸಿ, ಬರೆಯಿರಿ: A ಪಟ್ಟಿ a) ಫಜಲ್ ಅಲಿ b) ಷೇಕ್ ಅಬ್ದುಲ್ಲಾ c) ಬಾಬು ರಾಜೇಂದ್ರ ಪ್ರಸಾದ್ d) ಸರ್ದಾರ್ ವಲ್ಲಭಭಾಯಿ ಪಟೇಲ್ B ಪಟ್ಟಿ i. ಸಂಸ್ಥಾನಗಳ ವಿಲೀನ ii. ಪ್ರಥಮ ರಾಷ್ಟ್ರಧ್ಯಕ್ಷರು iii. ರಾಜ್ಯ ಪುನರ್ವಿಂಗಡಣಾ ಆಯೋಗ iv. ನ್ಯಾಷನಲ್ ಕಾನ್ಫರೆನ್ಸ್ ಪಕ್ಷ a b c d A) i iii iv ii B) iv i iii ii C) ii i iv iii D) iii iv ii i	1	ಜೂನ್ 2016
---	--	---	-----------

2	❖ A ಪಟ್ಟಿಯಲ್ಲಿ ನಾಯಕರು ಮತ್ತು B ಪಟ್ಟಿಯಲ್ಲಿ ಅವರು ಅಲಂಕರಿಸಿದ್ದ ಹುದ್ದೆಗಳನ್ನು ನೀಡಲಾಗಿದೆ. ಸರಿಯಾಗಿ ಹೊಂದುವ ಉತ್ತರದ ಗುಂಪನ್ನು ಗುರುತಿಸಿ. A ಪಟ್ಟಿ a) ಜವಹರ್ ಲಾಲ್ ನೆಹರು b) ರಾಜೇಂದ್ರ ಪ್ರಸಾದ್ c) ಸರ್ದಾರ್ ವಲ್ಲಭಭಾಯ್ ಪಟೇಲ್ d) ನ್ಯಾಯಮೂರ್ತಿ ಫಜಲ್ ಅಲಿ B ಪಟ್ಟಿ (I) ಪ್ರಥಮ ರಾಷ್ಟ್ರಾಧ್ಯಕ್ಷರು (II) ಪ್ರಥಮ ಗೃಹಮಂತ್ರಿ III) ರಾಜ್ಯ ಪುನರ್ವಿಂಗಡಣಾ ಆಯೋಗ (IV) ಪ್ರಥಮ ಪ್ರಧಾನಮಂತ್ರಿ a b c d A) III IV I II B) IV I II III C) I II III IV D) II III IV I	1	ಜೂನ್ 2017
3	❖ ಭಾರತದ ಉಕ್ಕಿನ ಮನುಷ್ಯ A) ಸರ್ದಾರ್ ವಲ್ಲಭಭಾಯ್ ಪಟೇಲ್ B) ನೇತಾಜಿ ಸುಭಾಷ್ ಚಂದ್ರ ಬೋಸ್ C) ಬಾಲಗಂಗಾಧರ ತಿಲಕ್ D) ಬಾಬಾ ಸಾಹೇಬ್ ಅಂಬೇಡ್ಕರ್	1	ಜುಲೈ 2021
4	❖ ಭಾರತ ಸಂವಿಧಾನ ಜಾರಿಗೆ ಬಂದದ್ದು A) 26ನೇ ಅಕ್ಟೋಬರ್ B) 26ನೇ ಆಗಸ್ಟ್ 1950 C) 15ನೇ ಆಗಸ್ಟ್ 1950 D) 26ನೇ ಜನವರಿ 1950	1	ಜುಲೈ 2021
5	❖ ನಮ್ಮ ಸಂವಿಧಾನದ ಕರಡು ರಚನಾ ಸಮಿತಿಯ ಅಧ್ಯಕ್ಷರು A) ಡಾ. ಬಿ. ಆರ್. ಅಂಬೇಡ್ಕರ್ B) ಡಾ. ರಾಜೇಂದ್ರ ಪ್ರಸಾದ್ C) ಸರದಾರ್ ವಲ್ಲಭಭಾಯಿ ಪಟೇಲ್ D) ಜವಾಹರಲಾಲ್ ನೆಹರು	1	ಸೆಪ್ಟೆಂಬರ್ 2021
6	❖ ಆಂಧ್ರ ಪ್ರದೇಶದಲ್ಲಿ ಪೊಟ್ಟಿ ಶ್ರೀರಾಮುಲು ಆಮರಣಾಂತ ಉಪವಾಸ ಸತ್ಯಾಗ್ರಹವನ್ನು ಮಾಡಿದುದರ ಕಾರಣ A) ಪ್ರತ್ಯೇಕ ಭಾಷಾವಾರು ರಾಜ್ಯ ಬಯಸಿ B) ಪ್ರತ್ಯೇಕ ಗಣರಾಜ್ಯ ಬಯಸಿ C) ಚಾತ್ಯಾತೀತ ರಾಜ್ಯವನ್ನು ಬಯಸಿ D) ಪ್ರತ್ಯೇಕ ಪ್ರಜಾಪ್ರಭುತ್ವ ರಾಷ್ಟ್ರ ಬಯಸಿ	1	ಸೆಪ್ಟೆಂಬರ್ 2021
7	❖ ಭಾರತದ ಪ್ರದೇಶವೊಂದರ ಮೇಲೆ ಸುದೀರ್ಘ ಅವಧಿಯವರೆಗೆ ಆಳ್ವಿಕೆ ನಡೆಸಿದ ಯುರೋಪಿಯನ್ ದೇಶ ಯಾವುದು?	1 1	ಜೂನ್ 2016 ಜೂನ್ 2017
8	❖ ಸ್ವತಂತ್ರ ಭಾರತದ ಪ್ರಥಮ ರಾಷ್ಟ್ರಾಧ್ಯಕ್ಷರು ಯಾರು?	1	ಏಪ್ರಿಲ್ 2017
9	❖ ಸರ್ದಾರ್ ವಲ್ಲಭಭಾಯ್ ಪಟೇಲರನ್ನು 'ಭಾರತದ ಉಕ್ಕಿನ ಮನುಷ್ಯ' ಎಂದು ಕರೆಯುತ್ತಾರೆ. ಏಕೆ?	1	ಏಪ್ರಿಲ್ 2017
10	❖ ಸರ್ದಾರ್ ವಲ್ಲಭಭಾಯಿ ಪಟೇಲರನ್ನು 'ಭಾರತದ ಉಕ್ಕಿನ ಮನುಷ್ಯ' ಎಂದು ಏಕೆ ಕರೆಯಲಾಗಿದೆ?	1	ಏಪ್ರಿಲ್ 2019
11	❖ ಭಾರತದ ಪ್ರಥಮ ರಾಷ್ಟ್ರಾಧ್ಯಕ್ಷರು ಯಾರು?	1	ಏಪ್ರಿಲ್ 2022
12	❖ ಭಾರತವು ಸ್ವಾತಂತ್ರ್ಯ ಗಳಿಸಿದ ಸಂದರ್ಭದಲ್ಲಿ ಎದುರಿಸಿದ ಸಮಸ್ಯೆಗಳಾವುವು?	3	ಏಪ್ರಿಲ್ 2022
13	❖ ನಿರಾಶ್ರಿತರ ಸಮಸ್ಯೆಯನ್ನು ದೇಶವು ಹೇಗೆ ಎದುರಿಸಿತು? ❖ ಭಾರತದ ವಿಭಜನೆಯ ಕಾಲದಿಂದಲೂ ನಿರಾಶ್ರಿತರು ಒಂದು ಬಹು ದೊಡ್ಡ ಸಮಸ್ಯೆಯಾಗಿ ಪರಿಣಮಿಸಿದ್ದಾರೆ. ಸ್ಪಷ್ಟೀಕರಿಸಿ.	2 2	ಏಪ್ರಿಲ್ 2016 ಸೆಪ್ಟೆಂಬರ್ 2020
14	❖ ಸರ್ದಾರ್ ವಲ್ಲಭಭಾಯಿ ಪಟೇಲರು ಭಾರತದ ದೇಶೀಯ ಸಂಸ್ಥಾನಗಳನ್ನು ವಿಲೀನಗೊಳಿಸಿ	2	ಏಪ್ರಿಲ್ 2015

	ಯಶಸ್ವಿಯಾದದ್ದು, ಹೇಗೆ?		
15	❖ ಜುನಾಗಡ ಸಂಸ್ಥಾನವನ್ನು ಭಾರತದ ಒಕ್ಕೂಟಕ್ಕೆ ಹೇಗೆ ಸೇರ್ಪಡೆಗೊಳಿಸಲಾಯಿತು?	2	ಜೂನ್ 2018
16	❖ ಹೈದರಾಬಾದ್ ಭಾರತದ ಒಕ್ಕೂಟದಲ್ಲಿ ವಿಲೀನವಾದ ಬಗೆ ಹೇಗೆ?	2	ಜೂನ್ 2015
17	❖ ಗೋವಾವನ್ನು ಪೂರ್ಣಗೀಸರಿಂದ ಹೇಗೆ ವಿಮುಕ್ತಿಗೊಳಿಸಲಾಯಿತು?	2	ಏಪ್ರಿಲ್ 2016
	❖ 1961 ರಲ್ಲಿ ಪೂರ್ಣಗೀಸರಿಂದ ಗೋವಾವನ್ನು ಹೇಗೆ ವಿಮುಕ್ತಿಗೊಳಿಸಲಾಯಿತು? (ಜೂನ್ 2020)	2	ಜೂನ್ 2022
	❖ ಗೋವಾವನ್ನು ಪೂರ್ಣಗೀಸರಿಂದ ಹೇಗೆ ವಿಮುಕ್ತಿಗೊಳಿಸಲಾಯಿತು?	2	ಜೂನ್ 2018
18	❖ ಸ್ವಾತಂತ್ರ್ಯಾನಂತರ ಭಾಷಾವಾರು ಪ್ರಾಂತ್ಯಗಳ ರಚನೆ ಅನಿವಾರ್ಯವಾಗಿತ್ತು, ಏಕೆ?	2	ಏಪ್ರಿಲ್ 2015
	❖ 'ಭಾಷೆಯ ಆಧಾರದ ಮೇಲೆ ಆಂಧ್ರ ಪ್ರದೇಶದ ರಚನೆ ಭಾರತ ಸರ್ಕಾರಕ್ಕೆ ಅನಿವಾರ್ಯವಾಗಿತ್ತು.' ಏಕೆ?	2	ಏಪ್ರಿಲ್ 2018
	❖ ಸ್ವಾತಂತ್ರ್ಯಾನಂತರ ಭಾರತದಲ್ಲಿ ಭಾಷಾವಾರು ರಾಜ್ಯ ರಚನೆಯು ಅನಿವಾರ್ಯವಾಯಿತು. ಪುಷ್ಟೀಕರಿಸಿ.	2	ಜೂನ್ 2019

ಅಧ್ಯಾಯ - 9 : ಮಹಾಯುದ್ಧಗಳು ಮತ್ತು ಭಾರತದ ಪಾತ್ರ

1,2,3 ಅಂಕಗಳು

1	❖ ಶೀತಲ ಸಮರ ಜರುಗಿದ ಎರಡು ರಾಷ್ಟ್ರಗಳ ಸರಿಯಾದ ಗುಂಪು A) ಅಮೇರಿಕ ಸಂಯುಕ್ತ ಸಂಸ್ಥಾನಗಳು - ಚೀನಾ B) ಚೀನಾ - ಸೋವಿಯತ್ ರಷ್ಯಾ C) ಅಮೇರಿಕ ಸಂಯುಕ್ತ ಸಂಸ್ಥಾನಗಳು - ಜಪಾನ್ D) ಅಮೇರಿಕ ಸಂಯುಕ್ತ ಸಂಸ್ಥಾನಗಳು - ಸೋವಿಯತ್ ರಷ್ಯಾ	1	ಜೂನ್ 2019
2	❖ ಜಪಾನ್ ನ ಯಾವ ಒಂದು ತಪ್ಪು ಹಿರೋಷಿಮಾ ಮತ್ತು ನಾಗಾಸಾಕಿಯ ಜನರು ಇಂದಿಗೂ ದುಷ್ಪರಿಣಾಮಗಳನ್ನು ಎದುರಿಸುವಂತೆ ಮಾಡಿತು?	1	ಜೂನ್ 2018
3	❖ ಹಿಟ್ಲರ್ ನು ಸರ್ವಾಧಿಕಾರಿಯಾಗಲು ಜರ್ಮನಿಯ ಉದ್ಯಮಿಗಳು ಹೇಗೆ ಸಹಾಯ ಮಾಡಿದರು?	1	ಜೂನ್ 2018
4	❖ ಅಮೇರಿಕದಲ್ಲಿ ಮೊದಲನೆಯ ಮಹಾಯುದ್ಧದ ನಂತರ ಕೃಷಿ ಉತ್ಪಾದನೆ ಕುಸಿಯಿತು. ಏಕೆ?	1	ಏಪ್ರಿಲ್ 2019
5	❖ 'ನಾಜಿ ಸಿದ್ಧಾಂತವು ಜರ್ಮನಿಯನ್ನು ಹಾಳುಗಡವಿತು' ಸಮರ್ಥಿಸಿ. ❖ ನಾಜಿ ಸಿದ್ಧಾಂತವು ಜರ್ಮನಿಯನ್ನು ಹೇಗೆ ಹಾಳು ಮಾಡಿತು? ❖ ಜರ್ಮನಿಯ ಅವನತಿಗೆ ಹಿಟ್ಲರ್ ಹೇಗೆ ಕಾರಣನಾದನು?	2 2 2	ಏಪ್ರಿಲ್ 2016 ಜೂನ್ 2017 ಜೂನ್ 2019
6	❖ ಫ್ಯಾಸಿಸ್ಟ್ ವಾದದ ಲಕ್ಷಣಗಳನ್ನು ವಿವರಿಸಿ. ❖ ಫ್ಯಾಸಿಸ್ಟ್ ವಾದದ ಲಕ್ಷಣಗಳೇನು?	2 2	ಏಪ್ರಿಲ್ 2017 ಏಪ್ರಿಲ್ 2019
7	❖ ಎರಡನೇ ಮಹಾಯುದ್ಧದಿಂದಾದ ಪರಿಣಾಮಗಳಾವುವು? ❖ "ಎರಡನೆಯ ಮಹಾಯುದ್ಧವು ಅತ್ಯಂತ ಬರ್ಬರವಾದುದು." ಹೇಗೆ?	2 3	ಜೂನ್ 2015 ಜೂನ್ 2020

ರಾಜ್ಯಶಾಸ್ತ್ರ

ಅಧ್ಯಾಯ-1: ಭಾರತಕ್ಕೆರುವ ಸವಾಲುಗಳು ಹಾಗೂ ಅವುಗಳ ಪರಿಹಾರೋಪಾಯಗಳು 1,2,3,4 ಅಂಕಗಳು

1	❖ ಪ್ರಾದೇಶಿಕ ಸಮಾನತೆಯನ್ನು ತರಲು ಕರ್ನಾಟಕ ಸರ್ಕಾರ ನೇಮಿಸಿದ ಆಯೋಗ A) ಡಾ ಡಿ.ಎಂ ನಂಬುಡಪ್ಪ B) ಮಹಾಜನ್ ಆಯೋಗ	1	ಸೆಪ್ಟೆಂಬರ್ 2021
---	---	---	-----------------

	C) ಮಹಿಷಿ ಆಯೋಗ D) ಗೋಕಾಕ್ ಆಯೋಗ		
2	❖ ರಾಷ್ಟ್ರೀಯ ಸಾಕ್ಷರತಾ ಮಿಷನ್ ಸ್ಥಾಪಿಸಿದ ವರ್ಷ A) 1987 (B) 1988 (C) 1989 (D) 1990	1	ಎಪ್ರಿಲ್ 2015
3	❖ 6 ರಿಂದ 14 ವರ್ಷದ ಮಕ್ಕಳಿಗೆ ಉಚಿತ ಶಿಕ್ಷಣ ನೀಡಲು ಭಾರತ ಸರ್ಕಾರವು 2001 ರಲ್ಲಿ ಜಾರಿಗೆ ತಂದ ಯೋಜನೆ A) ರಾಷ್ಟ್ರೀಯ ಸಾಕ್ಷರತಾ ಮಿಷನ್ B) ಸಾಕ್ಷರ ಭಾರತ C) ಸರ್ವ ಶಿಕ್ಷಣ ಅಭಿಯಾನ D) ರಾಷ್ಟ್ರೀಯ ವಯಸ್ಕರ ಶಿಕ್ಷಣ	1	ಜೂನ್ 2018
4	❖ ನಮ್ಮ ಸಂವಿಧಾನದ 21ನೇ ವಿಧಿಯು ತಿಳಿಸುವುದೆಂದರೆ A) ಪರಿಶಿಷ್ಟ ಜಾತಿ/ಪಂಗಡಗಳ ಶೈಕ್ಷಣಿಕ ಆಸಕ್ತಿಗಳಿಗೆ ಬೆಂಬಲ ನೀಡುವುದು ಸರ್ಕಾರಗಳ ಜವಾಬ್ದಾರಿ B) ಅಲ್ಪ ಸಂಖ್ಯಾತರು ಶೈಕ್ಷಣಿಕ ಸಂಸ್ಥೆಗಳನ್ನು ಸ್ಥಾಪಿಸಲು ಅವಕಾಶ ನೀಡುವುದು. C) ಸಾಮಾಜಿಕ ನ್ಯಾಯ & ಜನರ ಅಭಿವೃದ್ಧಿಗೆ ಅವಕಾಶಗಳನ್ನು ನೀಡುವುದು ರಾಜ್ಯಸರ್ಕಾರಗಳ ಕರ್ತವ್ಯ D) ಶಿಕ್ಷಣವು ಮಕ್ಕಳ ಮೂಲಭೂತ ಹಕ್ಕು ಎಂದು ಘೋಷಿಸುವುದು.	1	ಜೂನ್ 2020
5	❖ ಗ್ರಾಮೀಣ ಮಹಿಳೆಯರ ವಿಕಾಸಕ್ಕಾಗಿ ಕರ್ನಾಟಕ ಸರ್ಕಾರ ಜಾರಿಗೆತಂದ ಕಾರ್ಯಕ್ರಮ A) ಲೋಕಾಯುಕ್ತ B) ಸ್ತ್ರೀಶಕ್ತಿ C) ಸಾಕ್ಷರ ಭಾರತ D) ಕುಟುಂಬ ಕಲ್ಯಾಣ ಕಾರ್ಯಕ್ರಮ ❖ ಕರ್ನಾಟಕ ಸರ್ಕಾರವು ಗ್ರಾಮಾಂತರ ಮಹಿಳೆಯರ ವಿಕಾಸಕ್ಕೆ ರೂಪಿಸಿರುವ ಕಾರ್ಯಕ್ರಮ ಯಾವುದು?	1	ಎಪ್ರಿಲ್ 2016
6	❖ ಲೋಕಾಯುಕ್ತ ಸ್ಥಾಪನೆಯ ಉದ್ದೇಶ A) ಕಮ್ಯುನಿಸಂ ತಡೆಯಲು B) ಭಯೋತ್ಪಾದನೆ ತಡೆಯಲು C) ಪ್ರಾದೇಶಿಕತೆ ತಡೆಯಲು D) ಭ್ರಷ್ಟಾಚಾರ ತಡೆಯಲು	1	ಜುಲೈ 2021
7	❖ ಕೋಮುವಾದ ಎಂದರೇನು?	1	ಜೂನ್ 2015
8	❖ ಭಾರತದಲ್ಲಿ ಕೋಮುವಾದದ ಬೀಜವನ್ನು ಬಿತ್ತಿದ ಬ್ರಿಟಿಷರ ನೀತಿ ಯಾವುದು?	1	ಎಪ್ರಿಲ್ 2018
9	❖ ಡಾ ಡಿ.ಎಂ ನಂಜುಂಡಪ್ಪ ಸಮಿತಿಯನ್ನು ಏಕೆ ರಚಿಸಲಾಗಿದೆ? ❖ ಕರ್ನಾಟಕ ಸರ್ಕಾರ ನಂಜುಂಡಪ್ಪ ಸಮಿತಿಯನ್ನು ಏಕೆ ರಚಿಸಿದೆ?	1	ಎಪ್ರಿಲ್ 2017
10	❖ ಕೋಮುವಾದವು ದೇಶದ ಐಕ್ಯತೆಗೆ ಮಾರಕವಾಗಿದೆ. ಹೇಗೆ?	2	ಎಪ್ರಿಲ್ 2016
11	❖ ಭಾರತದಲ್ಲಿ ಪ್ರಾದೇಶಿಕವಾದವು ಸಹಜವಾಗಿ ಬೆಳೆಯಲು ಕಾರಣವಾಗುವ ಅಂಶಗಳಾವುವು?	2	ಜೂನ್ 2018
12	❖ ಅನಕ್ಷರತೆಯನ್ನು ನಿವಾರಿಸಲು ಭಾರತ ಸರ್ಕಾರ ಕೈಗೊಂಡಿರುವ ಕ್ರಮಗಳಾವುವು? (ಜೂನ್ 2015) ❖ ಸಾಕ್ಷರತೆಯ ಮಟ್ಟವನ್ನು ಹೆಚ್ಚಿಸಲು ಸರ್ಕಾರವು ಕೈಗೊಂಡಿರುವ ಯಾವುದಾದರೂ ನಾಲ್ಕು ಕ್ರಮಗಳನ್ನು ಬರೆಯಿರಿ.	2	ಎಪ್ರಿಲ್ 2018
13	❖ ಜನಸಂಖ್ಯಾ ಸ್ಪೋಟವು ಹಲವಾರು ಸಮಸ್ಯೆಗಳ ಉಗಮಕ್ಕೆ ಹೇಗೆ ಕಾರಣವಾಗಿದೆ?	2	ಎಪ್ರಿಲ್ 2017
14	❖ ಭಾರತದ ಆಂತರಿಕ ಸಮಸ್ಯೆಯಾಗುವ ಕೋಮುವಾದದ ನಿವಾರಣೆಗೆ ನಿಮ್ಮ ಸಲಹೆಗಳೇನು?	3	ಜೂನ್ 2020
15	❖ ಮಹಿಳೆಯರ ಸ್ಥಾನಮಾನ ಉತ್ತಮ ಪಡಿಸಲು ಸರ್ಕಾರ ಕೈಗೊಂಡಿರುವ ಕ್ರಮಗಳಾವುವು? ❖ ಭಾರತದಲ್ಲಿ ಮಹಿಳೆಯರ ಸ್ಥಾನಮಾನ ಉತ್ತಮಪಡಿಸಲು ಕೈಗೊಂಡಿರುವ ಕ್ರಮಗಳೇನು? ❖ ಇತ್ತೀಚಿನ ದಿನಗಳಲ್ಲಿ ಪರಿಸ್ಥಿತಿಯು ಮಹಿಳೆಯರು ಉತ್ತಮ ಸಾಧನೆ ಮಾಡಲು ಪೂರಕವಾಗಿವೆ.ಹೇಗೆ? ❖ ಮಹಿಳೆಯರ ಸ್ಥಾನಮಾನ ಉತ್ತಮಪಡಿಸಲು ಸರ್ಕಾರ ಕೈಗೊಂಡಿರುವ ಕ್ರಮಗಳಾವುವು?	2	ಜೂನ್ 2017
		4	ಎಪ್ರಿಲ್ 2022
		4	ಸೆಪ್ಟೆಂಬರ್ 2020
		4	ಜೂನ್ 2022

16	❖ ಬಡತನ ನಿವಾರಣೆಗೆ ಸರ್ಕಾರ ಕೈಗೊಂಡಿರುವ ಕಾರ್ಯಕ್ರಮಗಳೇನು?	3	ಜೂನ್ 2019
ಅಧ್ಯಾಯ - 2 : ಅನ್ಯರಾಷ್ಟ್ರಗಳೊಂದಿಗೆ ಭಾರತದ ಸಂಬಂಧ			1,3 ಅಂಕಗಳು
1	❖ ಭಾರತ- ಚೀನಾ ದೇಶಗಳ ಸಂಬಂಧವು ಈ ತತ್ವಗಳ ಮೇಲೆ ಅವಲಂಬಿತವಾಗಿದೆ A) ಕಮ್ಯುನಿಸ್ಟ್ ಮತ್ತು ಹಿಂದೂ ತತ್ವ B) ಆರ್ಥಿಕ ಮತ್ತು ರಾಜಕೀಯ ತತ್ವ C) ಪಂಚಶೀಲ ಮತ್ತು ಹಿಂದೂ-ಚೀನಿ ಭಾಯಿಭಾಯಿ ತತ್ವ D) ಪ್ರಜಾಪ್ರಭುತ್ವ ಮತ್ತು ಸಮಾನತೆಯ ತತ್ವಗಳು	1	ಜೂನ್ 2015
2	❖ 1954ರಲ್ಲಿ ಭಾರತದೊಂದಿಗೆ ಪಂಚಶೀಲ ತತ್ವಗಳಿಗೆ ಸಹಿ ಹಾಕಿದ ರಾಷ್ಟ್ರ A) ಚೀನಾ B) ಇಂಡೋನೇಷ್ಯಾ C) ಪಾಕಿಸ್ತಾನ D) ಶ್ರೀಲಂಕಾ	1	ಸೆಪ್ಟೆಂಬರ್ 2021
3	❖ ತಾಷ್ಕೆಂಟಿನಲ್ಲಿ ಭಾರತ ಮತ್ತು ಪಾಕಿಸ್ತಾನಗಳ ಮಧ್ಯೆ ಒಪ್ಪಂದವಾದದ್ದು 1962 ರಲ್ಲಿ 1963 ರಲ್ಲಿ 1965 ರಲ್ಲಿ 1966 ರಲ್ಲಿ	1	ಜೂನ್ 2019
4	❖ ಭಾರತವು ರಷ್ಯಾದ ನೆರವಿನೊಂದಿಗೆ ಸ್ಥಾಪಿಸಿದ ಕಬ್ಬಿಣ ಮತ್ತು ಉಕ್ಕಿನ ಕೈಗಾರಿಕೆಗಳು A) ಬೊಕಾರೊ ಮತ್ತು ಭಿಲೈ ಕಬ್ಬಿಣ ಮತ್ತು ಉಕ್ಕಿನ ಕೈಗಾರಿಕೆಗಳು B) ಸೇಲಂ ಮತ್ತು ವಿಜಯನಗರ ಕಬ್ಬಿಣ ಮತ್ತು ಉಕ್ಕಿನ ಕೈಗಾರಿಕೆಗಳು C) ಭದ್ರಾವತಿ ಮತ್ತು ಬೊಕಾರೊ ಕಬ್ಬಿಣ ಮತ್ತು ಉಕ್ಕಿನ ಕೈಗಾರಿಕೆಗಳು D) ರೂರ್ಕೆಲ ಮತ್ತು ದುರ್ಗಾಪುರ ಕಬ್ಬಿಣ ಮತ್ತು ಉಕ್ಕಿನ ಕೈಗಾರಿಕೆಗಳು	1	ಜುಲೈ 2021
5	❖ ಭಾರತ ಮತ್ತು ಪಾಕಿಸ್ತಾನಗಳು ನಿರಂತರ ಘರ್ಷಣೆಯಿಂದಿರಲು ಕಾರಣವೇನು? ❖ ಪಾಕಿಸ್ತಾನವು ಭಾರತದೊಂದಿಗೆ ಸೌಹಾರ್ದಯುತ ಸಂಬಂಧವನ್ನು ಹೊಂದಲು ವಿಫಲವಾಗಿದೆ. ಏಕೆ?	1 1	ಜೂನ್ 2019 ಜೂನ್ 2018
6	❖ 1962 ರಲ್ಲಿ ಭಾರತದ ಮೇಲೆ ಆಕ್ರಮಣ ಮಾಡಿದ ನೆರೆಯ ರಾಷ್ಟ್ರ ಯಾವುದು?	1	ಜೂನ್ 2022
7	❖ ಅನ್ಯರಾಷ್ಟ್ರಗಳೊಡನೆ ಭಾರತಕ್ಕೆ ಉತ್ತಮ ಬಾಂಧವ್ಯ ಅವಶ್ಯಕ. ಏಕೆ?	3	ಜೂನ್ 2016
8	❖ ಇತ್ತೀಚಿನ ದಿನಗಳಲ್ಲಿ ಚೀನಾದೊಂದಿಗೆ ಭಾರತದ ಬಾಂಧವ್ಯ ಹದಗೆಡಲು ಕಾರಣವೇನು? ವಿವರಿಸಿ ❖ ಇತ್ತೀಚಿನ ದಿನಗಳಲ್ಲಿ ಭಾರತ ಮತ್ತು ಚೀನಾಗಳ ನಡುವಣ ಸಂಬಂಧ ಹದಗೆಟ್ಟಿದೆ. ಸ್ಪಷ್ಟೀಕರಿಸಿ. ❖ "ಭಾರತ ಮತ್ತು ಚೀನಾಗಳ ನಡುವಿನ ಸಂಬಂಧವು ನಿರೀಕ್ಷಿತ ಫಲವನ್ನು ನೀಡುವಲ್ಲಿ ವಿಫಲವಾಗಿದೆ." ಸಮರ್ಥಿಸಿ.	3 3 3	ಜೂನ್ 2017 ಏಪ್ರಿಲ್ 2018 ಜೂನ್ 2018
9	❖ ಭಾರತ ಮತ್ತು ಅಮೇರಿಕಾ ದೇಶಗಳ ನಡುವಿನ ಪರಸ್ಪರ ಸಂಬಂಧವು ಸೌಹಾರ್ದಯುತವಾಗಿದೆ. ಸ್ಪಷ್ಟೀಕರಿಸಿ.	3	ಏಪ್ರಿಲ್ 2017
10	❖ ಭಾರತ ಹಾಗೂ ರಾಷ್ಟ್ರ ಸಂಬಂಧವನ್ನು ವಿವರಿಸಿ. ❖ ಭಾರತ ಹಾಗೂ ರಾಷ್ಟ್ರ ಸಂಬಂಧವನ್ನು ವಿವರಿಸಿ. ❖ ರಷ್ಯಾದೊಂದಿಗೆ ಭಾರತದ ಸಂಬಂಧವನ್ನು ವಿವರಿಸಿ. (ಏಪ್ರಿಲ್ 2016)(ಏಪ್ರಿಲ್ 2022) ❖ ಭಾರತ ಮತ್ತು ರಷ್ಯಾ ದೇಶಗಳು ಉತ್ತಮ ಬಾಂಧವ್ಯ ಹೊಂದಿವೆ. ವಿವರಿಸಿ.	3 3 3 3	ಏಪ್ರಿಲ್ 2015 ಜೂನ್ 2015 ಜೂನ್ 2022 ಸೆಪ್ಟೆಂಬರ್ 2020
ಅಧ್ಯಾಯ - 3 : ಜಾಗತಿಕ ಸವಾಲುಗಳು ಹಾಗೂ ಭಾರತದ ಪಾತ್ರ			1,2,3 ಅಂಕಗಳು
1	❖ ವಿಶ್ವಸಂಸ್ಥೆಯ ಇತಿಹಾಸದಲ್ಲಿ 1948 ಡಿಸೆಂಬರ್ 10 ಮಹತ್ವದ ದಿನವಾಗಿದೆ. ಏಕೆಂದರೆ A) ಮಾನವ ಹಕ್ಕುಗಳ ಘೋಷಣೆಯಾಯಿತು B) ವಿಶ್ವಸಂಸ್ಥೆ ಸ್ಥಾಪನೆಯಾಯಿತು	1	ಏಪ್ರಿಲ್ 2016

	C) ನಿಶ್ಚಯೀಕರಣ ಸಾಧಿಸಲಾಯಿತು D) ವರ್ಣಭೇದ ನೀತಿಯು ಕೊನೆಗೊಂಡಿತು		
2	❖ ನಾವು 10ನೇ ಡಿಸೆಂಬರನ್ನು ಮಾನವ ಹಕ್ಕುಗಳ ದಿನವನ್ನಾಗಿ ಆಚರಿಸುತ್ತೇವೆ. ಏಕೆಂದರೆ, A) ಅಬ್ರಹಾಂ ಲಿಂಕನ್ ಗುಲಾಮಗಿರಿಯನ್ನು ರದ್ದುಪಡಿಸಿದ್ದು 10ನೇ ಡಿಸೆಂಬರ್ 1865 B) ನೆಲ್ಸನ್ ಮಂಡೇಲಾ ಸೆರೆವಾಸದಿಂದ ಬಿಡುಗಡೆಗೊಂಡಿದ್ದು 10ನೇ ಡಿಸೆಂಬರ್ 1993 C) ವಿಶ್ವಸಂಸ್ಥೆ ಸಾರ್ವತ್ರಿಕ ಮಾನವ ಹಕ್ಕುಗಳನ್ನು ಘೋಷಿಸಿದ್ದು 10ನೇ ಡಿಸೆಂಬರ್ 1948 D) ಭಾರತವು ತನ್ನ ನಾಗರಿಕರಿಗೆ ಮೂಲಭೂತ ಹಕ್ಕುಗಳನ್ನು ಈ ದಿನ ಘೋಷಿಸಿದ್ದು	1	ಎಪ್ರಿಲ್ 2018
3	❖ ವಿಶ್ವಸಂಸ್ಥೆಯು ಮಾನವ ಹಕ್ಕುಗಳ ಘೋಷಣೆಯನ್ನು ಅಂಗೀಕರಿಸಿದ ವರ್ಷ A) 1945 B) 1950 C) 1947 D) 1948	1	ಎಪ್ರಿಲ್ 2019
4	❖ 1789 ರ ಫ್ರಾನ್ಸಿನ ಮಹಾಕ್ರಾಂತಿಯ ಪ್ರಮುಖ ಉದ್ದೇಶ A) ವಿಶ್ವಸಂಸ್ಥೆ ಸ್ಥಾಪನೆ B) ಮಾನವ ಹಕ್ಕುಗಳ ಸಂರಕ್ಷಣೆ C) ವಿದೇಶೀಯರ ಆಕ್ರಮಣ ತಡೆಯುವುದು D) ರಾಷ್ಟ್ರಸಂಘದ ಸ್ಥಾಪನೆ	1	ಸೆಪ್ಟೆಂಬರ್ 2020
5	❖ 26/11ರ ಮುಂಬೈನ ತಾಜ್ ಹೋಟೆಲ್ ಮೇಲಿನ ಭಯೋತ್ಪಾದಕರ ದಾಳಿಯು ಈ ರಾಷ್ಟ್ರಗಳ ಸಂಬಂಧಕ್ಕೆ ಧಕ್ಕೆ ತಂದಿದೆ. A) ಭಾರತ-ನೇಪಾಳ B) ಭಾರತ-ಮಯನ್ಮಾರ್ C) ಭಾರತ-ಪಾಕಿಸ್ತಾನ D) ಭಾರತ-ಶ್ರೀಲಂಕಾ	1	ಜೂನ್ 2017
6	❖ ಮಾನವ ಹಕ್ಕುಗಳ ದಿನವನ್ನು ಎಂದು ಆಚರಿಸುತ್ತೇವೆ?	1	ಜೂನ್ 2020
7	❖ ನಿಶ್ಚಯೀಕರಣ ಎಂದರೇನು?	1	ಎಪ್ರಿಲ್ 2019
8	❖ ದ್ವಿತೀಯ ಮಹಾಯುದ್ಧದ ಬಳಿಕ ಎದುರಾದ ಪ್ರಮುಖ ಸಮಸ್ಯೆಗಳಾವುವು?	2	ಜೂನ್ 2022
9	❖ ಯಾವ ಅಂಶಗಳು ಮಾನವ ಹಕ್ಕುಗಳ ಹೋರಾಟಕ್ಕೆ ಸ್ಪೂರ್ತಿಯಾದವು?	2	ಜೂನ್ 2019
10	❖ 'ಮಾನವ ಹಕ್ಕುಗಳ ಪ್ರತಿಪಾದನೆಯ ನಿಟ್ಟಿನಲ್ಲಿ ಭಾರತವು ನಿರಂತರ ಪ್ರಯತ್ನಗಳನ್ನು ನಡೆಸುತ್ತಿದೆ'. ಈ ಹೇಳಿಕೆಯನ್ನು ಸಮರ್ಥಿಸಿ. ❖ 'ಮಾನವ ಹಕ್ಕುಗಳ ಪ್ರತಿಪಾದನೆಯಲ್ಲಿ ಭಾರತ ಪ್ರಮುಖ ಪಾತ್ರವಹಿಸುತ್ತಿದೆ.' ಸ್ಪಷ್ಟೀಕರಿಸಿ. ❖ ಮಾನವ ಹಕ್ಕುಗಳ ಪ್ರತಿಪಾದನೆಗಾಗಿ ಭಾರತವು ನಡೆಸುತ್ತಿರುವ ಹೋರಾಟವನ್ನು ವಿವರಿಸಿ.	2 3 2	ಜೂನ್ 2016 ಎಪ್ರಿಲ್ 2018 ಎಪ್ರಿಲ್ 2022
11	❖ ಭಯೋತ್ಪಾದನೆಯಿಂದ ಉಂಟಾಗುವ ನಾಲ್ಕು ಪರಿಣಾಮಗಳನ್ನು ತಿಳಿಸಿ. ❖ ಭಯೋತ್ಪಾದನೆಯ ಪರಿಣಾಮಗಳೇನು? ❖ ಭಯೋತ್ಪಾದನೆಯಿಂದ ಉಂಟಾಗುವ ಪರಿಣಾಮಗಳನ್ನು ವಿವರಿಸಿ. ❖ ಭಯೋತ್ಪಾದನೆಯಿಂದ ಉಂಟಾಗುವ ಪರಿಣಾಮಗಳೇನು? ❖ ಭಯೋತ್ಪಾದನೆಯು ಕಾನೂನು ಬಾಹಿರ ಹಾಗೂ ಸಮಾಜದ್ರೋಹಿ ಕೃತ್ಯ ಸಮರ್ಥಿಸಿ.	2 2 2 2 3	ಎಪ್ರಿಲ್ 2015 ಜೂನ್ 2015 ಎಪ್ರಿಲ್ 2017 ಜೂನ್ 2017 ಜೂನ್ 2018
ಅಧ್ಯಾಯ - 4 : ಜಾಗತಿಕ ಸಂಸ್ಥೆಗಳು		1,2,3 ಅಂಕಗಳು	
1	❖ ಜಾಗತಿಕ ಶಾಂತಿಗಾಗಿ ಪ್ರಾರಂಭವಾಗಿದ್ದ "ಲೀಗ್ ಆಫ್ ನೇಷನ್ಸ್" ವಿಫಲತೆ ಹೊಂದಲು ಕಾರಣ A) ವಿಶ್ವಸಂಸ್ಥೆ ಸ್ಥಾಪನೆಯಾಯಿತು. B) 1939ರಲ್ಲಿ ದ್ವಿತೀಯ ಮಹಾಯುದ್ಧ ಪ್ರಾರಂಭವಾಯಿತು. C) ಮೊದಲನೆಯ ವಿಶ್ವಸಮರ ಅಂತಿಮಗೊಂಡಿತು. D) ಶೀತಲ ಸಮರ ಆರಂಭವಾಯಿತು.	1	ಎಪ್ರಿಲ್ 2017
2	❖ ಅಕ್ಟೋಬರ್ 24, 1945 ಒಂದು ವಿಶೇಷವಾದ ದಿನವಾಗಿದೆ. ಏಕೆಂದರೆ A) ವಿಶ್ವಸಂಸ್ಥೆ ಸ್ಥಾಪನೆಯಾಯಿತು B) ಕಾಮನ್ ವೆಲ್ತ್ ಸ್ಥಾಪನೆಯಾಯಿತು C) ಯುರೋಪಿಯನ್ ಯುನಿಯನ್ ಸ್ಥಾಪನೆಯಾಯಿತು D) ಸಾರ್ಕ್ ಸ್ಥಾಪನೆಯಾಯಿತು	1	ಜೂನ್ 2017

3	❖ ವಿಶ್ವಸಂಸ್ಥೆಯ ಪ್ರಧಾನ ಕಛೇರಿ ಇರುವುದು A) ಪ್ಯಾರಿಸ್ B) ಜೀನಿವಾ C) ವಾಷಿಂಗ್ಟನ್ D) ನ್ಯೂಯಾರ್ಕ್ ❖ ವಿಶ್ವಸಂಸ್ಥೆಯ ಪ್ರಧಾನ ಕಛೇರಿ ಇರುವುದು A) ನ್ಯೂಯಾರ್ಕ್ B) ಪ್ಯಾರಿಸ್ C) ರೋಮ್ D) ಜೀನಿವಾ ❖ ವಿಶ್ವಸಂಸ್ಥೆಯ ಪ್ರಧಾನ ಕಛೇರಿ ಇರುವುದು A) ನ್ಯೂಯಾರ್ಕ್ B) ಹೇಗ್ C) ವಾಷಿಂಗ್ಟನ್ D) ರೋಮ್	1 1 1	ಎಪ್ರಿಲ್ 2017 ಜೂನ್ 2018 ಸೆಪ್ಟೆಂಬರ್ 2021
4	❖ ವಿಶ್ವಸಂಸ್ಥೆಯ ಈ ಅಂಗಸಂಸ್ಥೆಯನ್ನು ಜಾಗತಿಕ ಸಂಸತ್ತು ಎಂದು ಕರೆಯುತ್ತಾರೆ. A) ಸಚಿವಾಲಯ B) ಭದ್ರತಾ ಸಮಿತಿ C) ಸಾಮಾನ್ಯ ಸಭೆ D) ದತ್ತಿ ಸಮಿತಿ	1	ಜೂನ್ 2016
5	❖ ವಿಶ್ವಸಂಸ್ಥೆಯ ಪ್ರತಿ ಸದಸ್ಯ ರಾಷ್ಟ್ರವು ಸಾಮಾನ್ಯ ಸಭೆಗೆ ಕಳುಹಿಸಬೇಕಾದ ಪ್ರತಿನಿಧಿಗಳ ಸಂಖ್ಯೆ A) 2 B) 3 C) 4 D) 5	1	ಸೆಪ್ಟೆಂಬರ್ 2021
6	❖ ಭದ್ರತಾ ಸಮಿತಿಯ ಖಾಯಂ ಸದಸ್ಯ ರಾಷ್ಟ್ರಗಳು ಈ ಕೆಳಕಂಡಂತಿವೆ A) ಅಮೇರಿಕಾ, ಭಾರತ, ಪಾಕಿಸ್ತಾನ, ಶ್ರೀಲಂಕಾ ಮತ್ತು ಚೀನಾ B) ಅಮೇರಿಕಾ, ರಷ್ಯಾ, ಬ್ರಿಟನ್, ಫ್ರಾನ್ಸ್ ಮತ್ತು ಚೀನಾ C) ಅಮೇರಿಕಾ, ರಷ್ಯಾ, ನೇಪಾಳ, ಪಾಕಿಸ್ತಾನ ಮತ್ತು ಬಾಂಗ್ಲಾ ದೇಶ D) ಅಮೇರಿಕಾ, ಸ್ವಿಡ್ಜರ್ಲ್ಯಾಂಡ್, ಚೀನಾ, ನೇಪಾಳ ಮತ್ತು ಭಾರತ	1	ಜೂನ್ 2015
7	❖ ವಿಶ್ವಸಂಸ್ಥೆಯ ಭದ್ರತಾ ಸಮಿತಿಯಲ್ಲಿ ಖಾಯಂ ಸದಸ್ಯವಲ್ಲದ ರಾಷ್ಟ್ರ A) ಅಮೇರಿಕ ಸಂಯುಕ್ತ ಸಂಸ್ಥಾನ B) ರಷ್ಯಾ C) ಚೀನಾ D) ಭಾರತ	1	ಸೆಪ್ಟೆಂಬರ್ 2021
8	❖ ವಿಶ್ವಸಂಸ್ಥೆಯ ಭದ್ರತಾ ಸಮಿತಿಗೆ ಸಂಬಂಧಿಸಿದಂತೆ ಸರಿಯಾದ ಹೇಳಿಕೆ A) ಅದು 15 ಖಾಯಂ ಸದಸ್ಯರನ್ನು ಹೊಂದಿದೆ. B) ಅದು ವಿಶ್ವಸಂಸ್ಥೆಯ ಸಚಿವ ಸಂಪುಟವಿದ್ದಂತೆ. C) ಅದು ಪ್ಯಾರಿಸ್ ನಲ್ಲಿ ತನ್ನ ಕೇಂದ್ರ ಕಛೇರಿ ಹೊಂದಿದೆ. D) ಇತ್ತೀಚೆಗೆ ಭಾರತ ಖಾಯಂ ಸದಸ್ಯತ್ವ ಪಡೆದಿದೆ.	1	ಎಪ್ರಿಲ್ 2019
9	❖ ಆಹಾರ ಮತ್ತು ಕೃಷಿ ಸಂಸ್ಥೆಯ ಪ್ರಧಾನ ಕಛೇರಿ ಇರುವ ಸ್ಥಳ A) ರೋಮ್ B) ಹೊಸ ದಿಲ್ಲಿ C) ನ್ಯೂಯಾರ್ಕ್ D) ಜಿನೀವಾ	1	ಜೂನ್ 2019
10	❖ ವಿಶ್ವಸಂಸ್ಥೆ ಎಂಬ ಪದವನ್ನು ಮೊದಲ ಬಾರಿಗೆ ಚಾಲ್ತಿಗೆ ತಂದವರು ಯಾರು?	1	ಜೂನ್ 2016
11	❖ ವಿಶ್ವಸಂಸ್ಥೆಯ ದತ್ತಿ ಸಮಿತಿಯ ಕಾರ್ಯಕ್ಷೇತ್ರ ಕಡಿಯಾಗಿದೆ. ಏಕೆ?	1	ಜೂನ್ 2017
12	❖ ಅಂತರರಾಷ್ಟ್ರೀಯ ನ್ಯಾಯಾಲಯ ಎಲ್ಲಿದೆ?	1	ಎಪ್ರಿಲ್ 2015
13	❖ ವಿಶ್ವಸಂಸ್ಥೆಯ ಭದ್ರತಾ ಸಮಿತಿಯು ಅಂತರರಾಷ್ಟ್ರೀಯ ನ್ಯಾಯಾಲಯದಲ್ಲಿ ಪ್ರಮುಖ ಪಾತ್ರವಹಿಸುತ್ತದೆ. ಏಕೆ?	1	ಎಪ್ರಿಲ್ 2015
14	❖ ಯುನಿಸೆಫ್ ಮಕ್ಕಳ ಅಭಿವೃದ್ಧಿಗೆ ಹೇಗೆ ಶ್ರಮಿಸುತ್ತಿದೆ?	1	ಜೂನ್ 2018
15	❖ ಆಹಾರ ಮತ್ತು ಕೃಷಿ ಸಂಸ್ಥೆಯ ಮುಖ್ಯ ಉದ್ದೇಶವೇನು?	1	ಸೆಪ್ಟೆಂಬರ್ 2020
16	❖ ಜಾಗತಿಕ ಸಮಸ್ಯೆಗಳನ್ನು ಪರಿಹರಿಸಲು ಆಹಾರ ಮತ್ತು ಕೃಷಿ ಸಂಸ್ಥೆ ಹೇಗೆ ಕಾರ್ಯ ನಿರ್ವಹಿಸುತ್ತಿದೆ?	2	ಎಪ್ರಿಲ್ 2018
17	❖ ವಿಶ್ವಸಂಸ್ಥೆಯ ಭದ್ರತಾ ಸಮಿತಿಯ ಕಾರ್ಯಗಳನ್ನು ವಿವರಿಸಿ. ❖ ಭದ್ರತಾ ಸಮಿತಿಯನ್ನು ವಿಶ್ವಸಂಸ್ಥೆಯ ಸಚಿವ ಸಂಪುಟವೆಂದು ಏಕೆ ಪರಿಗಣಿಸಲಾಗಿದೆ?	2 2	ಜೂನ್ 2020 ಸೆಪ್ಟೆಂಬರ್ 2020

18	❖ 'ಜಾಗತಿಕ ಮಟ್ಟದ ಆರ್ಥಿಕ ಸಮಸ್ಯೆಗಳ ಪರಿಹಾರದಲ್ಲಿ ಐ.ಎಮ್.ಎಫ್ ಪ್ರಮುಖ ಪಾತ್ರವನ್ನು ವಹಿಸುತ್ತದೆ' ಈ ಹೇಳಿಕೆಯನ್ನು ಸಮರ್ಥಿಸಿ.	2	ಎಪ್ರಿಲ್ 2016
29	❖ ವಿಶ್ವಸಂಸ್ಥೆಯ ಧೈಯೋದ್ದೇಶಗಳನ್ನು ವಿವರಿಸಿ.	3	ಎಪ್ರಿಲ್ 2019
20	❖ ವಿಶ್ವಸಂಸ್ಥೆಯ ಸಾಧನೆಗಳೇನು?	3	ಜೂನ್ 2019
ಸಮಾಜಶಾಸ್ತ್ರ			

ಅಧ್ಯಾಯ - 1 : ಸಾಮಾಜಿಕ ಸ್ವರ ವಿನ್ಯಾಸ

1,2,3 ಅಂಕಗಳು

1	❖ 'ಮಾನವಕುಲ ತಾನೊಂದೇ ವಲಂ' ಈ ವಾಕ್ಯವನ್ನು ವ್ಯಕ್ತಪಡಿಸಿದವರು A) ಜನ್ನ (B) ಪಂಪ (C) ರನ್ನ (D) ಪೊನ್ನ	1	ಎಪ್ರಿಲ್ 2015 ಎಪ್ರಿಲ್ 2017
2	❖ ಸಂವಿಧಾನದ ----- ವಿಧಿಯು ಅಸ್ಪೃಶ್ಯತಾ ಆಚರಣೆಯು ಒಂದು ಶಿಕ್ಷಾರ್ಹ ಅಪರಾಧ ಎಂದಿದೆ. A) 11ನೇ ವಿಧಿ B) 17ನೇ ವಿಧಿ C) 13ನೇ ವಿಧಿ D) 15ನೇ ವಿಧಿ ❖ ಅಸ್ಪೃಶ್ಯತೆಯನ್ನು ನಿಷೇಧಿಸುವ ನಮ್ಮ ಸಂವಿಧಾನದ ವಿಧಿ A) 17 B) 20 C) 39 D) 41	1	ಜೂನ್ 2015 ಸೆಪ್ಟೆಂಬರ್ 2021
3	❖ ಅಸ್ಪೃಶ್ಯತಾ ಅಪರಾಧ ಕಾಯ್ದೆಯನ್ನು ಜಾರಿಗೆ ತರಲಾದ ವರ್ಷ A) 1950 B) 1955 C) 1958 D) 1974	1	ಸೆಪ್ಟೆಂಬರ್ 2021
4	❖ ಅಸ್ಪೃಶ್ಯತಾ ಅಪರಾಧಗಳ ಕಾಯ್ದೆಯನ್ನು 1976 ರಲ್ಲಿ ಅಗತ್ಯ ಬದಲಾವಣೆಗಳೊಂದಿಗೆ ಜಾರಿಗೆ ತರಲಾದದ್ದು A) ಗ್ರಾಹಕ ಹಕ್ಕುಗಳ ಸಂರಕ್ಷಣಾ ಕಾಯ್ದೆ B) ಅಸ್ಪೃಶ್ಯತೆ ಹಕ್ಕುಗಳ ಸಂರಕ್ಷಣಾ ಕಾಯ್ದೆ C) ಅಪರಾಧ ಹಕ್ಕುಗಳ ಸಂರಕ್ಷಣಾ ಕಾಯ್ದೆ D) ನಾಗರಿಕ ಹಕ್ಕುಗಳ ಸಂರಕ್ಷಣಾ ಕಾಯ್ದೆ	1	ಜುಲೈ 2021
5	❖ ಸಾಮಾಜಿಕ ಸ್ವರ ವಿನ್ಯಾಸ ಎಂದರೇನು?	1	ಜೂನ್ 2016
6	❖ ಅಸ್ಪೃಶ್ಯತೆಯ ತಡೆಗೆ ಕೈಗೊಂಡ ಶಾಸನಾತ್ಮಕ ಕ್ರಮಗಳಾವುವು? ❖ ಅಸ್ಪೃಶ್ಯತೆ ನಿವಾರಣೆಗೆ ತೆಗೆದುಕೊಂಡಿರುವ ಸಂವಿಧಾನಾತ್ಮಕ ಮತ್ತು ಶಾಸನಾತ್ಮಕ ಕ್ರಮಗಳಾವುವು? ವಿವರಿಸಿ. (ಎಪ್ರಿಲ್ 2016)(ಜೂನ್ 2016) ❖ ಅಸ್ಪೃಶ್ಯತೆ ನಿವಾರಣೆಗೆ ತೆಗೆದುಕೊಂಡಿರುವ ಸಂವಿಧಾನಾತ್ಮಕ ಮತ್ತು ಶಾಸನಾತ್ಮಕ ಕ್ರಮಗಳನ್ನು ವಿವರಿಸಿ. ❖ ಸರ್ಕಾರವು ಅಸ್ಪೃಶ್ಯತೆಯ ನಿವಾರಣೆಗೆ ಹೇಗೆ ಪ್ರಯತ್ನಿಸುತ್ತಿದೆ? ❖ 'ಭಾರತದಲ್ಲಿ ಅಸ್ಪೃಶ್ಯತೆಯ ಆಚರಣೆಯು ಇತ್ತೀಚಿನ ದಿನಗಳಲ್ಲಿ ಕಡಿಮೆಯಾಗುತ್ತಿದೆ.' ಕಾರಣಗಳನ್ನು ಕೊಡಿ. ❖ 'ಭಾರತದಲ್ಲಿ ಅಸ್ಪೃಶ್ಯತೆಯ ಆಚರಣೆಯು ಇತ್ತೀಚಿನ ದಿನಗಳಲ್ಲಿ ಕಡಿಮೆಯಾಗುತ್ತಿದೆ.' ಸಮರ್ಥಿಸಿ. ❖ ಭಾರತದಲ್ಲಿ ಅಸ್ಪೃಶ್ಯತೆಯನ್ನು ತೊಡೆದು ಹಾಕಲು ಜಾರಿಗೊಳಿಸಿರುವ ಕಾನೂನು ಕ್ರಮಗಳನ್ನು ವಿವರಿಸಿ. ❖ ಅಸ್ಪೃಶ್ಯತಾ ತಡೆಗೆ ಸಂವಿಧಾನಾತ್ಮಕ ಕ್ರಮಗಳನ್ನು ತಿಳಿಸಿ. ❖ ಇತ್ತೀಚಿನ ದಿನಗಳಲ್ಲಿ ಅಸ್ಪೃಶ್ಯತೆಯ ಸಮಸ್ಯೆ ಕಡಿಮೆಯಾಗುತ್ತಿದೆ. ಸ್ಪಷ್ಟೀಕರಿಸಿ. ❖ ಭಾರತದಲ್ಲಿ ಅಸ್ಪೃಶ್ಯತೆ ನಿವಾರಣೆಗೆ ಇರುವ ಕಾನೂನು ಕ್ರಮಗಳನ್ನು ಬರೆಯಿರಿ. ❖ ಸ್ವತಂತ್ರ ಭಾರತವು ಅಸ್ಪೃಶ್ಯತೆಯ ನಿವಾರಣೆಗಾಗಿ ತೆಗೆದುಕೊಂಡಿರುವ ಕ್ರಮಗಳಾವುವು?	3 3 3 3 2 2 3 3 3 3 3	ಎಪ್ರಿಲ್ 2015 ಜೂನ್ 2015 ಎಪ್ರಿಲ್ 2017 ಜೂನ್ 2017 ಎಪ್ರಿಲ್ 2018 ಜೂನ್ 2018 ಎಪ್ರಿಲ್ 2019 ಜೂನ್ 2019 ಸೆಪ್ಟೆಂಬರ್ 2020 ಎಪ್ರಿಲ್ 2022 ಜೂನ್ 2022

ಅಧ್ಯಾಯ - 2 : ದುಡಿಮೆ ಮತ್ತು ಆರ್ಥಿಕ ಜೀವನ

1,2,3 ಅಂಕಗಳು

1	<p>❖ ದುಡಿಮೆಯಲ್ಲಿನ ಬೇಧಭಾವವನ್ನು ತೊಡೆದು ಹಾಕಲು ಭಾರತ ಸರ್ಕಾರವು 1976ರಲ್ಲಿ ಜಾರಿಗೆ ತಂದಿರುವ ಕಾಯ್ದೆ</p> <p>A) ಉದ್ಯೋಗ ಖಾತರಿ ಯೋಜನೆ B) ಅಸ್ಪೃಶ್ಯತಾ ನಿವಾರಣಾ ಕಾಯ್ದೆ</p> <p>C) ಬಾಲಾಶ್ರಮ ನಿರ್ಮೂಲನೆ ಕಾಯ್ದೆ D) ಸಮಾನ ವೇತನ ಕಾಯ್ದೆ</p> <p>❖ ಸಮಾನ ವೇತನ ಕಾಯ್ದೆಯನ್ನು ಏಕೆ ಜಾರಿಗೆ ತರಲಾಯಿತು?</p> <p>❖ ಸಮಾನ ವೇತನ ಕಾಯ್ದೆಯನ್ನು ಯಾವಾಗ ಜಾರಿಗೆ ತರಲಾಯಿತು?</p>	1	ಜೂನ್ 2017
2	<p>❖ ಅಸಂಘಟಿತ ವಲಯದ ಒಂದು ಲಕ್ಷಣ</p> <p>A) ದುಡಿಮೆ B) ವಲಸೆ C) ಕೂಲಿ D) ಕೂಲಿ ರಹಿತ ದುಡಿಮೆ</p>	1	ಜೂನ್ 2019
3	<p>❖ ಇವುಗಳಲ್ಲಿ ಸಂಭಾವನೆ ರಹಿತ ದುಡಿಮೆಗೆ ಉತ್ತಮ ಉದಾಹರಣೆ</p> <p>A) ದಾದಿ B) ಶಿಕ್ಷಕಿ C) ಗೃಹಿಣಿ D) ಪೊಲೀಸ್</p>	1	ಏಪ್ರಿಲ್ 2022
4	<p>❖ ಸಂಭಾವನೆ ರಹಿತ ದುಡಿಮೆಗೆ ಒಂದು ಉತ್ತಮ ಉದಾಹರಣೆ</p> <p>A) ಬೀದಿ ಬದಿಯ ವ್ಯಾಪಾರ B) ಆತ್ಮ ಸಂತೋಷಕ್ಕಾಗಿ ಚಿತ್ರ ಬಿಡಿಸುವುದು</p> <p>C) ಕೈಗಾರಿಕೆಗಳಲ್ಲಿ ದುಡಿಮೆ D) ಶಾಲೆಗಳಲ್ಲಿ ಶಿಕ್ಷಕರ ದುಡಿಮೆ</p>	1	ಜೂನ್ 2022
5	<p>❖ ಶ್ರಮ ವಿಭಜನೆಯು ಅತ್ಯಂತ ಉಪಯುಕ್ತವಾದುದು?</p>	2	ಸೆಪ್ಟೆಂಬರ್ 2020
6	<p>❖ ನಿರುದ್ಯೋಗವು ಅತ್ಯಂತ ಗಂಭೀರ ಸಾಮಾಜಿಕ ಸಮಸ್ಯೆಯಾಗಿದೆ. ವಿವರಿಸಿ.</p>	3	ಜೂನ್ 2018
7	<p>❖ ನಿರುದ್ಯೋಗ ಸಮಸ್ಯೆಗೆ ಪರಿಹಾರ ಕ್ರಮಗಳನ್ನು ತಿಳಿಸಿ.</p> <p>❖ ನಿರುದ್ಯೋಗ ಸಮಸ್ಯೆಗೆ ಪರಿಹಾರ ಕ್ರಮಗಳನ್ನು ತಿಳಿಸಿ.</p> <p>❖ ನಿರುದ್ಯೋಗ ಸಮಸ್ಯೆಯನ್ನು ನಿವಾರಿಸಲು ಸರ್ಕಾರವು ಕೈಗೊಂಡಿರುವ ಕ್ರಮಗಳನ್ನು ವಿವರಿಸಿ.</p> <p>❖ ನಿರುದ್ಯೋಗ ಸಮಸ್ಯೆಗೆ ಪರಿಹಾರೋಪಾಯಗಳನ್ನು ವಿವರಿಸಿ.</p>	3	ಏಪ್ರಿಲ್ 2016
8	<p>❖ ಸಂಘಟಿತ ಮತ್ತು ಅಸಂಘಟಿತ ಕೆಲಸಗಾರರ ನಡುವಿನ ವ್ಯತ್ಯಾಸಗಳನ್ನು ವಿವರಿಸಿ.</p> <p>❖ ಸಂಘಟಿತ ಮತ್ತು ಅಸಂಘಟಿತ ಕೆಲಸಗಾರರ ನಡುವಿನ ವ್ಯತ್ಯಾಸಗಳನ್ನು ವಿವರಿಸಿ.</p> <p>❖ ಸಂಘಟಿತ ವಲಯ ಮತ್ತು ಅಸಂಘಟಿತ ವಲಯದ ದುಡಿಮೆಗಾರರನ್ನು ವ್ಯತ್ಯಯಿಸಿ.</p>	3	ಏಪ್ರಿಲ್ 2015
9	<p>❖ ಸಂಘಟಿತ ದುಡಿಮೆ ವಲಯದ ಲಕ್ಷಣಗಳನ್ನು ವಿವರಿಸಿ.</p>	3	ಏಪ್ರಿಲ್ 2019
10	<p>❖ ಅಸಂಘಟಿತ ಕಾರ್ಮಿಕರು ಎದುರಿಸುತ್ತಿರುವ ಸಮಸ್ಯೆಗಳಾವುವು?</p> <p>❖ ಅಸಂಘಟಿತ ದುಡಿಮೆಗಾರರು ಎದುರಿಸುತ್ತಿರುವ ಸವಾಲುಗಳು ಯಾವುವು?</p> <p>❖ ಅಸಂಘಟಿತ ವಲಯದ ದುಡಿಮೆಗಾರರು ಎದುರಿಸುತ್ತಿರುವ ಸವಾಲುಗಳನ್ನು ಪಟ್ಟಿ ಮಾಡಿ.</p> <p>❖ ಅಸಂಘಟಿತ ವಲಯದ ದುಡಿಮೆಗಾರರ ಸವಾಲುಗಳನ್ನು ಪಟ್ಟಿ ಮಾಡಿ.</p>	3	ಜೂನ್ 2016

ಅಧ್ಯಾಯ - 3 : ಸಾಮೂಹಿಕ ವರ್ತನೆ ಮತ್ತು ಪ್ರತಿಭಟನೆಗಳು

1,2,3 ಅಂಕಗಳು

1	<p>❖ ನರ್ಮದಾ ಬಚಾವೋ ಆಂದೋಲನದ ನೇತೃತ್ವ ವಹಿಸಿದ್ದವರು</p> <p>A) ಮೇಧಾ ಪಾಟೀಲ್ B) ಡಾ. ಶಿವರಾಮ ಕಾರಂತ</p> <p>C) ಕುಸುಮಾ ಸೊರಬ D) ಸುಂದರಲಾಲ್ ಬಹುಗುಣ</p> <p>❖ ನರ್ಮದಾ ಬಚಾವೋ ಆಂದೋಲನದ ನಾಯಕರು</p>	1	ಸೆಪ್ಟೆಂಬರ್ 2020
		1	ಜುಲೈ 2021

	A) ಮೇಧಾ ಪಾಟೀರ್ C) ಕೇರಳದ ಶಾಸ್ತ್ರ ಪರಿಶದ್ ❖ ನರ್ಮದಾ ಬಚಾವೋ ಆಂದೋಲನದ ನೇತೃತ್ವ ವಹಿಸಿದ್ದವರು A) ಸುಂದರಲಾಲ್ ಬಹುಗುಣ B) ಮೇಧಾ ಪಾಟೀರ್ C) ಡಾ. ಶಿವರಾಮ ಕಾರಂತ D) ಮಂಜಯ್ಯ ಹೆಗಡೆ		
2	❖ ಚಿಕ್ಕೋ ಚಳುವಳಿಯ ನೇತಾರರು ಯಾರು?	1	ಎಪ್ರಿಲ್ 2018
3	❖ ಮೌನ ಕಣಿವೆ ಆಂದೋಲನವು ಎಲ್ಲಿ ಜರುಗಿತು?	1	ಜೂನ್ 2019
4	❖ ಜನಮಂದೆ ಎಂದರೇನು?	1	ಎಪ್ರಿಲ್ 2022
5	❖ ಕೈಗಾ ಅಣುಸ್ಥಾವರ ವಿರೋಧಿ ಚಳುವಳಿಯನ್ನು ಏಕೆ ನಡೆಸಲಾಯಿತು?	1	ಸೆಪ್ಟೆಂಬರ್ 2020
6	❖ ಚಿಕ್ಕೋ ಚಳುವಳಿಯ ಪ್ರಮುಖ ಪರಿಣಾಮವೇನು?	1	ಜೂನ್ 2022
7	❖ ಜನಮಂದೆಯು ಯಾವಾಗ ದೊಂಬಿಯಾಗಿ ಪರಿವರ್ತನೆಯಾಗುತ್ತದೆ?	2	ಎಪ್ರಿಲ್ 2017
8	❖ ದೊಂಬಿಯ ಸ್ವರೂಪವನ್ನು ವಿವರಿಸಿ. ❖ ದೊಂಬಿಯು ಒಂದು ಸಮಾಜ ಘಾತುಕ ಚಟುವಟಿಕೆ. ಏಕೆ?	2 2	ಜೂನ್ 2017 ಎಪ್ರಿಲ್ 2019
9	❖ ಯಾವುದಾದರೂ ನಾಲ್ಕು ಪರಿಸರ ಚಳುವಳಿಗಳನ್ನು ಹೆಸರಿಸಿ. ❖ ಪ್ರಮುಖ ಪರಿಸರ ಚಳುವಳಿಗಳನ್ನು ಪಟ್ಟಿ ಮಾಡಿ.	2 2	ಎಪ್ರಿಲ್ 2022 ಜೂನ್ 2022
10	❖ ಪರಿಸರ ಮಾಲಿನ್ಯದ ದುಷ್ಪರಿಣಾಮಗಳ ಬಗ್ಗೆ ಸಾರ್ವಜನಿಕರಲ್ಲಿ ಹೇಗೆ ಜಾಗೃತಿಯನ್ನು ಮೂಡಿಸಬಹುದು?	2	ಎಪ್ರಿಲ್ 2015
11	❖ ಅಪ್ಪಿಕೊ ಚಳುವಳಿಯ ಉದ್ದೇಶವೇನು?	2	ಜೂನ್ 2015
12	❖ ಚಿಕ್ಕೋ ಚಳುವಳಿಯನ್ನು ಏಕೆ ಕೈಗೊಳ್ಳಲಾಯಿತು?	2	ಎಪ್ರಿಲ್ 2017
13	❖ ಸ್ವ ಸಹಾಯ ಗುಂಪುಗಳು ಎಂದರೇನು?	2	ಎಪ್ರಿಲ್ 2016
14	❖ ಮಹಿಳಾ ಸಬಲೀಕರಣದಲ್ಲಿ ಮಹಿಳಾ ಸ್ವ ಸಹಾಯ ಸಮೂಹಗಳ ಪ್ರಾಮುಖ್ಯತೆಯನ್ನು ವಿವರಿಸಿ. ❖ ಮಹಿಳಾ ಸ್ವ ಸಹಾಯ ಸಮೂಹಗಳ ಪ್ರಾಮುಖ್ಯತೆಯನ್ನು ವಿವರಿಸಿ. ❖ ಮಹಿಳಾ ಸಬಲೀಕರಣವನ್ನು ಸಾಧಿಸುವಲ್ಲಿ ಮಹಿಳಾ ಸ್ವ ಸಹಾಯ ಸಮೂಹಗಳ ಪಾತ್ರವನ್ನು ವಿವರಿಸಿ.	2 3 3	ಜೂನ್ 2016 ಎಪ್ರಿಲ್ 2018 ಜೂನ್ 2018

ಅಧ್ಯಾಯ - 4 : ಸಾಮಾಜಿಕ ಸಮಸ್ಯೆಗಳು

1,2 ಅಂಕಗಳು

1	❖ ನಮ್ಮ ಸಂವಿಧಾನದ 24ನೇ ವಿಧಿಯು ಮಹತ್ವದ್ದಾಗಿದೆ. ಏಕೆಂದರೆ, ಇದನ್ನು ಅದು ನಿಷೇಧಿಸಿದೆ A) ಮಕ್ಕಳ ದುಡಿಮೆ B) ಅಸ್ವಶ್ಯತೆ C) ವರದಕ್ಷಿಣೆ D) ಭ್ರಷ್ಟಾಚಾರ ❖ ಭಾರತ ಸಂವಿಧಾನದ 24ನೇ ವಿಧಿಯು ಅತ್ಯಂತ ಪ್ರಮುಖವಾದುದು. ಏಕೆಂದರೆ ಅದು A) ಅಸ್ವಶ್ಯತೆಯನ್ನು ನಿಷೇಧಿಸುತ್ತದೆ. B) ವರದಕ್ಷಿಣೆ ಪದ್ಧತಿಯನ್ನು ನಿಷೇಧಿಸುತ್ತದೆ. C) 14ವರ್ಷದೊಳಗಿನ ಮಕ್ಕಳಿಗೆ ಉಚಿತ ಮತ್ತು ಕಡ್ಡಾಯ ಶಿಕ್ಷಣ ನೀಡುತ್ತದೆ. D) 14ವರ್ಷಕ್ಕಿಂತ ಕಡಿಮೆ ವಯಸ್ಸಿನ ಮಕ್ಕಳ ದುಡಿಮೆಯನ್ನು ನಿಷೇಧಿಸಿದೆ. ❖ ನಮ್ಮ ಸಂವಿಧಾನದ 24ನೇ ವಿಧಿಯು ಏನೆಂದು ಘೋಷಿಸುತ್ತದೆ?	1 1 1 1	ಎಪ್ರಿಲ್ 2016 ಜೂನ್ 2016 ಜೂನ್ 2017
---	---	------------------	--


2	❖ ಬಾಲಕಾರ್ಮಿಕತನವನ್ನು ನಿಷೇಧಿಸುವ ಭಾರತದ ಸಂವಿಧಾನದ ವಿಧಿ. A) 21 ನೇ ವಿಧಿ B) 17 ನೇ ವಿಧಿ C) 52 ನೇ ವಿಧಿ D) 24 ನೇ ವಿಧಿ	1	ಜೂನ್ 2018
3	❖ 'ವರದಕ್ಷಿಣೆ ನಿಷೇಧ ಕಾಯ್ದೆ' ಜಾರಿಗೆ ಬಂದ ವರ್ಷ A) 1961 B) 1987 C) 1988 D) 1989	1	ಎಪ್ರಿಲ್ 2018
4	❖ ಮಕ್ಕಳ ಸಹಾಯವಾಣಿಗೆ ಕರೆ ಮಾಡಲು ಇರುವ ದೂರವಾಣಿ ಸಂಖ್ಯೆ A) 1098 B) 1090 C) 1089 D) 1097 ❖ ಮಕ್ಕಳ ಸಹಾಯವಾಣಿ ಸಂಖ್ಯೆ A) 1091 B) 1098 C) 1099 D) 1092	1 1	ಸೆಪ್ಟೆಂಬರ್ 2020 ಸೆಪ್ಟೆಂಬರ್ 2021
5	❖ ಬಾಲಕಾರ್ಮಿಕ ಎಂದರೆ ಯಾರು? (ಜೂನ್ 2016)	1	ಎಪ್ರಿಲ್ 2015
6	❖ ವರದಕ್ಷಿಣೆ ಎಂದರೇನು?	1	ಎಪ್ರಿಲ್ 2015
7	❖ ಗರ್ಭದಲ್ಲಿರುವ ಮಗುವಿನ ಲಿಂಗ ಕಂಡುಕೊಳ್ಳುವಿಕೆ ಕಾನೂನು ಬಾಹಿರ. ಏಕೆ?	1	ಜೂನ್ 2015
8	❖ ಬಾಲ ಕಾರ್ಮಿಕ ವಿರೋಧಿ ಕಾಯ್ದೆ ಉಲ್ಲಂಘಿಸಿದ ಉದ್ಯೋಗಪತಿಗಳು ಕಡ್ಡಾಯವಾಗಿ ಭರಿಸಬೇಕಾದ್ದು ಏನು ?	1	ಜೂನ್ 2015
9	❖ 'ಬಾಲ ಕಾರ್ಮಿಕರ ಮುನರ್ವಸತಿ ಕಲ್ಯಾಣ ನಿಧಿ' ಸ್ಥಾಪಿಸಿದೆ. ಏಕೆ?	1	ಎಪ್ರಿಲ್ 2016
10	❖ 'ಸರ್ವ ಶಿಕ್ಷಣ ಅಭಿಯಾನವು ಬಾಲಕಾರ್ಮಿಕತೆಯನ್ನು ನಿವಾರಿಸುವಲ್ಲಿ ಪ್ರಮುಖ ಪಾತ್ರವಹಿಸುತ್ತಿದೆ. ಹೇಗೆ?	1	ಎಪ್ರಿಲ್ 2018
11	❖ ಹೆಣ್ಣು ಭ್ರೂಣ ಹತ್ಯೆಯಿಂದಾಗುವ ಪರಿಣಾಮವೇನು?	1	ಜೂನ್ 2018
12	❖ ಹೆಣ್ಣು ಭ್ರೂಣ ಹತ್ಯೆ ಎಂದರೇನು?	1	ಜೂನ್ 2020
13	❖ 'ವರದಕ್ಷಿಣೆ ಒಂದು ಸಾಮಾಜಿಕ ಪಿಡುಗು'. ವಿವರಿಸಿ.	2	ಎಪ್ರಿಲ್ 2017

ಭೌಗೋಳಶಾಸ್ತ್ರ

ಅಧ್ಯಾಯ - 1 : ಭಾರತ: ಭೌಗೋಳಿಕ ಸ್ಥಾನ ಹಾಗೂ ಪ್ರಕೃತಿಕ ಲಕ್ಷಣಗಳು

1,2 ಅಂಕಗಳು

1	ಭಾರತದ ನಕ್ಷೆಯನ್ನು ಬರೆದು, ಅದರಲ್ಲಿ ಈ ಕೆಳಗಿನವುಗಳನ್ನು ಗುರುತಿಸಿ. ❖ $82\frac{1}{2}$ ಪೂರ್ವರೇಖಾಂಶ (ಎಪ್ರಿಲ್ 2015, ಜೂನ್ 2015, ಎಪ್ರಿಲ್ 2016, ಜೂನ್ 2016,)(ಸೆಪ್ಟೆಂಬರ್ 2020) ❖ $23\frac{1}{2}$ ಉತ್ತರ ಅಕ್ಷಾಂಶ (ಎಪ್ರಿಲ್ 2018, ಜೂನ್ 2020) ❖ ಕೊರಮಂಡಲ ತೀರ ❖ ಕೊಂಕಣ ತೀರ ❖ ಉತ್ಕಲ ತೀರ	1 1 1 1 1	ಜೂನ್ 2022 ಎಪ್ರಿಲ್ 2022 ಎಪ್ರಿಲ್ 2016 ಎಪ್ರಿಲ್ 2017 ಜೂನ್ 2017
2	❖ ಭಾರತದ ಅತ್ಯಂತ ಎತ್ತರವಾದ ಶಿಖರ A) ಹಿಮಾಲಯ B) ಗೌರಿಶಂಕರ C) ಮೌಂಟ್ ಎವರೆಸ್ಟ್ D) ಗಾಡ್ವಿನ್-ಆಸ್ಟಿನ್ / Mt.K ₂	1	ಜೂನ್ 2019
3	❖ ಮಹಾ ಹಿಮಾಲಯಗಳ ಇನ್ನೊಂದು ಹೆಸರು	1	ಜುಲೈ 2021


	A) ಹಿಮಾದ್ರಿ B) ಹಿಮಾಚಲ್ C) ಸಿವಾಲಿಕ್ D) ಡೂನ್ಸ್		
4	❖ ಪಶ್ಚಿಮ ಘಟ್ಟಕ್ಕೆ ಸೇರಿರುವ ಶಿಖರ A) ಗಾಡ್ವಿನ್ ಆಸ್ಟಿನ್ B) ಅನೈಮುಡಿ C) ನಂದಾದೇವಿ D) ಧವಲಗಿರಿ	1	ಸೆಪ್ಟೆಂಬರ್ 2021
5	❖ ಉತ್ತರದ ಮೈದಾನವನ್ನು ಸಂಚಯನ ಮೈದಾನವೆಂದು ಕರೆಯುತ್ತಾ ಏಕೆ?	1	ಏಪ್ರಿಲ್ 2017
6	❖ ದಕ್ಷಿಣ ಭಾರತದ ಅತ್ಯಂತ ಎತ್ತರವಾದ ಶಿಖರ ಯಾವುದು?	1	ಜೂನ್ 2017
7	❖ ಪೂರ್ವ ಮತ್ತು ಪಶ್ಚಿಮ ಘಟ್ಟಗಳು ಎಲ್ಲಿ ಸಂಧಿಸುತ್ತವೆ?	1	ಏಪ್ರಿಲ್ 2022
8	❖ ಭಾರತದ ಪ್ರಾಕೃತಿಕ ಲಕ್ಷಣಗಳಾವುವು? ❖ ಭಾರತದ ಪ್ರಮುಖ ಪ್ರಾಕೃತಿಕ ವಿಭಾಗಗಳಾವುವು?	2 2	ಏಪ್ರಿಲ್ 2015 ಜೂನ್ 2022
9	❖ ಪರ್ಯಾಯ ಪ್ರಸ್ಥಭೂಮಿಯು ಆರ್ಥಿಕವಾಗಿ ಹೆಚ್ಚು ಪ್ರಾಮುಖ್ಯತೆ ಪಡೆದಿದೆ ಏಕೆ? ❖ ಭಾರತದ ಪರ್ಯಾಯ ಪ್ರಸ್ಥಭೂಮಿಯು ಆರ್ಥಿಕವಾಗಿ ಹೆಚ್ಚು ಪ್ರಾಮುಖ್ಯತೆಯನ್ನು ಪಡೆದಿದೆ. ಸ್ಪಷ್ಟೀಕರಿಸಿ. ❖ ಪರ್ಯಾಯ ಪ್ರಸ್ಥಭೂಮಿಯ ಆರ್ಥಿಕ ಮಹತ್ವವೇನು?	2 2 2	ಜೂನ್ 2015 ಏಪ್ರಿಲ್ 2016 ಜೂನ್ 2016
10	❖ ಕೊಟ್ಟಿರುವ ದಕ್ಷಿಣ ಭಾರತದ ನಕ್ಷೆಯಲ್ಲಿ ಗುರುತಿಸಿರುವ ಸ್ವಾಭಾವಿಕ ವಿಭಾಗವನ್ನು ಹೆಸರಿಸಿ ಮತ್ತು ಅದರ ಯಾವುದಾದರೂ ಎರಡು ಆರ್ಥಿಕ ಪ್ರಾಮುಖ್ಯತೆಯನ್ನು ತಿಳಿಸಿ. 	2	ಏಪ್ರಿಲ್ 2019
11	❖ ಪೂರ್ವ ಮತ್ತು ಪಶ್ಚಿಮ ಘಟ್ಟಗಳನ್ನು ವ್ಯತ್ಯಯಿಸಿ.	2	ಜೂನ್ 2020
12	❖ ಭಾರತದ ಪೂರ್ವ ಕರಾವಳಿ ಮೈದಾನಗಳು ಪಶ್ಚಿಮ ಕರಾವಳಿ ಮೈದಾನಗಳಿಗಿಂತ ಹೇಗೆ ಭಿನ್ನವಾಗಿವೆ? ❖ ಪಶ್ಚಿಮ ಕರಾವಳಿ ಮೈದಾನಗಳು ಪೂರ್ವ ಕರಾವಳಿ ಮೈದಾನಗಳಿಗಿಂತ ಹೇಗೆ ಭಿನ್ನವಾಗಿವೆ?	2 2	ಸೆಪ್ಟೆಂಬರ್ 2020 ಜೂನ್ 2018
13	❖ ಅಂಡಮಾನ್ ಮತ್ತು ನಿಕೋಬಾರ್ ದ್ವೀಪಗಳು ಹಾಗೂ ಲಕ್ಷದ್ವೀಪಗಳ ನಡುವಿನ ವ್ಯತ್ಯಾಸಗಳನ್ನು ತಿಳಿಸಿ.	2	ಏಪ್ರಿಲ್ 2018






ಅಧ್ಯಾಯ -2: ಭಾರತದ ಋತುಗಳು

1,2 ಅಂಕಗಳು

1	❖ ನೈರುತ್ಯ ಮಾನ್ಸೂನ್ ಮಾರುತಗಳು ಭಾರತವನ್ನು ಎರಡು ಕವಲುಗಳಾಗಿ ಪ್ರವೇಶಿಸುತ್ತವೆ. A) ಅರಬ್ಬಿ ಸಮುದ್ರ ಶಾಖೆ ಮತ್ತು ಬಂಗಾಳ ಕೊಲ್ಲಿ ಶಾಖೆ B) ಅಂಡಮಾನ್ ಶಾಖೆ ಮತ್ತು ನಿಕೋಬಾರ್ ಶಾಖೆ C) ಪೂರ್ವ ಘಟ್ಟ ಶಾಖೆ ಮತ್ತು ಪಶ್ಚಿಮ ಘಟ್ಟ ಶಾಖೆ D) ಉತ್ತರ ಭಾರತ ಶಾಖೆ ಮತ್ತು ದಕ್ಷಿಣ ಭಾರತ ಶಾಖೆ	1	ಜೂನ್ 2015
2	❖ ಈ ಕೆಳಗಿನವುಗಳಲ್ಲಿ ಸರಿಯಾಗಿ ಹೊಂದಾಣಿಕೆಯಾಗಿರುವುದು A) ಆಂಧ್ರಿ - ಪಶ್ಚಿಮ ಬಂಗಾಳ B) ಕಾಲ ಬೈಸಾಕಿ - ಪಂಜಾಬ್ C) ಮಾವಿನ ಹೊಯ್ಲು - ತಮಿಳುನಾಡು D) ಕಾಫಿಯ ಹೂಮಳೆ - ಕರ್ನಾಟಕ	1	ಸೆಪ್ಟೆಂಬರ್ 2020
3	❖ ಭಾರತಕ್ಕೆ ಅತೀ ಹೆಚ್ಚು ಮಳೆ ತರುವ ಋತು	1	ಸೆಪ್ಟೆಂಬರ್ 2021

	A) ಬೇಸಿಗೆ ಕಾಲ C) ಮಾನ್ಸೂನ್ ಮಾರುತಗಳ ನಿರ್ಗಮನ ಕಾಲ	B) ನೈಋತ್ಯ ಮಾನ್ಸೂನ್ ಕಾಲ D) ಚಳಿಗಾಲ		
4	❖ ಬೇಸಿಗೆ ಕಾಲದಲ್ಲಿ ಉತ್ತರ ಭಾರತದ ಉಷ್ಣಾಂಶ ಹೆಚ್ಚಾಗಿರಲು ಕಾರಣವೇನು? ❖ ಬೇಸಿಗೆಯಲ್ಲಿ ಭಾರತದ ಉಷ್ಣಾಂಶವು ಹೆಚ್ಚಾಗಿರಲು ಕಾರಣವೇನು?		1 1	ಎಪ್ರಿಲ್ 2016 ಜೂನ್ 2022
5	❖ ದೇಶದೆಲ್ಲೆಡೆ ಮಳೆ ಬಂದರೂ ತಮಿಳುನಾಡಿಗೆ ಮಾತ್ರ ಮಳೆ ಬಾರದ ಋತು ಯಾವುದು?		1	ಜೂನ್ 2016
6	❖ ಭಾರತದ ವಾಯುಗುಣವು ಪ್ರದೇಶದಿಂದ ಪ್ರದೇಶಕ್ಕೆ ಬದಲಾಗುತ್ತದೆ. ಏಕೆ? ❖ "ಭಾರತದ ವಾಯುಗುಣವು ಪ್ರದೇಶದಿಂದ ಪ್ರದೇಶಕ್ಕೆ ಕಾಲದಿಂದ ಕಾಲಕ್ಕೆ ಬದಲಾಗುತ್ತದೆ." ಈ ಹೇಳಿಕೆಯನ್ನು ಸಮರ್ಥಿಸಿ. ❖ ಭಾರತದ ವಾಯುಗುಣದ ಮೇಲೆ ಪ್ರಭಾವ ಬೀರುವ ಅಂಶಗಳನ್ನು ತಿಳಿಸಿ.		2 2 2	ಎಪ್ರಿಲ್ 2019 ಜೂನ್ 2019 ಜೂನ್ 2018
7	❖ ಭಾರತದ ವಾಯುಗುಣದ ಪ್ರಮುಖ ಋತುಮಾನಗಳಾವುವು?		2	ಎಪ್ರಿಲ್ 2022
8	❖ ಭಾರತದ ವ್ಯವಸಾಯವು ಮಾನ್ಸೂನ್ ಮಾರುತಗಳೊಂದಿಗೆ ಆಡುವ ಜೂಚಾಟ, ಏಕೆ? ❖ ಭಾರತದ ವ್ಯವಸಾಯ 'ಮಾನ್ಸೂನ್ ಮಳೆಯೊಡನೆ ಆಡುವ ಜೂಚಾಟವಾಗಿದೆ' ಸಮರ್ಥಿಸಿ.		2 2 2	ಎಪ್ರಿಲ್ 2015 ಎಪ್ರಿಲ್ 2017 ಜೂನ್ 2017
9	❖ 'ಭಾರತದ ವಾಯುಗುಣವು ತನ್ನ ಆರ್ಥಿಕ ಬೆಳವಣಿಗೆಯ ಮೇಲೆ ಪ್ರಭಾವ ಬೀರುತ್ತದೆ.' ಸಮರ್ಥಿಸಿ.		2	ಎಪ್ರಿಲ್ 2018
ಅಧ್ಯಾಯ - 3 : ಭಾರತದ ಮಣ್ಣುಗಳು			1,2 ಅಂಕಗಳು	
1	❖ ಕಪ್ಪು ಮಣ್ಣು ಒಣ ಬೇಸಾಯಕ್ಕೆ ಸೂಕ್ತವಾಗಿರಲು ಕಾರಣ A) ಅಧಿಕ ಮಳೆ ಬೀಳುವ ಪ್ರದೇಶಗಳಲ್ಲಿ ಉತ್ಪತ್ತಿಯಾಗಿದೆ. B) ಕಡಿಮೆ ತೇವಾಂಶ ಸಂಗ್ರಹ ಸಾಮರ್ಥ್ಯ ಹೊಂದಿದೆ. C) ದೀರ್ಘಕಾಲ ತೇವಾಂಶ ಹಿಡಿದಿಟ್ಟುಕೊಳ್ಳುವ ಸಾಮರ್ಥ್ಯ ಹೊಂದಿದೆ. D) ಸ್ವಟಿಕ ಶಿಲೆಗಳ ಶೀಠೀಲೀಕರಣದಿಂದ ಉತ್ಪತ್ತಿಯಾಗಿದೆ.		1	ಎಪ್ರಿಲ್ 2019
2	❖ ಕಪ್ಪು ಮಣ್ಣು ಹೆಚ್ಚು ತೇವಾಂಶ ಹಿಡಿದಿಟ್ಟುಕೊಳ್ಳುವ ಶಕ್ತಿ ಹೊಂದಿದೆ. ಏಕೆಂದರೆ A) ಅದು ಒತ್ತೊತ್ತಾದ ಕಣಗಳಿಂದ ಕೂಡಿದೆ. B) ಕಪ್ಪು ಬಣ್ಣದಲ್ಲಿದೆ. C) ಭಾರಿ ಮಳೆ ಬೀಳುವ ಪ್ರದೇಶದಲ್ಲಿ ಕಂಡುಬರುತ್ತದೆ. D) ಪೆಬ್ಬಲ್ ಬಂಡೆಗಲ್ಲುಗಳನ್ನು ಒಳಗೊಂಡಿದೆ.		1	ಜುಲೈ 2021
3	❖ ರಾಜಸ್ಥಾನದಲ್ಲಿ ಹೆಚ್ಚಾಗಿ ಕಂಡುಬರುವ ಮಣ್ಣಿನ ವಿಧ A) ಮೆಕ್ಕಲು ಮಣ್ಣು B) ಮರುಭೂಮಿ ಮಣ್ಣು C) ಕೆಂಪು ಮಣ್ಣು D) ಲ್ಯಾಟರೈಟ್ ಮಣ್ಣು		1	ಎಪ್ರಿಲ್ 2018
4	❖ ಡೆಕ್ಕನ್ ಟ್ರಾಪ್ ಪ್ರದೇಶದಲ್ಲಿ ಕಂಡುಬರುವ ಮಣ್ಣು ಯಾವುದು? ❖ ಯಾವ ಮಣ್ಣನ್ನು 'ರೇಗೂರ್ ಮಣ್ಣು' ಎಂತಲೂ ಕರೆಯುತ್ತಾರೆ?		1 1	ಜೂನ್ 2016 ಎಪ್ರಿಲ್ 2018
5	❖ ಕೆಂಪು ಮಣ್ಣು ಹೇಗೆ ರಚನೆಗೊಂಡಿದೆ?		1	ಜೂನ್ 2019
6	❖ ಜಂಬಿಟ್ಟಿಗೆ (ಲ್ಯಾಟರೈಟ್) ಮಣ್ಣು ಹೇಗೆ ರಚನೆಯಾಗಿದೆ?		1	ಸೆಪ್ಟೆಂಬರ್ 2020
7	❖ ಇತ್ತೀಚೆಗೆ ನಮ್ಮ ಜಲಾಶಯಗಳ ನೀರು ಸಂಗ್ರಹಣಾ ಸಾಮರ್ಥ್ಯವು ಕಡಿಮೆಯಾಗುತ್ತಿದೆ. ಏಕೆ?		1	ಜೂನ್ 2016
8	❖ ಮಣ್ಣಿನ ಸವಕಳಿಗೆ ಕಾರಣಗಳೇನು? ❖ ಮಣ್ಣಿನ ಸವೆತಕ್ಕೆ ಕಾರಣವಾಗುವ ಅಂಶಗಳನ್ನು ಪಟ್ಟಿ ಮಾಡಿ.		2 2	ಜೂನ್ 2015 ಜೂನ್ 2018

	❖ ಮಣ್ಣಿನ ಸವೆತಕ್ಕೆ ಕಾರಣಗಳೇನು? (ಜೂನ್ 2020)(ಎಪ್ರಿಲ್ 2022)	2	ಜೂನ್ 2022
9	❖ ಮಣ್ಣಿನ ಸವೆತವನ್ನು ತಡೆಗಟ್ಟುವುದು ಅಗತ್ಯವಾಗಿದೆ. ಏಕೆ? ❖ ಮಣ್ಣಿನ ಸವೆತದ ಪರಿಣಾಮವೇನು?	2 2	ಎಪ್ರಿಲ್ 2017 ಜೂನ್ 2017
10	❖ ಮಣ್ಣಿನ ಸವೆತವನ್ನು ಹೇಗೆ ತಡೆಗಟ್ಟುವಿರಿ? ❖ ಮಣ್ಣಿನ ಸವೆತವನ್ನು ಹೇಗೆ ತಡೆಗಟ್ಟಬಹುದು?	2 2	ಎಪ್ರಿಲ್ 2015 ಎಪ್ರಿಲ್ 2016
ಅಧ್ಯಾಯ - 4 : ಭಾರತದ ಅರಣ್ಯಗಳು		1,2,3 ಅಂಕಗಳು	
1	❖ ಈ ನಕ್ಷೆಯಲ್ಲಿ ಗುರುತಿಸಿರುವ ಅರಣ್ಯ ವಿಧಗಳಿಗೆ ಸರಿಯಾದ ಹೊಲಿಕೆಯಾಗುವುದು:  A) 1-ಮ್ಯಾಂಗ್ರೋವ್ ಅರಣ್ಯಗಳು 2-ಮರುಭೂಮಿ ಅರಣ್ಯಗಳು 3-ನಿತ್ಯ ಹರಿದ್ವರ್ಣದ ಅರಣ್ಯಗಳು B) 1- ನಿತ್ಯ ಹರಿದ್ವರ್ಣದ ಅರಣ್ಯಗಳು 2-ಮ್ಯಾಂಗ್ರೋವ್ ಅರಣ್ಯಗಳು 3-ಮರುಭೂಮಿ ಅರಣ್ಯಗಳು C) 1-ಮ್ಯಾಂಗ್ರೋವ್ ಅರಣ್ಯಗಳು 2-ಹಿಮಾಲಯದ ಆಲ್ಪೈನ್ ಅರಣ್ಯಗಳು 3- ನಿತ್ಯ ಹರಿದ್ವರ್ಣದ ಅರಣ್ಯಗಳು D) 1-ಮರುಭೂಮಿ ಅರಣ್ಯಗಳು 2-ನಿತ್ಯ ಹರಿದ್ವರ್ಣದ ಅರಣ್ಯಗಳು 3-ಮ್ಯಾಂಗ್ರೋವ್ ಅರಣ್ಯಗಳು	1	ಜೂನ್ 2018
2	❖ ನಾಗಾರ್ಜುನ ಸಾಗರ ವನ್ಯಜೀವಿಧಾಮವು ಇರುವ ರಾಜ್ಯ A) ಕರ್ನಾಟಕ B) ಕೇರಳ C) ಉತ್ತರ ಪ್ರದೇಶ D) ತೆಲಂಗಾಣ	1	ಎಪ್ರಿಲ್ 2022
3	❖ ಅಣ್ಣಾಮಲೈ ವನ್ಯಜೀವಿಧಾಮವು ಇರುವ ರಾಜ್ಯ A) ಕರ್ನಾಟಕ B) ಕೇರಳ C) ತಮಿಳುನಾಡು D) ತೆಲಂಗಾಣ	1	ಜೂನ್ 2022
4	❖ ನಿತ್ಯಹರಿದ್ವರ್ಣ ಕಾಡುಗಳು ಸದಾ ಹಸಿರಾಗಿರಲು ಕಾರಣವೇನು?	1	ಜೂನ್ 2019
5	❖ ಉಷ್ಣವಲಯದ ಎಲೆ ಉದುರಿಸುವ ಕಾಡುಗಳನ್ನು 'ಮಾನೂನ್ ಕಾಡುಗಳು' ಎಂದು ಕರೆಯುವರು. ಏಕೆ? ❖ ಉಷ್ಣವಲಯದ ಎಲೆ ಉದುರುವ ಕಾಡುಗಳನ್ನು ಮಾನೂನ್ ಕಾಡುಗಳು ಎಂದು ಏಕೆ ಕರೆಯುತ್ತಾರೆ?	1 1	ಜೂನ್ 2020 ಜೂನ್ 2022
6	❖ ನದಿ ಮುಖಜಭೂಮಿಗಳಲ್ಲಿ ಕಂಡುಬರುವ ಅರಣ್ಯಗಳ ವಿಧ ಯಾವುದು? ❖ ಭಾರತದ ಪೂರ್ವ ಕರಾವಳಿಯ ನದಿಮುಖಜಭೂಮಿಗಳಲ್ಲಿ ಕಂಡುಬರುವ ಕಾಡುಗಳಾವುವು?	1 1	ಎಪ್ರಿಲ್ 2022 ಎಪ್ರಿಲ್ 2019
7	❖ ಗಂಗಾ ನದಿ ಮುಖಜಭೂಮಿಯ ಮ್ಯಾಂಗ್ರೋವ್ ಅರಣ್ಯಗಳನ್ನು ಸುಂದರಬನ್ ಎಂದು ಕರೆಯಲು ಕಾರಣವೇನು?	1	ಎಪ್ರಿಲ್ 2018
8	❖ ಭಾರತದ ಯಾವ ರಾಜ್ಯವು ಅತೀ ಹೆಚ್ಚು ಅರಣ್ಯ ಪ್ರದೇಶವನ್ನು ಹೊಂದಿದೆ?	1	ಎಪ್ರಿಲ್ 2019
9	❖ ಭಾರತದಲ್ಲಿ ಕಂಡು ಬರುವ ಯಾವುದಾದರೂ ನಾಲ್ಕು ಪ್ರಾಕೃತಿಕ ಸಸ್ಯವರ್ಗಗಳನ್ನು ಹೆಸರಿಸಿ.	2	ಜೂನ್ 2016
10	❖ ನಿತ್ಯಹರಿದ್ವರ್ಣದ ಅರಣ್ಯಗಳು ಹಾಗೂ ಮರುಭೂಮಿ ಅರಣ್ಯಗಳ ನಡುವಿನ ವ್ಯತ್ಯಾಸ ತಿಳಿಸಿ.	2	ಎಪ್ರಿಲ್ 2016
11	❖ ಭಾರತದಲ್ಲಿ ಎಲೆ ಉದುರುವ ಅರಣ್ಯಗಳ ಲಕ್ಷಣಗಳನ್ನು ತಿಳಿಸಿ.	2	ಎಪ್ರಿಲ್ 2017
12	❖ ಈ ಕೆಳಗೆ ಕೊಟ್ಟಿರುವ ಮರಗಳನ್ನು ಉಷ್ಣವಲಯದ ಹುಲ್ಲುಗಾವಲು ಮತ್ತು ಹಿಮಾಲಯದ ಆಲ್ಪೈನ್ ಅರಣ್ಯಗಳ ಅಡಿಯಲ್ಲಿ ವರ್ಗೀಕರಿಸಿ ಬರೆಯಿರಿ. ಸಿಲ್ವರ್, ಬಬೂಲ್, ಶಿಷಮ್, ಲಾರೆಲ್	2	ಎಪ್ರಿಲ್ 2018

13	❖ ಮರುಭೂಮಿ ಅರಣ್ಯಗಳ ಲಕ್ಷಣಗಳನ್ನು ತಿಳಿಸಿ.	2	ಏಪ್ರಿಲ್ 2015
14	❖ ಇತ್ತೀಚಿನ ವರ್ಷಗಳಲ್ಲಿ ಅರಣ್ಯ ಪ್ರದೇಶಗಳು ಕಡಿಮೆಯಾಗುತ್ತಿವೆ. ಏಕೆ?	3	ಸೆಪ್ಟೆಂಬರ್ 2020
15	❖ ಅರಣ್ಯ ಸಂರಕ್ಷಣೆಯ ವಿಧಾನಗಳನ್ನು ತಿಳಿಸಿ.	2	ಜೂನ್ 2015
	❖ ಅರಣ್ಯಗಳನ್ನು ಹೇಗೆ ಸಂರಕ್ಷಿಸಬಹುದು?	2	ಜೂನ್ 2017
ಅಧ್ಯಾಯ - 5 : ಭಾರತದ ಜಲ ಸಂಪನ್ಮೂಲಗಳು			1,2 ಅಂಕಗಳು
1	❖ ಈ ನಕ್ಷೆಯಲ್ಲಿ ಗುರುತಿಸಿರುವ ನದಿ ಕಣಿವೆ ಯೋಜನೆಯನ್ನು ಸರಿಯಾಗಿ ಹೋಲಿಕೆಯಾಗುವುದು (A) 1-ಹಿರಾಕುಡ್ 2-ತುಂಗಭದ್ರಾ 3-ಭಾಕ್ರಾ ನಂಗಲ್ (B) 1-ತುಂಗಭದ್ರಾ 2-ಭಾಕ್ರಾ ನಂಗಲ್ 3-ಹಿರಾಕುಡ್ (C) 1-ಭಾಕ್ರಾ ನಂಗಲ್ 2-ತುಂಗಭದ್ರಾ 3-ಹಿರಾಕುಡ್ (D) 1-ಭಾಕ್ರಾ ನಂಗಲ್ 2-ಹಿರಾಕುಡ್ 3-ತುಂಗಭದ್ರಾ		1 ಏಪ್ರಿಲ್ 2015
2	❖ ನಕ್ಷೆಯಲ್ಲಿ ಗುರುತಿಸಿರುವ ಪ್ರದೇಶಗಳನ್ನು ಸರಿಯಾಗಿ ಹೋಲಿಕೆಯಾಗುವುದು. A) 1-ಕೋಸಿ, 2-ಚಂಬಲ್, 3-ಬಿಯಾಸ್ B) 1-ಚಂಬಲ್ 2-ಹಿರಾಕುಡ್, 3-ದಾಮೋದರ್ C) 1-ನಾಗಾರ್ಜುನ, 2-ನರ್ಮದಾ, 3-ಭಾಕ್ರಾ ನಂಗಲ್ D) 1-ಚಂಬಲ್, 2-ಕೋಸಿ, 3-ದಾಮೋದರ್		1 ಜೂನ್ 2015
3	❖ ಈ ನಕ್ಷೆಯಲ್ಲಿ ಗುರುತಿಸಿರುವ ನದಿ ಕಣಿವೆ ಯೋಜನೆಗಳನ್ನು ಸರಿಯಾಗಿ ಹೋಲಿಕೆಯಾಗುವುದು A) 1-ನಾಗಾರ್ಜುನ ಸಾಗರ, 2-ಭಾಕ್ರಾನಂಗಲ್, 3-ಕೋಸಿ B) 1-ಕೋಸಿ, 2-ನಾಗಾರ್ಜುನ ಸಾಗರ, 3-ಭಾಕ್ರಾನಂಗಲ್ C) 1-ಭಾಕ್ರಾ ನಂಗಲ್, 2-ಕೋಸಿ, 3-ನಾಗಾರ್ಜುನ ಸಾಗರ D) 1-ನಾಗಾರ್ಜುನ ಸಾಗರ, 2-ಕೋಸಿ 3-ಭಾಕ್ರಾನಂಗಲ್		1 ಏಪ್ರಿಲ್ 2016
4	❖ ಈ ಕೆಳಗಿನ ನಕ್ಷೆಯಲ್ಲಿ ಗುರುತಿಸಿರುವ ಸ್ಥಳಗಳ ಸರಿಯಾದ ಹೊಂದಾಣಿಕೆಯನ್ನು ಕೊಟ್ಟಿರುವ ಸಂಕೇತಗಳಿಂದ ಆರಿಸಿ ಬರೆಯಿರಿ: A) 1-ತುಂಗಭದ್ರಾ 2-ಭಾಕ್ರಾ ನಂಗಲ್ 3-ಕೋಸಿ B) 1-ಹಿರಾಕುಡ್ 2-ಕೋಸಿ 3-ಭಾಕ್ರಾ ನಂಗಲ್ C) 1-ಭಾಕ್ರಾ ನಂಗಲ್ 2-ತುಂಗಭದ್ರಾ 3-ಹಿರಾಕುಡ್ D) 1-ಕೋಸಿ 2-ಹಿರಾಕುಡ್ 3-ತುಂಗಭದ್ರಾ		1 ಏಪ್ರಿಲ್ 2017
5	❖ ಕೆಳಗಿನ ನಕ್ಷೆಯಲ್ಲಿನ ನದಿ ಕಣಿವೆ ಯೋಜನೆಗಳಲ್ಲಿ ಸರಿಯಾಗಿ ಹೋಲಿಕೆಯಾಗುವುದು. A) 1-ಕೋಸಿ 2-ನರ್ಮದಾ 3-ಹಿರಾಕುಡ್ B) 1-ನಾಗಾರ್ಜುನ 2-ನರ್ಮದಾ 3-ಹಿರಾಕುಡ್ C) 1-ನರ್ಮದಾ 2-ಕೋಸಿ 3-ನಾಗಾರ್ಜುನ D) 1-ಕೋಸಿ 2-ನಾಗಾರ್ಜುನ 3-ನರ್ಮದಾ		1 ಜೂನ್ 2017
6	ಭಾರತದ ನಕ್ಷೆಯನ್ನು ಬರೆದು, ಅದರಲ್ಲಿ ಈ ಕೆಳಗಿನವುಗಳನ್ನು ಗುರುತಿಸಿ. ❖ ನಾಗಾರ್ಜುನ ಸಾಗರ ಯೋಜನೆ (ಏಪ್ರಿಲ್ 2018, ಜೂನ್ 2018)		1 ಏಪ್ರಿಲ್ 2015

	❖ ದಾಮೋದರ್ ನದಿ ಕಣವೆ ಯೋಜನೆ	1	ಜೂನ್ 2015
	❖ ನರ್ಮದಾ ನದಿ (ಸೆಪ್ಟೆಂಬರ್ 2020)(ಜೂನ್ 2022)	1	ಏಪ್ರಿಲ್ 2016
	❖ ನರ್ಮದಾ ಕಣವೆ ಯೋಜನೆ	1	ಜೂನ್ 2016
	❖ ಭಾಕ್ರಾ ನಂಗಲ್ (ಸೆಪ್ಟೆಂಬರ್ 2022)(ಜೂನ್ 2022)	1	ಜೂನ್ 2016
	❖ ತುಂಗಭದ್ರಾ ಯೋಜನೆ	1	ಏಪ್ರಿಲ್ 2022
	❖ ಕಾವೇರಿ ನದಿ	1	ಜೂನ್ 2017
	❖ ಗೋವಿಂದ ಸಾಗರ (ಏಪ್ರಿಲ್ 2022)(ಜೂನ್ 2020)	1	ಏಪ್ರಿಲ್ 2019
7	❖ ದಾಮೋದರ ನದಿಕಣವೆ ಯೋಜನೆಯ ನಿರ್ಮಾಣದಿಂದಾಗಿರುವ ಪರಿಣಾಮ A) ದಾಮೋದರ ನದಿಯು ಬಂಗಾಲದ ದುಃಖ ನದಿಯಾಗಿ ಉಳಿದಿಲ್ಲ B) ಭೂಕುಸಿತಗಳು ಹೆಚ್ಚಾಗಿವೆ. C) ಬಲಿಷ್ಠ ಭೂಕಂಪನಗಳನ್ನು ಉಂಟುಮಾಡಿದೆ. D) ಪ್ರಮುಖ ಕೈಗಾರಿಕಾ ಪ್ರದೇಶಗಳು ಮುಳುಗಡೆಯಾಗಿವೆ.	1	ಏಪ್ರಿಲ್ 2019
8	❖ ಒಡಿಸ್ಸಾದ ಪ್ರಮುಖ ವಿವಿಧೋದ್ದೇಶ ನದಿ ಕಣವೆ ಯೋಜನೆ A) ಹಿರಾಕುಡ್ B) ಭಾಕ್ರಾನಂಗಲ್ C) ಪಂಪಸಾಗರ D) ನಾಗಾರ್ಜುನ ಸಾಗರ	1	ಜುಲೈ 2021
9	❖ ತುಂಗಭದ್ರಾ ಯೋಜನೆಯಿಂದ ಲಾಭ ಪಡೆಯುತ್ತಿರುವ ರಾಜ್ಯಗಳು A) ಮಹಾರಾಷ್ಟ್ರ ಮತ್ತು ಕರ್ನಾಟಕ B) ಕರ್ನಾಟಕ ಮತ್ತು ಗೋವಾ C) ಕರ್ನಾಟಕ ಮತ್ತು ಆಂಧ್ರ ಪ್ರದೇಶ D) ಕರ್ನಾಟಕ ಮತ್ತು ತಮಿಳುನಾಡು	1	ಸೆಪ್ಟೆಂಬರ್ 2021
10	❖ ದಾಮೋದರ್ ನದಿಯನ್ನು ಬಂಗಾಳದ 'ಕಣ್ಣೀರಿನ ನದಿ' ಎಂದು ಕರೆಯುತ್ತಿದ್ದರು. ಏಕೆ?	1	ಏಪ್ರಿಲ್ 2017
11	❖ ರಾಷ್ಟ್ರೀಯ ವಿದ್ಯುತ್ ಜಾಲವನ್ನು ಏಕೆ ನಿರ್ಮಿಸಲಾಗಿದೆ?	1	ಏಪ್ರಿಲ್ 2018
12	❖ ಅಭಿವೃದ್ಧಿಶೀಲ ರಾಷ್ಟ್ರಗಳಿಗೆ ಜಲಸಂಪನ್ಮೂಲವು ಹೇಗೆ ಬಹುಮುಖ್ಯ ಸಂಪನ್ಮೂಲವಾಗಿದೆ?	2	ಜೂನ್ 2019
ಅಧ್ಯಾಯ - 6 : ಭಾರತದ ಭೂ ಬಳಕೆ ಹಾಗೂ ಕೃಷಿ			1,2,4 ಅಂಕಗಳು
1	❖ ಏಪ್ರಿಲ್ - ಮೇ ತಿಂಗಳುಗಳಲ್ಲಿ ದ್ವಿಧಳ ಧಾನ್ಯ ಮತ್ತು ತರಕಾರಿಗಳನ್ನು ಬೆಳೆಸುವುದು ಈ ಬಗೆಯ ಬೇಸಾಯಕ್ಕೆ ಉತ್ತಮ ಉದಾಹರಣೆಯಾಗಿದೆ A) ಮುಂಗಾರು ಬೇಸಾಯ B) ಹಿಂಗಾರು ಬೇಸಾಯ C) ಚೀಡ್ ಬೇಸಾಯ D) ಜೀವನಾಧಾರ ಬೇಸಾಯ	1	ಜೂನ್ 2016
2	❖ ಭಾರತದ ವರ್ಗಾವಣೆ ಬೇಸಾಯವು ಕಡಿಮೆಯಾಗುತ್ತಿದೆ. ಏಕೆಂದರೆ A) ಸರ್ಕಾರದ ನೀತಿ ಮತ್ತು ಅಲೆಮಾರಿಗಳಿಗೆ ಖಾಯಂ ನೆಲೆ ಒದಗಿಸಿದೆ. B) ಈಗ ಜನರು ವಾಣಿಜ್ಯ ಕೃಷಿಯನ್ನು ಪ್ರಾರಂಭಿಸಿದ್ದಾರೆ. C) ವರ್ಗಾವಣೆ ಬೇಸಾಯದಲ್ಲಿ ಬೆಳೆಯುವ ಉತ್ಪನ್ನಗಳಿಗೆ ಬೇಡಿಕೆಯಿಲ್ಲ. D) ಜನರು ಕೃಷಿಯನ್ನು ತ್ಯಜಿಸಿದ್ದಾರೆ. ❖ ಭಾರತದಲ್ಲಿ ಸ್ಥಳಾಂತರ ಬೇಸಾಯ ಕಡಿಮೆಯಾಗಿದೆ. ಏಕೆ?	1	ಜುಲೈ 2021
3	❖ ವ್ಯಾಪಾರದ ಉದ್ದೇಶಕ್ಕಾಗಿ ಬೆಳೆಗಳನ್ನು ಬೆಳೆಯುವ ಕೃಷಿ ವಿಧಾನವೇ A) ಜೀವನಾಧಾರ ಬೇಸಾಯ B) ವಾಣಿಜ್ಯ ಬೇಸಾಯ	1	ಜೂನ್ 2017
		1	ಸೆಪ್ಟೆಂಬರ್ 2021


	C) ವರ್ಗಾವಣೆ ಬೇಸಾಯ D) ಸ್ಥಿರ ಬೇಸಾಯ		
4	❖ ಸುವರ್ಣ ಕ್ರಾಂತಿ, ಎಂಬುದು ಈ ಕ್ಷೇತ್ರದ ಪ್ರಗತಿಯನ್ನು ಸೂಚಿಸುತ್ತದೆ. A) ಚಿನ್ನದ ಗಣಗಾರಿಕೆ B) ತೋಟಗಾರಿಕೆ C) ಹೈನುಗಾರಿಕೆ D) ಮೀನುಗಾರಿಕೆ	1	ಜೂನ್ 2017
5	❖ ವಾಯುವ್ಯ ಭಾರತದಲ್ಲಿ ಗೋಧಿ ಅತಿ ಮುಖ್ಯ ಹಿಂಗಾರು ಬೆಳೆಯಾಗಿದೆ, ಏಕೆ?	1	ಜೂನ್ 2015
6	❖ ಮಿಶ್ರ ಬೇಸಾಯ ಎಂದರೇನು?	1	ಜೂನ್ 2015
7	❖ ಬೀಳು ಭೂಮಿಯನ್ನು ವ್ಯವಸಾಯಕ್ಕೆ ಹೇಗೆ ಬಳಸಬಹುದು?	1	ಏಪ್ರಿಲ್ 2016
8	❖ ಭಾರತದ ರೈತರು ಹೆಚ್ಚಾಗಿ ಜೂನ್-ಜುಲೈನಲ್ಲಿ ಬಿತ್ತನೆ ಮಾಡಿ, ಅಕ್ಟೋಬರ್ ನಲ್ಲಿ ಇಳುವರಿ ಪಡೆಯುತ್ತಾರೆ. ಏಕೆ?	1	ಏಪ್ರಿಲ್ 2016
9	❖ ಜೀವನಾಧಾರ ಬೇಸಾಯ ಎಂದರೇನು?	1	ಜೂನ್ 2016
10	❖ ಭೂ ಬಳಕೆಯ ಮೇಲೆ ಆರ್ಥಿಕ ಅಂಶಗಳು ಪ್ರಭಾವ ಬೀರುತ್ತವೆ, ಹೇಗೆ?	2	ಏಪ್ರಿಲ್ 2015
11	❖ ಕೃಷಿಯು ದ್ವಿತೀಯ ಮತ್ತು ತೃತೀಯ ವಲಯಗಳ ಅಭಿವೃದ್ಧಿಗೆ ಹೇಗೆ ಸಹಾಯಕವಾಗಿದೆ? ❖ "ಭಾರತದ ಕೃಷಿಯು ದ್ವಿತೀಯ ಹಾಗೂ ತೃತೀಯ ರಂಗದ ಉದ್ಯೋಗಗಳನ್ನು ಸೋಪಿಸುತ್ತಿದೆ." ಸಮರ್ಥಿಸಿ. ❖ ನಮ್ಮ ದೇಶದ ಆರ್ಥಿಕ ಅಭಿವೃದ್ಧಿಯಲ್ಲಿ ಕೃಷಿಯ ಪ್ರಾಮುಖ್ಯತೆ ಏನು?	2 2 4	ಏಪ್ರಿಲ್ 2019 ಜೂನ್ 2018 ಜೂನ್ 2020
12	❖ ಖರೀಫ್ ಮತ್ತು ರಬಿ ಋತುಗಳ ನಡುವಿನ ವ್ಯತ್ಯಾಸಗಳನ್ನು ತಿಳಿಸಿ.	2	ಏಪ್ರಿಲ್ 2018
13	❖ 'ಭಾರತದಲ್ಲಿ ತೋಟಗಾರಿಕಾ ಬೇಸಾಯವು ಅಪಾರವಾದ ಪ್ರಗತಿಯನ್ನು ಸಾಧಿಸುತ್ತಿದೆ.' ವಿವರಿಸಿ.	2	ಏಪ್ರಿಲ್ 2017
14	❖ ಪುಷ್ಪ ಕೃಷಿಯು ಭಾರತೀಯ ರೈತರ ಅಭಿವೃದ್ಧಿಗೆ ಹೇಗೆ ಸಹಾಯಕವಾಗಿದೆ?	2	ಜೂನ್ 2019
15	❖ ಭಾರತದಲ್ಲಿ ಅನುಸರಿಸುವ ಕೃಷಿಯ ವಿಧಗಳನ್ನು ಪಟ್ಟಿ ಮಾಡಿ. ❖ ಭಾರತದಲ್ಲಿ ರೂಢಿಯಲ್ಲಿರುವ ವಿವಿಧ ಕೃಷಿ ವಿಧಾನಗಳನ್ನು ಪಟ್ಟಿ ಮಾಡಿ.	4 4	ಏಪ್ರಿಲ್ 2022 ಜೂನ್ 2022
16	❖ ಗೋಧಿ ಹಾಗೂ ಕಬ್ಬು ಬೆಳೆಯಲು ಬೇಕಾಗಿರುವ ಅಗತ್ಯ ಅಂಶಗಳೇನು?	4	ಸೆಪ್ಟೆಂಬರ್ 2020

ಅಧ್ಯಾಯ - 7 : ಭಾರತದ ಖನಿಜ ಮತ್ತು ಶಕ್ತಿ ಸಂಪನ್ಮೂಲಗಳು

1,2,3 ಅಂಕಗಳು

1	❖ ಬಾಕ್ಸೈಟನ್ನು ಅದ್ಭುತ ಲೋಹವೆಂದು ಕರೆಯಲು ಕಾರಣ, ಇದು A) ವೈವಿಧ್ಯಮಯ ಬಣ್ಣಗಳಿಂದ ಕೂಡಿರುತ್ತದೆ B) ವೈವಿಧ್ಯಮಯ ಉಪಯೋಗಗಳಿಗಾಗಿ ಬಳಸಲ್ಪಡುತ್ತದೆ. C) ಅತೀ ಕಡಿಮೆ ಅದಿರಿನಿಂದ ಹೆಚ್ಚು ಲೋಹ ಪಡೆಯಬಹುದು D) ವೈವಿಧ್ಯಮಯ ವಸ್ತುಗಳಿಂದ ಮಿಶ್ರಣ ಹೊಂದಿದೆ	1	ಏಪ್ರಿಲ್ 2015
2	❖ ಈ ಕೆಳಗಿನ ನಕ್ಷೆಯಲ್ಲಿ ಗುರುತಿಸಿರುವ ಸ್ಥಳಗಳ ಸರಿಯಾದ ಹೊಂದಾಣಕೆಯನ್ನು ಕೊಟ್ಟಿರುವ ಸಂಕೇತಗಳಿಂದ ಆರಿಸಿ ಬರೆಯಿರಿ: A) a-ಕಲ್ಕತ್ತ b-ಸೂರತ್ c-ವಿಶಾಖಪಟ್ಟಣ B) a-ವಿಶಾಖಪಟ್ಟಣ b-ಸೂರತ್ c-ಕಲ್ಕತ್ತ C) a-ಸೂರತ್ b-ಕಲ್ಕತ್ತ c-ವಿಶಾಖಪಟ್ಟಣ D) a-ಕಲ್ಕತ್ತ b-ವಿಶಾಖಪಟ್ಟಣ c-ಸೂರತ್	1	ಜೂನ್ 2016
3	❖ ಭಾರತದಿಂದ ಅಭ್ರಕದ ರಫ್ತು ಕಡಿಮೆಯಾಗಿದೆ. ಏಕೆಂದರೆ	1	ಏಪ್ರಿಲ್ 2017



	A) ಇದರ ಉತ್ಪಾದನೆ ಕಡಿಮೆಯಾಗಿದೆ C) ಅಭ್ರಕಕ್ಕೆ ಬದಲಿ ವಸ್ತು ಲಭ್ಯವಾಗುತ್ತಿದೆ B) ಇದರ ಉತ್ಪಾದನೆ ಅಧಿಕವಾಗಿದೆ D) ಇದು ಕಬ್ಬಿಣೇತರ ಖನಿಜವಾಗಿದೆ		
4	ಭಾರತದ ನಕ್ಷೆಯನ್ನು ಬರೆದು, ಅದರಲ್ಲಿ ಈ ಕೆಳಗಿನವುಗಳನ್ನು ಗುರುತಿಸಿ. ❖ ಬಾಂಬೆ ಹೈ ❖ ಮುಂಬೈ ಹೈ ❖ ದಿಗ್ಭಾಯ್ (ಸೆಪ್ಟೆಂಬರ್ 2020)	1 1 1	ಜೂನ್ 2015 ಜೂನ್ 2020 ಜೂನ್ 2019
5	❖ ಪೆಟ್ರೋಲಿಯಂ ದ್ರವರೂಪದ ಚಿನ್ನ ಎಂದು ಕರೆಯಲು ಕಾರಣವೇನು? ❖ ಪೆಟ್ರೋಲಿಯಂನು ದ್ರವರೂಪದ ಚಿನ್ನ ಎಂದು ಏಕೆ ಕರೆಯುತ್ತಾರೆ?	1 1	ಜೂನ್ 2015 ಜೂನ್ 2017
6	❖ ಮ್ಯಾಂಗನೀಸ್ ನ್ನು ಮಿಶ್ರಲೋಹ ಖನಿಜವೆಂದೇಕೆ ಕರೆಯುವರು?	1	ಜೂನ್ 2019
7	❖ ಸಾಂಪ್ರದಾಯಿಕ ಶಕ್ತಿಸೂಲಗಳ ಬಳಕೆಯನ್ನು ಮಿತಿಗೊಳಿಸುವುದು ಇಂದು ಅಗತ್ಯವಾಗಿದೆ. ಏಕೆ?	2	ಏಪ್ರಿಲ್ 2016
8	❖ ಶಕ್ತಿ ಸಂಪನ್ಮೂಲಗಳ ಕೊರತೆಯನ್ನು ನಿವಾರಿಸಲು ಕೈಗೊಳ್ಳಬಹುದಾದ ಪರಿಹಾರೋಪಾಯಗಳೇನು? ❖ ಶಕ್ತಿ ಸಂಪನ್ಮೂಲಗಳ ಕೊರತೆಯನ್ನು ನಿವಾರಿಸುವ ಪರಿಹಾರ ಕ್ರಮಗಳಾವುವು? ❖ ಶಕ್ತಿ ಸಂಪನ್ಮೂಲಗಳ ಕೊರತೆಯನ್ನು ನೀಗಿಸಲು ಕೈಗೊಳ್ಳಬಹುದಾದ ಕ್ರಮಗಳಾವುವು?	2 3 3	ಜೂನ್ 2016 ಏಪ್ರಿಲ್ 2018 ಜೂನ್ 2018
ಅಧ್ಯಾಯ - 8 : ಭಾರತದ ಸಾರಿಗೆ ಹಾಗೂ ಸಂಪರ್ಕ		1,2,3 ಅಂಕಗಳು	
1	❖ ಭಾರತದ ಹೆಬ್ಬಾಗಿಲು A) ಚಿನ್ನೈ B) ಮುಂಬೈ C) ದೆಹಲಿ D) ಕಲ್ಕತ್ತ	1	ಜುಲೈ 2021
2	❖ ಕಾಂಡ್ಲಾ ಬಂದರನ್ನು ಹೊಂದಿರುವ ರಾಜ್ಯ A) ಒಡಿಶಾ B) ಗುಜರಾತ್ C) ಆಂಧ್ರಪ್ರದೇಶ D) ಮಹಾರಾಷ್ಟ್ರ	1	ಸೆಪ್ಟೆಂಬರ್ 2021
3	❖ ಭಾರತವು ತನ್ನದೇ ಆದ ಪ್ರಾದೇಶಿಕ ಜಿ.ಪಿ.ಎಸ್. ವ್ಯವಸ್ಥೆಯನ್ನು ಹೊಂದಲು ಉಡಾಯಿಸಿರುವ ಉಪಗ್ರಹಗಳ ಸಂಖ್ಯೆ A) 3 B) 5 C) 6 D) 7	1	ಜೂನ್ 2018
4	❖ ಈ ನಕ್ಷೆಯಲ್ಲಿ ಗುರುತಿಸಿರುವ ಸ್ಥಳಗಳಿಗೆ ಸರಿಯಾದ ಹೋಲಿಕೆಯಾಗುವುದು : A) 1 - ಅಮೃತಸರ, 2 - ಗುವಾಹಟಿ, 3 - ಹೈದರಾಬಾದ್ B) 1 - ಗುವಾಹಟಿ, 2 - ಗುವಾಹಟಿ, 3 - ಹೈದರಾಬಾದ್ C) 1 - ಹೈದರಾಬಾದ್, 2 - ಅಮೃತಸರ, 3 - ಗುವಾಹಟಿ D) 1 - ಅಲಹಾಬಾದ್, 2 - ಹೈದರಾಬಾದ್, 3 - ಅಮೃತಸರ	1	ಏಪ್ರಿಲ್ 2018
			
5	ಭಾರತದ ನಕ್ಷೆಯನ್ನು ಬರೆದು, ಅದರಲ್ಲಿ ಈ ಕೆಳಗಿನವುಗಳನ್ನು ಗುರುತಿಸಿ. ❖ ಕೊಚ್ಚಿ ❖ ದೆಹಲಿ ❖ ಕಾಂಡ್ಲಾ ❖ ತೂತುಕುಡಿ ❖ ನವ ಮಂಗಳೂರು ಬಂದರು	1 1 1 1 1	ಜೂನ್ 2018 ಏಪ್ರಿಲ್ 2019 ಜೂನ್ 2019 ಜೂನ್ 2020 ಜೂನ್ 2022
6	❖ ದೂರ ಸಂವೇದಿ ಎಂದರೇನು?	1	ಏಪ್ರಿಲ್ 2015
7	❖ ಪ್ರಪಂಚದಲ್ಲಿ ಮೊಟ್ಟಮೊದಲ ಬಾರಿಗೆ ಭೌಗೋಳಿಕ ಮಾಹಿತಿ ವ್ಯವಸ್ಥೆಯ ಬಳಕೆಯನ್ನು ಎಲ್ಲಿ	1	ಜೂನ್ 2018

	ಪ್ರಾರಂಭಿಸಲಾಯಿತು?		
8	❖ ರಸ್ತೆ ಸಾರಿಗೆಯು ರೈಲು ಸಾರಿಗೆಗಿಂತ ಉತ್ತಮವಾಗಿದೆ. ಸ್ವೀಕರಿಸಿ.	2	ಏಪ್ರಿಲ್ 2019
9	❖ ಭೌಗೋಳಿಕ ಮಾಹಿತಿ ವ್ಯವಸ್ಥೆಯನ್ನು ವಿಶ್ವವ್ಯಾಪಿ ಬಳಸಲಾಗುತ್ತಿದೆ ಏಕೆ? ❖ ಭೌಗೋಳಿಕ ಮಾಹಿತಿ ವ್ಯವಸ್ಥೆಯ ಉಪಯೋಗಗಳೇನು?	2 2	ಜೂನ್ 2015 ಜೂನ್ 2016
10	❖ ನೈಸರ್ಗಿಕ ವಿಕೋಪಗಳ ಸಮಯದಲ್ಲಿ ದೂರಸಂವೇದಿ ತಂತ್ರಜ್ಞಾನವು ಹೇಗೆ ಉಪಯುಕ್ತವಾಗಿದೆ? ❖ ದೂರ ಸಂವೇದಿ ತಂತ್ರಜ್ಞಾನವು ನೈಸರ್ಗಿಕ ವಿಕೋಪಗಳ ನಿರ್ವಹಣೆಯಲ್ಲಿ ಹೇಗೆ ಸಹಾಯಕವಾಗುತ್ತದೆ? ❖ ದೂರಸಂವೇದಿ ತಂತ್ರಜ್ಞಾನವು ಯಾವ ರೀತಿ ಅನುಕೂಲವಾಗಿದೆ?	2 2 2	ಏಪ್ರಿಲ್ 2018 ಏಪ್ರಿಲ್ 2015 ಜೂನ್ 2019
11	❖ ಸಾರಿಗೆ ಪ್ರಾಮುಖ್ಯತೆಯೇನು? ವಿವರಿಸಿ. ❖ ಒಂದು ದೇಶದ ಅಭಿವೃದ್ಧಿಯಲ್ಲಿ ಸಾರಿಗೆಯ ಮಹತ್ವವನ್ನು ವಿವರಿಸಿ.	3 3	ಏಪ್ರಿಲ್ 2022 ಜೂನ್ 2022
12	❖ ಭಾರತದಲ್ಲಿ ರಸ್ತೆ ಸಾರಿಗೆಯ ಸಮಸ್ಯೆಗಳಾವುವು? (ಏಪ್ರಿಲ್ 2015, ಜೂನ್ 2015, ಜೂನ್ 2017) ❖ ಭಾರತದ ರಸ್ತೆ ಸಾರಿಗೆಯ ತೊಡಕುಗಳಾವುವು? (ಏಪ್ರಿಲ್ 2018)	3 3	ಜೂನ್ 2017 ಜೂನ್ 2018
13	❖ ಭಾರತದಲ್ಲಿರುವ ಪ್ರಮುಖ ಬಂದರುಗಳು ಯಾವುವು? (ಏಪ್ರಿಲ್ 2016)	3	ಏಪ್ರಿಲ್ 2017
14	❖ ಭಾರತದ ಪೂರ್ವ ಕರಾವಳಿ ಮತ್ತು ಪಶ್ಚಿಮ ಕರಾವಳಿಯಲ್ಲಿ ಕಂಡುಬರುವ ಪ್ರಮುಖ ಬಂದರುಗಳನ್ನು ಪ್ರತ್ಯೇಕವಾಗಿ ಪಟ್ಟಿ ಮಾಡಿ.	3	ಜೂನ್ 2016
15	❖ ಸಂಪರ್ಕದ ಪ್ರಾಮುಖ್ಯತೆಯನ್ನು ತಿಳಿಸಿ.	2	ಏಪ್ರಿಲ್ 2016
16	❖ ಸಾರಿಗೆ ಮತ್ತು ಸಂಪರ್ಕ ಮಾಧ್ಯಮಗಳ ಪ್ರಾಮುಖ್ಯತೆ ಏನು?	3	ಜೂನ್ 2020

ಅಧ್ಯಾಯ - 9 : ಭಾರತದ ಪ್ರಮುಖ ಕೈಗಾರಿಕೆಗಳು

1,3 ಅಂಕಗಳು

1	❖ ಭಾರತದ ಮ್ಯಾಂಚೆಸ್ಟರ್ ಎಂದು ಕರೆಯಲಾಗುವ ನಗರ A) ಬೆಂಗಳೂರು B) ದೆಹಲಿ C) ಕೊಲ್ಕತ್ತ D) ಮುಂಬೈ	1	ಸೆಪ್ಟೆಂಬರ್ 2021
2	ಭಾರತದ ನಕ್ಷೆಯನ್ನು ಬರೆದು, ಅದರಲ್ಲಿ ಈ ಕೆಳಗಿನವುಗಳನ್ನು ಗುರುತಿಸಿ. ❖ ಬೆಂಗಳೂರು ❖ ಭದ್ರಾವತಿ ❖ ಮುಂಬೈ	1 1 1	ಏಪ್ರಿಲ್ 2017 ಏಪ್ರಿಲ್ 2018 ಏಪ್ರಿಲ್ 2022
3	❖ ಕೈಗಾರಿಕಾ ವಲಯ ಎಂದರೇನು?	1	ಜೂನ್ 2015
4	❖ ಭಾರತದ 'ಸಿಲಿಕಾನ್ ಸಿಟಿ' ಯಾವುದು?	1	ಜೂನ್ 2017
5	❖ ಭಾರತದ 'ಸಿಲಿಕಾನ್ ಸಿಟಿ' ಎಂದು ಬೆಂಗಳೂರನ್ನು ಏಕೆ ಕರೆಯುತ್ತಾರೆ?	1	ಜೂನ್ 2018
6	❖ ಮುಂಬೈಯನ್ನು ಭಾರತದ ಮ್ಯಾಂಚೆಸ್ಟರ್ ಎಂದು ಕರೆಯಲಾಗುತ್ತಿತ್ತು. ಏಕೆ?	1	ಜೂನ್ 2018
7	❖ ಕೈಗಾರಿಕೆಗಳ ಸ್ಥಾನೀಕರಣದ ಮೇಲೆ ಪ್ರಭಾವ ಬೀರುವ ಅಂಶಗಳು ಯಾವುವು? (ಏಪ್ರಿಲ್ 2015, ಜೂನ್ 2015, ಏಪ್ರಿಲ್ 2016, ಜೂನ್ 2016, ಜೂನ್ 2017) ❖ ಕಬ್ಬಿಣ ಮತ್ತು ಉಕ್ಕು ಕೈಗಾರಿಕೆಯ ಸ್ಥಾನೀಕರಣಕ್ಕೆ ಬೇಕಾದ ಅಂಶಗಳು ಯಾವುವು? ❖ ಕೈಗಾರಿಕೆಗಳ ಸ್ಥಾನೀಕರಣವನ್ನು ನಿರ್ಧರಿಸುವ ಅಂಶಗಳನ್ನು ತಿಳಿಸಿ. (ಏಪ್ರಿಲ್ 2022) ❖ ಬಹುತೇಕ ಕಬ್ಬಿಣ ಮತ್ತು ಉಕ್ಕಿನ ಕೈಗಾರಿಕೆಗಳು ಒಡಿಸ್ಸಾ ಮತ್ತು ಪಶ್ಚಿಮ ಬಂಗಾಳದ ಪ್ರದೇಶಗಳಲ್ಲಿ	3 3 3 3	ಜೂನ್ 2022 ಜೂನ್ 2019 ಜೂನ್ 2020 ಸೆಪ್ಟೆಂಬರ್ 2020

	ಕೇಂದ್ರೀಕೃತಗೊಂಡಿವೆ. ಏಕೆ?		
8	❖ ಭಾರತದ ಪ್ರಧಾನ ಕೈಗಾರಿಕ ವಲಯಗಳು ಯಾವುವು?	3	ಏಪ್ರಿಲ್ 2017
ಅಧ್ಯಾಯ - 10 : ನೈಸರ್ಗಿಕ ವಿಕೋಪಗಳು		1,2,3 ಅಂಕಗಳು	
1	❖ ಕಡಲ ಕೊರೆತವು ಅತಿ ಹೆಚ್ಚಾಗಿ ಕಂಡು ಬರುವ ಕಡಲತೀರ ರಾಜ್ಯ A) ಕೇರಳ B) ತಮಿಳುನಾಡು C) ಒಡಿಶಾ D) ಪಶ್ಚಿಮ ಬಂಗಾಳ	1	ಏಪ್ರಿಲ್ 2016
2	❖ ಕಡಲ ಕೊರೆತವನ್ನು ನಿಯಂತ್ರಿಸಲು ಬೆಳೆಯುವ ಅರಣ್ಯ A) ಉಷ್ಣವಲಯದ ನಿತ್ಯಹರಿದ್ವರ್ಣದ ಕಾಡುಗಳು B) ಕುರುಚಲು ಸಸ್ಯ ಮತ್ತು ಉಷ್ಣವಲಯದ ಹುಲ್ಲುಗಾವಲುಗಳು C) ಮ್ಯಾಂಗ್ರೋವ್ ಕಾಡುಗಳು D) ಉಷ್ಣವಲಯದ ಎಲೆ ಉದುರುವ ಕಾಡುಗಳು	1	ಸೆಪ್ಟೆಂಬರ್ 2021
3	❖ ಪ್ರವಾಹಕ್ಕೆ ಮುನ್ನಚ್ಚಿಕಾ ಕ್ರಮ A) ಉತ್ತಮ ಗುಣಮಟ್ಟದ ಕಟ್ಟಡ ಸಾಮಗ್ರಿಗಳನ್ನು ಬಳಸುವುದು B) ಎತ್ತರದ ಕಟ್ಟಡಗಳನ್ನು ನಿಷೇಧಿಸುವುದು C) ಅತಿಯಾದ ಅಂತರ್ಜಲ ಗಣಗಾರಿಕೆಯನ್ನು ನಿರ್ಬಂಧಿಸುವುದು D) ಅರಣ್ಯೀಕರಣ	1	ಸೆಪ್ಟೆಂಬರ್ 2021
4	❖ ಇವುಗಳಲ್ಲಿ ಭೂಕಂಪನದ ಪರಿಣಾಮ ತಡೆಗಟ್ಟುವ ಒಂದು ಕ್ರಮವೆಂದರೆ A) ನಿಯಂತ್ರಣ ಗೋಡೆಗಳನ್ನು ನಿರ್ಮಿಸುವುದು. B) ಕರಾವಳಿ ಪ್ರದೇಶದಲ್ಲಿ ಮರುಳು ಗಣಗಾರಿಕೆಯನ್ನು ನಿಷೇಧಿಸುವುದು. C) ಕರಾವಳಿಯಾದ್ಯಂತ ಮ್ಯಾಂಗ್ರೋವ್ ಅರಣ್ಯಗಳನ್ನು ಅಭಿವೃದ್ಧಿಪಡಿಸುವುದು. D) ಅಂತರ್ಜಲಕ್ಕಾಗಿ ಆಳ ಕೊರೆತ ಬಾವಿಗಳನ್ನು ನಿಷೇಧಿಸುವುದು.	1	ಜುಲೈ 2021
5	❖ ಗಣಿಗಾರಿಕೆಯ ಪ್ರದೇಶದಲ್ಲಿ ಭೂಕುಸಿತವುಂಟಾಗಲು ಕಾರಣವೇನು?	1	ಏಪ್ರಿಲ್ 2016
6	❖ ಭಾರತದ ಪಶ್ಚಿಮ ಕರಾವಳಿ ತೀರದಲ್ಲಿ ಕಡಲ ಕೊರೆತವು ಹೆಚ್ಚಾಗಿರುತ್ತದೆ. ಏಕೆ?	1	ಏಪ್ರಿಲ್ 2017
7	❖ ಕಡಲ ತೀರದುದ್ದಕ್ಕೂ ಮ್ಯಾಂಗ್ರೋವ್ ಅರಣ್ಯಗಳನ್ನು ಏಕೆ ಬೆಳೆಸಬೇಕು? (ಏಪ್ರಿಲ್ 2017)	1	ಏಪ್ರಿಲ್ 2018
8	❖ ಚಂಡಮಾರುತಗಳಿಂದ ಹೆಚ್ಚು ಹಾನಿಗೊಳಗಾಗುವ ಭಾರತದ ರಾಜ್ಯಗಳು ಯಾವುವು?	1	ಏಪ್ರಿಲ್ 2018
9	❖ ಪ್ರಾಕೃತಿಕ ವಿನಾಶಕಾರಗಳು ಯಾವುವು?	2	ಏಪ್ರಿಲ್ 2015
10	❖ ಭೂಕುಸಿತಕ್ಕೆ ಕಾರಣಗಳಾವುವು?	2	ಜೂನ್ 2015
11	❖ ಪ್ರವಾಹಗಳು ಉಂಟಾಗಲು ಕಾರಣಗಳೇನು? ❖ ಪ್ರವಾಹಗಳು ಉಂಟಾಗಲು ಯಾವುದಾದರೂ ಆರು ಅಂಶಗಳನ್ನು ತಿಳಿಸಿ.	2 3	ಜೂನ್ 2016 ಜೂನ್ 2019
12	❖ ಪ್ರವಾಹಗಳಿಂದಂಟಾಗುವ ಪರಿಣಾಮಗಳಾವುವು?	3	ಜೂನ್ 2022
13	❖ ಕಡಲ ಕೊರೆತವನ್ನು ಹೇಗೆ ತಡೆಗಟ್ಟಬಹುದು?	2	ಜೂನ್ 2017
14	❖ ಭೂಕುಸಿತದ ಪರಿಣಾಮಗಳಾವುವು? ❖ ಆವರ್ತ ಮಾರುತಗಳ ಪರಿಣಾಮಗಳನ್ನು ಪಟ್ಟಿ ಮಾಡಿ.	2 3	ಜೂನ್ 2018 ಏಪ್ರಿಲ್ 2022
15	❖ ನೈಸರ್ಗಿಕ ಮತ್ತು ಮಾನವ ಶಕ್ತಿಗಳೆರಡೂ ಭೂಕುಸಿತಕ್ಕೆ ಹೇಗೆ ಕಾರಣವಾಗುತ್ತವೆಂದು ವಿವರಿಸಿ.	3	ಏಪ್ರಿಲ್ 2019

16	❖ ಮಾನವ ಚಟುವಟಿಕೆಗಳು ಪ್ರವಾಹ ಮತ್ತು ಭೂಕುಸಿತಕ್ಕೆ ಕಾರಣವಾಗಿವೆ. ಸ್ಪಷ್ಟೀಕರಿಸಿ.	3	ಸೆಪ್ಟೆಂಬರ್ 2020
17	❖ ಭೂಕಂಪದ ಮುನ್ನಚ್ಚರಿಕಾ ಕ್ರಮಗಳನ್ನು ಪಟ್ಟಿ ಮಾಡಿ.	3	ಜೂನ್ 2020
ಅರ್ಥಶಾಸ್ತ್ರ			

ಅಧ್ಯಾಯ - 1 : ಅರ್ಥವ್ಯವಸ್ಥೆ ಮತ್ತು ಸರ್ಕಾರ **1,3 ಅಂಕಗಳು**

1	❖ ಭಾರತದ ಆರ್ಥಿಕ ಯೋಜನೆಯ ಪಿತಾಮಹ (ಎಪ್ರಿಲ್ 2017) A) ಡಾ. ಎಂ.ಎಸ್. ಸ್ವಾಮಿನಾಥನ್ B) ಡಾ. ನಾರ್ಮನ್ ಬೋರ್ಲಾಂಗ್ C) ಎಂ. ವಿಶ್ವೇಶ್ವರಯ್ಯ D) ರಾಮ್ ಮೋಹನ್ ರಾಯ್	1	ಎಪ್ರಿಲ್ 2016
2	❖ "ಭಾರತಕ್ಕೆ ಯೋಜಿತ ಅರ್ಥವ್ಯವಸ್ಥೆ" ಎಂಬ ಪುಸ್ತಕ ಬರೆದವರು A) ವಿಶ್ವೇಶ್ವರಯ್ಯ B) ಸ್ವಾಮಿನಾಥನ್ C) ವರ್ಗೀಸ್ ಕುರಿಯನ್ D) ನಾರ್ಮನ್ ಬೋರ್ಲಾಂಗ್	1	ಜೂನ್ 2017
3	❖ ಭಾರತದಲ್ಲಿ ಪಂಚವಾರ್ಷಿಕ ಯೋಜನೆಗಳಿಗೆ ಅನುಮೋದನೆ ನೀಡುವ ಪ್ರಾಧಿಕಾರವೆಂದರೆ A) ರಾಷ್ಟ್ರೀಯ ಯೋಜನಾ ಆಯೋಗ C) ಕೇಂದ್ರ ಹಣಕಾಸು ಇಲಾಖೆ B) ರಾಷ್ಟ್ರೀಯ ಅಭಿವೃದ್ಧಿ ಮಂಡಳಿ D) ಭಾರತೀಯ ರಿಸರ್ವ್ ಬ್ಯಾಂಕ್	1	ಜೂನ್ 2016
4	❖ ಹಸಿರು ಕ್ರಾಂತಿಯು ಇದನ್ನು ಸೂಚಿಸುತ್ತದೆ A) ಆಹಾರ ಧಾನ್ಯಗಳ ಉತ್ಪಾದನೆಯಲ್ಲಿ ಹೆಚ್ಚಳ B) ಮೀನುಗಳ ಉತ್ಪಾದನೆಯಲ್ಲಿ ಹೆಚ್ಚಳ C) ಹಾಲಿನ ಉತ್ಪಾದನೆಯಲ್ಲಿ ಹೆಚ್ಚಳ D) ಮಾಂಸದ ಉತ್ಪಾದನೆಯಲ್ಲಿ ಹೆಚ್ಚಳ	1	ಎಪ್ರಿಲ್ 2016
5	❖ ಸರ್ ಎಂ.ವಿಶ್ವೇಶ್ವರಯ್ಯನವರನ್ನು 'ಭಾರತದ ಆರ್ಥಿಕ ಯೋಜನೆಯ ಪಿತಾಮಹ' ಎಂದು ಕರೆಯುತ್ತಾರೆ. ಏಕೆ?	1	ಜೂನ್ 2018
6	❖ ಭಾರತದ 'ಹಸಿರು ಕ್ರಾಂತಿ ಪಿತಾಮಹ' ಎಂದು ಯಾರನ್ನು ಕರೆಯುತ್ತಾರೆ?	1	ಜೂನ್ 2016
7	❖ ಡಾ ಎಂ.ಎಸ್ ಸ್ವಾಮಿನಾಥನ್ ರವರನ್ನು 'ಭಾರತದ ಹಸಿರು ಕ್ರಾಂತಿಯ ಪಿತಾಮಹ' ಎಂದು ಕರೆಯುತ್ತಾರೆ. ಏಕೆ?	1	ಎಪ್ರಿಲ್ 2017
8	❖ ಸುಗ್ಗಿ ನಂತರದ ತಂತ್ರಜ್ಞಾನ ಎಂದರೇನು?	1	ಜೂನ್ 2017
9	❖ ಸ್ವಾತಂತ್ರ್ಯಾನಂತರ ಭಾರತ ಆರ್ಥಿಕ ಅಭಿವೃದ್ಧಿಯನ್ನು ಸಾಧಿಸಲು ಹೇಗೆ ಶ್ರಮಿಸಿತು?	3	ಎಪ್ರಿಲ್ 2018
10	❖ ಭಾರತದ ಆರ್ಥಿಕ ಪ್ರಗತಿಯಲ್ಲಿ ಪಂಚವಾರ್ಷಿಕ ಯೋಜನೆಗಳು ಪ್ರಮುಖ ಪಾತ್ರ ವಹಿಸುತ್ತವೆ. ಹೇಗೆ?	3	ಜೂನ್ 2018

ಅಧ್ಯಾಯ - 2 : ಗ್ರಾಮೀಣಾಭಿವೃದ್ಧಿ **1,2,3 ಅಂಕಗಳು**

1	❖ "ಭಾರತದ ನೈಜ ಅಭಿವೃದ್ಧಿಯೇ ಗ್ರಾಮಗಳ ಅಭಿವೃದ್ಧಿ" ಎಂದವರು A) ಮಹಾತ್ಮ ಗಾಂಧೀಜಿ B) ವಿನೋಬಾ ಭಾವೆ C) ದಾದಾಭಾಯಿ ನವರೋಜಿ D) ಜವಾಹರ್ ಲಾಲ್ ನೆಹರು ❖ "ಭಾರತದ ನೈಜ ಅಭಿವೃದ್ಧಿಯೇ ಗ್ರಾಮಗಳ ಅಭಿವೃದ್ಧಿ" ಎಂದವರು A) ಮಹಾತ್ಮ ಗಾಂಧಿ B) ವಿನೋಬಾ ಭಾವೆ C) ಜಯಪ್ರಕಾಶ್ ನಾರಾಯಣ್ D) ಜವಾಹರ್ ಲಾಲ್ ನೆಹರು	1	ಎಪ್ರಿಲ್ 2015
		1	ಸೆಪ್ಟೆಂಬರ್ 2021

	❖ ಭಾರತದ ನೈಜ ಅಭಿವೃದ್ಧಿ ಎಂದರೆ, ಅದು ಗ್ರಾಮಗಳ ಅಭಿವೃದ್ಧಿ ಎಂದು ಯಾರು ಹೇಳಿದರು?	1	ಏಪ್ರಿಲ್ 2017
	❖ ಗ್ರಾಮಗಳ ಅಭಿವೃದ್ಧಿಯೇ ಭಾರತದ ನೈಜ ಅಭಿವೃದ್ಧಿ ಎಂದು ಹೇಳಿದವರು ಯಾರು?	1	ಏಪ್ರಿಲ್ 2018
	❖ ಭಾರತದ ನೈಜ ಅಭಿವೃದ್ಧಿಯೆಂದರೆ ಅದರ ಗ್ರಾಮಗಳ ಅಭಿವೃದ್ಧಿ ಎಂದು ಹೇಳಿದವರು ಯಾರು?	1	ಜೂನ್ 2022
2	❖ ಗ್ರಾಮ ಸ್ವರಾಜ್ಯದ ಪರಿಕಲ್ಪನೆ ನೀಡಿದವರು A) ಜವಾಹರಲಾಲ್ ನೆಹರು B) ಬಾಲಗಂಗಾಧರ ತಿಲಕ್ C) ವಲ್ಲಭಬಾಯಿ ಪಟೇಲ್ D) ಮಹಾತ್ಮಾ ಗಾಂಧೀಜಿ	1	ಜುಲೈ 2021
3	❖ 1993 ರ ಸಂವಿಧಾನದ 73ನೇ ತಿದ್ದುಪಡಿಯ ಮುಖ್ಯ ಉದ್ದೇಶ A) ಏಕರೂಪದ ಪಂಚಾಯತ್ ರಾಜ್ ಸಂಸ್ಥೆಗಳ ಅಸ್ತಿತ್ವ B) ಆಸ್ತಿಯ ಮೂಲಭೂತ ಹಕ್ಕನ್ನು ಸಂವಿಧಾನದಿಂದ ತೆಗೆದು ಹಾಕುವುದು C) ಜಾತ್ಯಾತೀತತೆ ಪದವನ್ನು ಪ್ರಸ್ತಾವನೆಯಲ್ಲಿ ಸೇರಿಸುವುದು D) ಅಸ್ವಶ್ಯತೆಯನ್ನು ತೊಡೆದು ಹಾಕುವುದು ❖ 1993 ರಲ್ಲಿ ಸಂವಿಧಾನದ 73 ನೆಯ ತಿದ್ದುಪಡಿ ಕಾಯ್ದೆಯನ್ನು ಏಕೆ ಜಾರಿಗೊಳಿಸಲಾಗಿದೆ? ❖ ಭಾರತದಲ್ಲಿ ಮೂರು ಹಂತದ ಪಂಚಾಯಿತಿಗಳನ್ನು ಅಸ್ತಿತ್ವಕ್ಕೆ ತಂದ ಸಂವಿಧಾನದ ತಿದ್ದುಪಡಿ A) 24 ನೇ B) 42 ನೇ C) 73 ನೇ D) 92 ನೇ	1	ಸೆಪ್ಟೆಂಬರ್ 2021
4	❖ ವಸತಿ ಯೋಜನೆಗಳನ್ನು ತಿಳಿಸಿ.	2	ಏಪ್ರಿಲ್ 2022
5	❖ "ಸ್ವಸಹಾಯ ಸಮೂಹಗಳು ಮಹಿಳೆಯರ ಸ್ವಾಯತ್ತತೆ ಮತ್ತು ಘನತೆಯನ್ನು ಹೆಚ್ಚಿಸಿವೆ." ಹೇಗೆ?	2	ಜೂನ್ 2020
6	❖ ಗ್ರಾಮೀಣಾಭಿವೃದ್ಧಿಯ ಮಹತ್ವವನ್ನು ವಿವರಿಸಿ. ❖ ಗ್ರಾಮೀಣ ಅಭಿವೃದ್ಧಿಯ ಮಹತ್ವವನ್ನು ಸಂಕ್ಷಿಪ್ತವಾಗಿ ವಿವರಿಸಿ ❖ ಗ್ರಾಮೀಣಾಭಿವೃದ್ಧಿಯು ದೇಶದ ಆರ್ಥಿಕ ಅಭಿವೃದ್ಧಿಯನ್ನು ಸಾಧಿಸಲು ಹೇಗೆ ಶ್ರಮಿಸಿತು?	3 3 3	ಏಪ್ರಿಲ್ 2015 ಏಪ್ರಿಲ್ 2016 ಏಪ್ರಿಲ್ 2018
7	❖ ಗಾಂಧೀಜಿಯವರ ಗ್ರಾಮಸ್ವರಾಜ್ಯ ಕಲ್ಪನೆಯನ್ನು ವಿಕೇಂದ್ರೀಕರಣದ ಹಿನ್ನೆಲೆಯಲ್ಲಿ ತಿಳಿಸಿ. (ಜೂನ್ 2015, ಜೂನ್ 2016)	3	ಏಪ್ರಿಲ್ 2017
8	❖ ಗ್ರಾಮೀಣಾಭಿವೃದ್ಧಿಯಲ್ಲಿ ಪಂಚಾಯತ್ ರಾಜ್ ಸಂಸ್ಥೆಗಳ ಪಾತ್ರವೇನು? ❖ ಪಂಚಾಯತ್ ರಾಜ್ ಸಂಸ್ಥೆಗಳು ಗ್ರಾಮೀಣ ಅಭಿವೃದ್ಧಿಯಲ್ಲಿ ಪ್ರಮುಖ ಪಾತ್ರವಹಿಸುತ್ತವೆ. ಹೇಗೆ?	3 3	ಜೂನ್ 2017 ಜೂನ್ 2018
ಅಧ್ಯಾಯ - 3 : ಸಾರ್ವಜನಿಕ ಹಣಕಾಸು ಮತ್ತು ಆಯ - ವ್ಯಯ			1,3 ಅಂಕಗಳು
1	❖ ಸರ್ಕಾರದ ಒಂದು ವರ್ಷದ ಅಂದಾಜು ಆದಾಯ ಮತ್ತು ವೆಚ್ಚಗಳನ್ನು ಕುರಿತು ತಯಾರಿಸಿದ ಅಂದಾಜು ಪಟ್ಟಿಯು A) ಸಾರ್ವಜನಿಕ ಹಣಕಾಸು B) ಸಾರ್ವಜನಿಕ ವೆಚ್ಚಗಳು C) ಯೋಜನಾ ವೆಚ್ಚಗಳು D) ಆಯವ್ಯಯ ❖ ಮುಂಗಡಪತ್ರ ಎಂದರೇನು?	1 1	ಜೂನ್ 2015 ಜೂನ್ 2018
2	❖ ಈ ಕೆಳಗಿನವುಗಳಲ್ಲಿ ಪ್ರತ್ಯಕ್ಷ ತೆರಿಗೆ A) ಕೇಂದ್ರ ಅಬಕಾರಿ ತೆರಿಗೆ B) ವೈಯಕ್ತಿಕ ವರಮಾನ ತೆರಿಗೆ C) ಸೇವಾ ತೆರಿಗೆ D) ವಿದೇಶೀ ಪ್ರವಾಸಿಗರ ಮೇಲಿನ ತೆರಿಗೆ	1	ಏಪ್ರಿಲ್ 2018
3	❖ ಈ ಕೆಳಗಿನವುಗಳಲ್ಲಿ ಪರೋಕ್ಷ ತೆರಿಗೆ A) ವರಮಾನ ತೆರಿಗೆ B) ಆಮದು-ರಫ್ತು ತೆರಿಗೆ	1	ಜೂನ್ 2018

	C) ಸಂಪತ್ತಿನ ತೆರಿಗೆ D) ಕಂಪನಿ ತೆರಿಗೆ		
4	❖ ಪ್ರತ್ಯಕ್ಷ ತೆರಿಗೆಗೆ ಒಂದು ಉದಾಹರಣೆ A) ಮೌಲ್ಯವರ್ಧಿತ ತೆರಿಗೆ B) ಕೇಂದ್ರ ಅಬಕಾರಿ ತೆರಿಗೆ C) ಸ್ಟ್ಯಾಂಪ್ ತೆರಿಗೆ D) ಸೇವಾ ತೆರಿಗೆ	1	ಎಪ್ರಿಲ್ 2019
5	❖ ಈ ಕೆಳಗಿನವುಗಳಲ್ಲಿ ಸರ್ಕಾರದ ತೆರಿಗೆಯೇತರ ವರಮಾನ ಆಗಿರುವುದು A) ಸರಕು ಮತ್ತು ಸೇವಾ ತೆರಿಗೆ (ಜಿ.ಎಸ್.ಟಿ.) B) ವಿವಿಧ ರೀತಿಯ ದಂಡಗಳು C) ಆಮದು ರಫ್ತು ಸುಂಕ D) ಸ್ಟ್ಯಾಂಪ್ ಶುಲ್ಕ	1	ಜೂನ್ 2020
6	❖ ಭಾರತದ ಹಣಕಾಸು ವರ್ಷದ ಅವಧಿ ಯಾವುದು?	1	ಜೂನ್ 2017
7	❖ ಕೇಂದ್ರ ಸರ್ಕಾರದ ಅಯವ್ಯಯವನ್ನು ಲೋಕಸಭೆಯಲ್ಲಿ ಯಾರು ಮಂಡಿಸುತ್ತಾರೆ? (ಎಪ್ರಿಲ್ 2018)	1	ಎಪ್ರಿಲ್ 2016
8	❖ ಪ್ರತ್ಯಕ್ಷ ತೆರಿಗೆ ಎಂದರೇನು?	1	ಜೂನ್ 2016
9	❖ ಸಾರ್ವಜನಿಕ ಹಣಕಾಸಿನ ಮಹತ್ವವನ್ನು ವಿವರಿಸಿ.	3	ಜೂನ್ 2017
10	❖ ವೈಯಕ್ತಿಕ ಮತ್ತು ಸಾರ್ವಜನಿಕ ಹಣಕಾಸಿಗಿರುವ ವ್ಯತ್ಯಾಸಗಳನ್ನು ಪಟ್ಟಿ ಮಾಡಿರಿ. (ಎಪ್ರಿಲ್ 2017)	3	ಜೂನ್ 2015
11	❖ ಸಾರ್ವಜನಿಕ ವೆಚ್ಚದ ಗುರಿ / ಉದ್ದೇಶಗಳೇನು? ❖ ಸಾರ್ವಜನಿಕ ವೆಚ್ಚದ ಉದ್ದೇಶವು ದೇಶದ ಸರ್ವತೋಮುಖ ಅಭಿವೃದ್ಧಿಗೆ ಪೂರಕವಾಗಿದೆ. ಸ್ಪಷ್ಟೀಕರಿಸಿ.	3 2	ಎಪ್ರಿಲ್ 2019 ಸೆಪ್ಟೆಂಬರ್ 2020
12	❖ ಕೇಂದ್ರ ಸರ್ಕಾರವು ಸಂಗ್ರಹಿಸುವ ಪ್ರಮುಖ ತೆರಿಗೆಯೇತರ ಆದಾಯದ ಮೂಲಗಳನ್ನು ತಿಳಿಸಿ. ❖ ಕೇಂದ್ರ ಸರ್ಕಾರದ ತೆರಿಗೆಯೇತರ ಆದಾಯದ ಮೂಲಗಳನ್ನು ತಿಳಿಸಿ. (ಎಪ್ರಿಲ್ 2016) ❖ ಸರ್ಕಾರವು ತೆರಿಗೆಗಳನ್ನು ಹೊರತುಪಡಿಸಿ ತನ್ನ ವರಮಾನವನ್ನು ಹೇಗೆ ಸಂಗ್ರಹಿಸುತ್ತಿದೆ	3 3 3	ಎಪ್ರಿಲ್ 2015 ಜೂನ್ 2016 ಜೂನ್ 2019

ವ್ಯವಹಾರ ಅಧ್ಯಯನ

ಅಧ್ಯಾಯ - 1 : ಬ್ಯಾಂಕ್ ವ್ಯವಹಾರಗಳು

1,2,3 ಅಂಕಗಳು

1	❖ ಬ್ಯಾಂಕುಗಳ ತಾಯಿ A) ಸ್ಟೇಟ್ ಬ್ಯಾಂಕ್ ಆಫ್ ಇಂಡಿಯಾ B) ಭಾರತೀಯ ರಿಸರ್ವ್ ಬ್ಯಾಂಕ್ C) ಸಹಕಾರಿ ಬ್ಯಾಂಕ್ D) ಭೂ ಅಭಿವೃದ್ಧಿಬ್ಯಾಂಕ್ ❖ 'ಬ್ಯಾಂಕುಗಳ ಬ್ಯಾಂಕ್' ಎಂದು ಯಾವ ಬ್ಯಾಂಕನ್ನು ಕರೆಯಲಾಗುತ್ತದೆ? ❖ ಬ್ಯಾಂಕುಗಳ ಬ್ಯಾಂಕ್ A) ನಬಾರ್ಡ್ B) ಅಪೆಕ್ಸ್ ಬ್ಯಾಂಕ್ C) ರಿಸರ್ವ್ ಬ್ಯಾಂಕ್ D) ಐಡಿಬಿಬಿ ❖ ಬ್ಯಾಂಕುಗಳ ಬ್ಯಾಂಕ್ A) ವಿಜಯಾ ಬ್ಯಾಂಕ್ B) ಕೆನರಾ ಬ್ಯಾಂಕ್ C) ಭಾರತೀಯ ರಿಸರ್ವ್ ಬ್ಯಾಂಕ್ D) ಕಾರ್ಪೊರೇಷನ್ ಬ್ಯಾಂಕ್ ❖ ಭಾರತದಲ್ಲಿ ಎಲ್ಲ ಬ್ಯಾಂಕುಗಳ ಚಟುವಟಿಕೆಗಳನ್ನು ನಿಯಂತ್ರಿಸುವುದು A) ರಿಸರ್ವ್ ಬ್ಯಾಂಕ್ B) ನಬಾರ್ಡ್ C) ಭೂ ಬ್ಯಾಂಕ್ D) ಅಪೆಕ್ಸ್ ಬ್ಯಾಂಕ್	1 1 1 1 1 1	ಎಪ್ರಿಲ್ 2015 ಎಪ್ರಿಲ್ 2016 ಜುಲೈ 2021 ಜೂನ್ 2018 ಸೆಪ್ಟೆಂಬರ್ 2021
---	--	----------------------------	---

2	❖ ರಾಷ್ಟ್ರೀಯ ಉಳಿತಾಯ ಪತ್ರಗಳನ್ನು ----- ಸಂಸ್ಥೆಯು ನೀಡುತ್ತದೆ. A) ಕೇಂದ್ರ ಬ್ಯಾಂಕು B) ಅಂಚೆ ಕಛೇರಿ C) ಸಹಕಾರಿ ಬ್ಯಾಂಕ್ D) ವಾಣಿಜ್ಯ ಬ್ಯಾಂಕ್	1	ಜೂನ್ 2015
3	❖ ವ್ಯಾಪಾರಸ್ಥರಿಗೆ ಹೆಚ್ಚು ಸೂಕ್ತವಾದ ಬ್ಯಾಂಕ್ ಖಾತೆ A) ಉಳಿತಾಯ ಖಾತೆ B) ಚಾಲ್ತಿ ಖಾತೆ C) ಆವರ್ತ ಠೇವಣಿ ಖಾತೆ D) ನಿಶ್ಚಿತ ಠೇವಣಿ ಖಾತೆ ❖ ಬ್ಯಾಂಕಿನಲ್ಲಿ ದಿನಕ್ಕೆ ಎಷ್ಟು ಭಾರಿಯಾದರೂ ವ್ಯವಹರಿಸಬಹುದಾದ ಖಾತೆ A) ಉಳಿತಾಯ ಖಾತೆ B) ಚಾಲ್ತಿ ಖಾತೆ C) ಆವರ್ತ ಠೇವಣಿ ಖಾತೆ D) ನಿಶ್ಚಿತ ಠೇವಣಿ ಖಾತೆ ❖ ಬ್ಯಾಂಕಿನ ಖಾತೆದಾರರು ಒಂದು ದಿನದಲ್ಲಿ ಎಷ್ಟು ಭಾರಿಯಾದರೂ ಠೇವಣಿ ಇಡಬಹುದು ಅಥವಾ ಹಿಂಪಡೆಯಬಹುದಾದ ಖಾತೆ A) ಚಾಲ್ತಿ ಖಾತೆ B) ಉಳಿತಾಯ ಖಾತೆ C) ಆವರ್ತ ಠೇವಣಿ ಖಾತೆ D) ನಿಶ್ಚಿತ ಠೇವಣಿ ಖಾತೆ	1	ಎಪ್ರಿಲ್ 2018
4	❖ ವ್ಯಕ್ತಿಯೊಬ್ಬನು ಭವಿಷ್ಯತ್ತಿನಲ್ಲಿ ಕಾರು ಖರೀದಿಸಲು ಪ್ರತಿ ತಿಂಗಳು ನಿಯಮಿತವಾಗಿ ಉಳಿತಾಯ ಮಾಡಲು ಈ ಬ್ಯಾಂಕ್ ಖಾತೆಯನ್ನು ತೆರೆಯಬೇಕು A) ಉಳಿತಾಯ ಖಾತೆ B) ಚಾಲ್ತಿ ಖಾತೆ C) ಆವರ್ತ ಠೇವಣಿ ಖಾತೆ D) ನಿಶ್ಚಿತ ಠೇವಣಿ ಖಾತೆ ❖ ರಾಮು ಭವಿಷ್ಯದಲ್ಲಿ ತನ್ನ ಮಗಳ ಮದುವೆಗಾಗಿ ಹಣ ಕೂಡಿಡಲು ಬಯಸುತ್ತಾನೆ. ನೀವು ಸಲಹೆ ನೀಡುವ ಬ್ಯಾಂಕ್ ಖಾತೆಯ ಪ್ರಕಾರ A) ಉಳಿತಾಯ ಖಾತೆ B) ಆವರ್ತ ಠೇವಣಿ ಖಾತೆ C) ಚಾಲ್ತಿ ಖಾತೆ D) ನಿಶ್ಚಿತ ಠೇವಣಿ ಖಾತೆ	1	ಜೂನ್ 2016
5	❖ ನಿಗದಿಯ ಅವಧಿಗೆ ಮುಂಚೆ ಠೇವಣಿ ಹಣವನ್ನು ಹಿಂದಕ್ಕೆ ಪಡೆಯಲು ಸಾಧ್ಯವಾಗದ ಬ್ಯಾಂಕ್ ಖಾತೆಯ ವಿಧ A) ಉಳಿತಾಯ ಖಾತೆ B) ಆವರ್ತ ಠೇವಣಿ ಖಾತೆ C) ಚಾಲ್ತಿ ಖಾತೆ D) ನಿಶ್ಚಿತ ಠೇವಣಿ ಖಾತೆ	1	ಜೂನ್ 2017
6	❖ ಫ್ರೆಂಚ್ ಭಾಷೆಯ ಬ್ಯಾಂಕ್ (Banque) ಪದದ ಅರ್ಥವೇನು?	1	ಜೂನ್ 2018
7	❖ ಭಾರತದ ರಿಸರ್ವ್ ಬ್ಯಾಂಕನ್ನು 'ಬ್ಯಾಂಕಗಳ ತಾಯಿ' ಎಂದು ಏಕೆ ಕರೆಯುತ್ತಾರೆ?	1	ಏಪ್ರಿಲ್ 2018
8	❖ ವಿವಿಧ ಬ್ಯಾಂಕು ಖಾತೆಗಳನ್ನು ಹೆಸರಿಸಿ. ❖ ಬ್ಯಾಂಕ್ ಖಾತೆಯ ವಿಧಗಳಾವುವು?	2	ಸೆಪ್ಟೆಂಬರ್ 2020
9	❖ ಉಳಿತಾಯ ಖಾತೆ ಹಾಗೂ ಚಾಲ್ತಿ ಖಾತೆಗಳಿಗಿರುವ ವ್ಯತ್ಯಾಸಗಳೇನು? (ಜೂನ್ 2019)	3	ಎಪ್ರಿಲ್ 2015
10	❖ ಬ್ಯಾಂಕಿನ ಕರ್ತವ್ಯಗಳನ್ನು ವಿವರಿಸಿ. ❖ ಬ್ಯಾಂಕ್ ನಿರ್ವಹಿಸುವ ಕಾರ್ಯಗಳಾವುವು? ❖ ಬ್ಯಾಂಕ್ ಖಾತೆ ತೆರೆಯುವುದರಿಂದಾಗುವ ಅನುಕೂಲಗಳನ್ನು ತಿಳಿಸಿ. (ಜೂನ್ 2017) ❖ ಬ್ಯಾಂಕಿನಲ್ಲಿ ಖಾತೆ ತೆರೆಯುವುದರಿಂದಾಗುವ ಉಪಯೋಗಗಳನ್ನು ಪಟ್ಟಿ ಮಾಡಿ. ❖ ಬ್ಯಾಂಕಿನ ಕಾರ್ಯಗಳೇನು?	3	ಜೂನ್ 2015
		3	ಜೂನ್ 2016
		3	ಎಪ್ರಿಲ್ 2016
		3	ಎಪ್ರಿಲ್ 2019
		3	ಎಪ್ರಿಲ್ 2022

	❖ ಬ್ಯಾಂಕುಗಳ ಪ್ರಮುಖ ಕಾರ್ಯಗಳನ್ನು ತಿಳಿಸಿ.	3	ಜೂನ್ 2022
11	❖ 'ಅಂಚೆ ಕಛೇರಿಗಳು ಅನೇಕ ಹಣಕಾಸಿನ ವ್ಯವಹಾರಗಳನ್ನೂ ಸಹ ಕೈಗೊಳ್ಳುತ್ತಿವೆ.' ಸಮರ್ಥಿಸಿ.	3	ಏಪ್ರಿಲ್ 2017
ಅಧ್ಯಾಯ - 2 : ಉದ್ಯಮಶೀಲತೆ		1,2,3 ಅಂಕಗಳು	
1	❖ ಜಿಲ್ಲಾ ಕೈಗಾರಿಕಾ ಕೇಂದ್ರಗಳನ್ನು ಏಕೆ ಸ್ಥಾಪಿಸಲಾಯಿತು? ❖ ಭಾರತ ಸರ್ಕಾರವು ಜಿಲ್ಲಾ ಕೈಗಾರಿಕಾ ಕೇಂದ್ರಗಳನ್ನು ಸ್ಥಾಪಿಸಿರುವ ಪ್ರಮುಖ ಉದ್ದೇಶವೇನು?	1 1	ಏಪ್ರಿಲ್ 2016 ಜೂನ್ 2017
2	❖ ಉದ್ಯಮಗಾರಿಕೆಯು ಸೃಜನಾತ್ಮಕ ಚಟುವಟಿಕೆಯಾಗಿದೆ. ಏಕೆ?	2	ಏಪ್ರಿಲ್ 2017
3	❖ ಯಾರೇ ಒಬ್ಬ ಮನುಷ್ಯನಾಗಲಿ ಸ್ವ ಉದ್ಯೋಗ ಉದ್ದಿಮೆಯನ್ನು ಸ್ಥಾಪಿಸಲು ಇಷ್ಟಪಟ್ಟಲ್ಲಿ ಸಲಹೆ ಸೌಕರ್ಯಗಳಿಗೆ ಆರಿಸಿಕೊಳ್ಳಬೇಕಾದ ಸಂಸ್ಥೆಗಳು ಯಾವುವು?	2	ಏಪ್ರಿಲ್ 2015
4	❖ 'ಉದ್ಯಮಿಯು ದೇಶವೊಂದರ ಸಂಪತ್ತು' ಹೇಗೆ? ❖ ಉದ್ದಿಮೆಗಾರನು ಒಂದು ದೇಶದ ಆರ್ಥಿಕ ಅಭಿವೃದ್ಧಿಗೆ ಹೇಗೆ ಸಹಾಯ ಮಾಡುತ್ತಾನೆ?	2 3	ಜೂನ್ 2016 ಸೆಪ್ಟೆಂಬರ್ 2020
5	❖ ಉದ್ಯಮಿ / ಉದ್ಯಮಗಾರಿಕೆಯ ಗುಣಲಕ್ಷಣಗಳಾವುವು? ❖ ಉದ್ಯಮಿಯ ಗುಣಲಕ್ಷಣಗಳನ್ನು ಪಟ್ಟಿ ಮಾಡಿ. ❖ ಉದ್ಯಮಗಾರಿಕೆಯ ಗುಣಲಕ್ಷಣಗಳನ್ನು ತಿಳಿಸಿ.	3 3 3	ಏಪ್ರಿಲ್ 2018 ಜೂನ್ 2018 ಜೂನ್ 2022
6	❖ ಉದ್ಯಮಿಯ ಕಾರ್ಯಗಳನ್ನು ಪಟ್ಟಿ ಮಾಡಿ. ❖ ಉದ್ಯಮಿಯ ಮುಖ್ಯ ಕಾರ್ಯಗಳನ್ನು ಪಟ್ಟಿ ಮಾಡಿ.	3 3	ಏಪ್ರಿಲ್ 2019 ಜೂನ್ 2020
ಅಧ್ಯಾಯ - 3 : ಗ್ರಾಹಕ ಶಿಕ್ಷಣ ಮತ್ತು ರಕ್ಷಣೆ		1,2 ಅಂಕಗಳು	
1	❖ ಟೆಲಿ ಶಾಪಿಂಗ್ ಎಂದರೆ A) ಮನೆಯಲ್ಲಿಯೇ ಕುಳಿತು ವ್ಯಾಪಾರ ಮಾಡುವುದು. B) ವಿದೇಶಿ ಮಟ್ಟದಲ್ಲಿ ವ್ಯಾಪಾರ ಮಾಡುವುದು. C) ಆಂತರಿಕ ವ್ಯಾಪಾರ ಮಾಡುವುದು. D) ಚಿಲ್ಲರೆ ವ್ಯಾಪಾರ ಮಾಡುವುದು.	1	ಜೂನ್ 2019
2	❖ ಭಾರತದಲ್ಲಿ ಗ್ರಾಹಕ ಸಂರಕ್ಷಣಾ ಕಾಯ್ದೆಯನ್ನು ಜಾರಿಗೆ ತಂದ ವರ್ಷ A) 1966 B) 1976 C) 1986 D) 1996 ❖ ಭಾರತದಲ್ಲಿ ಗ್ರಾಹಕ ಸಂರಕ್ಷಣಾ ಕಾಯ್ದೆಯನ್ನು ಜಾರಿಗೆ ತಂದ ವರ್ಷ A) 1962 B) 1968 C) 1976 D) 1986	1 1	ಜುಲೈ 2021 ಜೂನ್ 2022
3	❖ ವಿಶ್ವ ಗ್ರಾಹಕ ದಿನವನ್ನು ಆಚರಿಸುವುದು A) ನವೆಂಬರ್ 14 ರಂದು B) ಫೆಬ್ರರಿ 14 ರಂದು C) ಮಾರ್ಚ್ 15 ರಂದು D) ಆಗಸ್ಟ್ 15 ರಂದು ❖ ವಿಶ್ವ ಗ್ರಾಹಕ ದಿನಾಚರಣೆಯನ್ನು ಯಾವಾಗ ಆಚರಿಸಲಾಗುತ್ತದೆ?	1 1	ಸೆಪ್ಟೆಂಬರ್ 2021 ಏಪ್ರಿಲ್ 2019
4	❖ ವಿಶ್ವ ಗ್ರಾಹಕ ಆಂದೋಲನದ ಚರಿತ್ರೆಯಲ್ಲಿ ಮಾರ್ಚ್ 15, 1962 ಏಕೆ ಒಂದು ಮಹತ್ವದ ದಿನವಾಗಿದೆ? ❖ ಪ್ರತಿ ವರ್ಷ ಮಾರ್ಚ್ 15ನೇ ತಾರೀಖಿನಂದು ವಿಶ್ವ ಗ್ರಾಹಕರ ದಿನವೆಂದು ಏಕೆ ಆಚರಿಸಲಾಗುತ್ತಿದೆ? ❖ ವಿಶ್ವ ಗ್ರಾಹಕ ಆಂದೋಲನ ಚರಿತ್ರೆಯಲ್ಲಿ ಮಾರ್ಚ್ 15, 1962 ಏಕೆ ಒಂದು ಮಹತ್ವದ	1 1 1 1	ಜೂನ್ 2020 ಜೂನ್ 2022 ಸೆಪ್ಟೆಂಬರ್ 2020 ಜೂನ್ 2022

	ದಿನವಾಗಿದೆ?		
5	<p>❖ ಒಬ್ಬ ವ್ಯಕ್ತಿಯು 15 ಲಕ್ಷ ಬೆಲೆ ಬಾಳುವ ಕಾರನ್ನು ಕೊಂಡಿರುತ್ತಾನೆ. ಆ ಕಾರಿನಲ್ಲಿ ಕೆಲವು ತೊಂದರೆಗಳಿದ್ದರೂ ಆ ಕಾರು ಕಂಪನಿಯವರು ಸರಿಯಾಗಿ ಸ್ವಂದಿಸುತ್ತಿಲ್ಲ. ಆಗ ಆ ವ್ಯಕ್ತಿಯು ಯಾವ ವೇದಿಕೆ / ಆಯೋಗಕ್ಕೆ ದೂರು ಸಲ್ಲಿಸಬೇಕು?</p> <p>A) ಜಿಲ್ಲಾ ಗ್ರಾಹಕ ವೇದಿಕೆ B) ರಾಜ್ಯ ಗ್ರಾಹಕರ ಆಯೋಗ</p> <p>C) ರಾಷ್ಟ್ರೀಯ ಗ್ರಾಹಕರ D) ಆಯೋಗ ಅಂತರರಾಜ್ಯ ಗ್ರಾಹಕರ ವೇದಿಕೆ</p>	1	ಏಪ್ರಿಲ್ 2019
6	<p>❖ ಪ್ರಸ್ತುತ ದಿನಗಳಲ್ಲಿ ಗ್ರಾಹಕರ ರಕ್ಷಣೆ ಏಕೆ ಅಗತ್ಯವಾಗಿದೆ?</p>	1	ಜೂನ್ 2019
7	<p>❖ ಗ್ರಾಹಕ ರಕ್ಷಣಾ ಕಾಯ್ದೆಯ ಉದ್ದೇಶಗಳೇನು?</p>	2	ಏಪ್ರಿಲ್ 2022

ಎಸ್.ಎಸ್.ಎಲ್.ಸಿ.

ಸವಿ ದಿಕ್ಕುಜಿ



ವೈಶಿಷ್ಟ್ಯಗಳು

- * 2015 ರಿಂದ 2022ರ ವರೆಗಿನ 8 ವಾರ್ಷಿಕ ಪರೀಕ್ಷೆಗಳ ಪ್ರಶ್ನೆಗಳನ್ನೊಳಗೊಂಡಿದೆ.
- +
- * 2015 ರಿಂದ 2022ರ ವರೆಗಿನ ಪೂರಕ ಪರೀಕ್ಷೆಗಳ ಪ್ರಶ್ನೆಗಳನ್ನೊಳಗೊಂಡಿದೆ.
- * ವರ್ಷವಾರು ಪ್ರಶ್ನೆಗಳನ್ನು ಜೋಡಿಸದೇ ಪರಿಕಲ್ಪನೆವಾರು ಪ್ರಶ್ನೆಗಳನ್ನು ಜೋಡಿಸಲಾಗಿದೆ.
- * ಒಂದೇ ಉತ್ತರವನ್ನು ಬಯಸುವ ವಿವಿಧ ಪ್ರಶ್ನೆಗಳನ್ನು ಒಂದೇ ಕಡೆ ನೀಡಲಾಗಿದೆ.
- * ಇದು ವಿದ್ಯಾರ್ಥಿಗಳಿಗೆ ಸುಲಭವಾಗಿ ಉತ್ತರಿಸಲು ಸಹಾಯಕವಾಗುವುದು.
- * ವಿದ್ಯಾರ್ಥಿಗಳಿಗೆ ಪರಿಚ್ಛಾ ಭಯವನ್ನು ಹೋಗಲಾಡಿಸುವುದು.
- * ಪ್ರಶ್ನೆಗಳನ್ನು ಅರ್ಥೈಸಿಕೊಂಡು ಹೆಚ್ಚು ಅಂಕ ಗಳಿಸಲು ಪ್ರೇರೇಪಿಸುವುದು.



ಮಹಾದೇವಪ್ಪ. ಕುಂದರಗಿ
ಸರ್ಕಾರಿ ಪ್ರೌಢಶಾಲೆ ಆವತಿ. ಚಿಕ್ಕಮಗಳೂರು

